


KAIROS



II

PREFACE

반갑습니다. 조현재입니다.

‘MASTER 기출 분석’으로 수험생 여러분들에게 인사를 드린 게 엊그제 같은데 시간이 금세 흘러 어느덧 2025년이 되었습니다.

올해 만나는 수험생 여러분 중에서는 이제 갓 고3이 되어 수능을 준비하는 수험생도 있겠고,

작년에 이어 이번엔 한 번 더 만나게 되는 수험생도 있을 것입니다.

2026학년도 수능 사회·문화 첫 출발을 여러분과 함께 할 수 있어 영광입니다.

작년, 2025학년도 대학수학능력시험에서의 사회·문화는

줄글 형태로 된 새로운 주제의 문제들이 대거 출제되는 해였습니다.

대표적으로 6월 모의평가의 전반적인 사례형 문항들과 9월 모의평가 1번 문항이 그렇습니다.

기존 2023학년도까지의 수능은 오로지 자료 분석에만 집중된 시험이었다면,

2024학년도 수능은 개념을 이리저리 굴러 시험 시간을 압박하는 퍼즐형 문제들이 난이도를 올렸고,

2025학년도 수능은 사례 속에서의 개념을 정확하게 파악하여 풀어야 하는 문제들이 난이도를 올렸습니다.

해가 바뀔 때마다 출제되는 문제들의 유형이 탈바꿈되니 2026학년도 역시 예측불허의 한 해가 될 것 같습니다.

따라서, 수험생 여러분들께서는 사회·문화의 모든 개념과 유형들을 섭렵한다는 굳센 마음가짐을 가지고 학습에 임하셔야 합니다.

하지만 크게 걱정하실 필요는 없습니다. 사회·문화 개념의 분량이 다른 과목들에 비해 상대적으로 적은 것은 사실이고,

다양한 퍼즐 및 자료 분석 유형들 또한 몇 문제를 차근차근 풀어보면 금방 익숙해지니까요.

『KAIROS II』는

2024학년도와 2025학년도의 사회·문화 평가원 기출과 그 해설을 정리한 자료집입니다.

이전의 『KAIROS I』은 2021~2023학년도의 평가원 기출을 모았고, 개인 과외 자료로만 사용하였지만,

이번 『KAIROS II』는 더 많은 수험생 여러분들을 만나 함께 수험 생활을 이겨나가하고자 합니다.

‘KAIROS’는 그리스 로마 신화에 등장하는 시간의 신 중 하나로 ‘기회의 시간’, ‘기회를 잡는 시간’을 의미합니다.

『KAIROS II』는 개념서가 아니기에 사회·문화를 처음 학습하는 여러분들에게

사회·문화의 완전한 기초가 되어주는 데에는 한계가 있을 것입니다.

그러나, 이 자료집은 사회·문화의 개념을 공부하며 부스터로서의 역할은 충실하게 해낼 수 있을 것이라 확신합니다.

따라서 저는 수험생 여러분들이 사회·문화에 첫걸음을 내딛을 때,

『KAIROS II』가 개념과 기출을 일망타진할 수 있도록 수험생 여러분들을 뒤에서 밀어드림으로써

여러분께서 사회·문화 1등급에 빠르게 가까워질 수 있는 ‘기회를 잡는 시간’이 되었으면 좋겠습니다.

2026학년도 대학수학능력시험을 준비하면서

수험생 여러분의 지친 머리와 마음을 사회·문화로 식히고,

2026학년도 대학수학능력시험이 지나고서도

수험생 여러분들이 활짝 웃는 연말이 될 수 있도록,

그리고 수험생 신분을 벗어난 뒤에도 ‘사회·문화’라는 과목이 좋은 기억으로 남을 수 있도록

저 역시 열심히 일조하겠습니다.

함께 올 한 해 수능 사회·문화를 정복해 봅시다.

그럼, 본문에서 뵙겠습니다.

CONTENTS

『KAIROS II』는 세 개의 PART와 스물다섯 개의 SECTION으로 구성되어 있습니다.

PART I: 스물한 개의 SECTION으로 구성되었고, 개념을 다룹니다. 가장 기본적인 출제 형식의 사례 문제부터 정보량이 많고 복잡한 사례 문제와 최근 들어 난도가 높아진 퍼즐 문제까지. 명확한 개념을 알고 있어야 풀 수 있는 99개의 문제를 통해 자신의 개념 학습 상태를 복습하고 점검하는 시간이 되길 바랍니다.

PART II: 세 개의 SECTION으로 구성되었고, '사회·문화의 시그니처'라고도 불리는 자료 분석을 다룹니다. 이제는 자료 분석의 기본이 된 계층 이동부터 개념 퍼즐의 난도가 높아진 요즘도 여전히 40~50%대의 정답률을 유지하고 있는 사회 보장 제도와 인구 부양비까지. 문제마다 각자의 개성과 색채가 뚜렷하고 매력적인 18개의 문제를 통해 자신의 테크닉을 마음껏 발휘하고 향상할 수 있는 시간이 되길 바랍니다.

PART III: 한 개의 SECTION으로 구성되었고, 최근 시험에서의 출제 빈도가 낮은 개별 주제들을 다룹니다. 그렇다고 해당 주제를 공부하지 않아서는 안 됩니다. 조금은 낯설 수 있는 3개의 문제를 통해 자주 마주해본 적이 없는 주제일지라도 사회·문화의 모든 주제를 정복하겠다는 당찬 마음가짐을 가지고 공부할 수 있는 시간이 되길 바랍니다.

ANSWER: 채점의 속도를 높여줄 빠른 정답과 해설로 구성되어 있습니다. 해설은 제가 직접 문제를 푸는 과정과 그 과정에서 떠올린 생각 및 메모를 정리하여 작성했습니다. 굳이 긴 해설이 필요 없는 문제들의 해설은 과감하게 줄이고 자료 분석과 같은 중요한 문제들의 해설은 수험생의 시각에서 풀 수 있도록 작성한 가장 세세하고 깔끔한 해설을 준비했습니다. 문제를 푸는 과정과 그때마다 떠올려야 하는 아이디어들을 얻을 수 있을 것입니다.

PART I -----	5	PART II -----	41
Section 01. 자연 현상 vs 사회·문화 현상	6	Section 22. 계층 이동	42
Section 02. 사회·문화 현상을 바라보는 관점	8	Section 23. 사회 보장 제도	45
Section 03. 사회 과학 연구 방법	10	Section 24. 인구 부양비	48
Section 04. 자료 수집 방법	13		
Section 05. 사회 실재론 vs 사회 명목론	16		
Section 06. 지위·역할·사회화	17		
Section 07. 사회 집단과 사회 조직	18		
Section 08. 관료제 vs 탈관료제	20		
Section 09. 일탈 이론	21	PART III -----	51
Section 10. 문화의 의미와 속성	24	Section 25. 미분류 주제	52
Section 11. 문화 이해 태도	27		
Section 12. 주류 문화·하위문화·반(反)문화	28		
Section 13. 대중문화와 대중매체	30		
Section 14. 문화 변동	31		
Section 15. 사회 불평등 현상을 바라보는 관점	33		
Section 16. 사회적 소수자	33		
Section 17. 빈곤	35	ANSWER -----	53
Section 18. 진화론 vs 순환론	36	QUICK ANSWER	54
Section 19. 사회 운동	38	PART I	54
Section 20. 산업 사회 vs 정보 사회	39	PART II	66
Section 21. 세계화와 정보화	40	PART III	73

PROGRESS TABLE

문제를 풀고 맞은 문제와 틀린 문제를 정리해 봅시다. 여러분들이 어떤 주제가 약한지, 어디에 중점을 두고 공부를 해야 하는지 쉽게 파악하실 수 있을 것입니다. 음영 처리 되어있는 문제는 정답률이 60% 미만인 난이도 '상'에 해당하는 문제입니다.

SECTION		정답률	난이도	2406	2409	2411	2506	2509	2511	오답 체크	2회독
PART I											
01	자연 현상 vs 사회·문화 현상	78%	★★	001	002	003	004	005	006		
02	사회·문화 현상을 바라보는 관점	74%	★★★★	007	008	009	010	011	012		
03	사회 과학 연구 방법	69%	★★★★	013	014	015	016	017	018		
04	자료 수집 방법	72%	★★★★	019	020	021	022	023	024		
05	사회 실재론 vs 사회 명목론	82%	★★	025	026	027	028	029	030		
06	지위·역할·사회화	83%	★★	031				032			
07	사회 집단과 사회 조직	58%	★★★★★		033	034	035	036	037		
08	관료제 vs 탈관료제	80%	★★	038	039	040	041	042	043		
09	일탈 이론	73%	★★★★	044	045	046	047	048	049		
10	문화의 의미와 속성	64%	★★★★★	050	051	052	053	054	055		
11	문화 이해 태도	93%	★	056	057	058		059	060		
12	주류 문화·하위문화·반(反)문화	87%	★	061	062	063	064		065		
13	대중문화와 대중매체	89%	★				066	067	068		
14	문화 변동	76%	★★	069	070	071	072	073	074		
15	사회 불평등 현상을 바라보는 관점	64%	★★★★★				075		076		
16	사회적 소수자	87%	★	077		078	079	080	081		
17	빈곤	79%	★★		082	083					
18	진화론 vs 순환론	78%	★★	084	085	086	087	088	089		
19	사회 운동	88%	★	090	091	092		093	094		
20	산업 사회 vs 정보 사회	66%	★★★★	095		096					
21	세계화와 정보화	87%	★		097		098	099			
PART II											
22	계층 이동	73%	★★★★	100	101	102	103	104	105		
23	사회 보장 제도	44%	★★★★★	106	107	108	109	110	111		
24	인구 부양비	48%	★★★★★	112	113	114	115	116	117		
PART III											
25	미분류 주제			118	119		120				

PART I

[SECTION 01~21]

SECTION 01

★★★★☆ 78%

자연 현상 vs 사회·문화 현상

001

240601 | 81%

밑줄 친 ㉠~㉣과 같은 현상의 일반적인 특징에 대한 설명으로 옳은 것은?



기체가 초고온의 에너지를 받으면 기체와는 전혀 다른 성질을 띠는 상태가 되는데, 이를 플라즈마라고 합니다. 태양에서는 ㉠ 플라즈마 상태에서 핵융합 반응이 일어나고 막대한 양의 에너지가 방출됩니다. 핵융합 발전은 여기서 아이디어를 얻어 고효율의 에너지를 얻으려는 것입니다. 우리 과학자들이 인공 태양을 구현하려고 노력한 결과, 지난 ㉡월 ㉡일 ㉢ 초고온의 플라즈마 상태를 최장 시간 유지시키는 데 성공하였습니다. ㉣ 기체가 일정한 조건에 이르면 플라즈마로 변화하는데, 플라즈마가 실험로 진공 용기에 닿는 순간 핵융합 반응이 끝납니다. 핵융합 기술의 상용화를 위해서는 플라즈마를 실험로에 닿지 않도록 하는 것이 관건입니다. 연구자들은 ㉤ 플라즈마를 안정적으로 제어할 수 있도록 실험을 계속할 예정이라고 합니다.

NEWS

한국산 '핵융합' 인공 태양, 실험 성공

- ① ㉠과 같은 현상은 ㉡과 같은 현상과 달리 가치 함축적이다.
- ② ㉡과 같은 현상은 ㉣과 같은 현상에 비해 인과관계가 명확하다.
- ③ ㉢과 같은 현상은 ㉤과 같은 현상과 달리 보편성이 나타난다.
- ④ ㉤과 같은 현상은 ㉠과 같은 현상과 달리 개연성의 원리가 적용된다.
- ⑤ ㉠, ㉢과 같은 현상은 ㉡, ㉣과 같은 현상과 달리 경험적 자료로 연구할 수 있다.

002

240901 | 94%

밑줄 친 ㉠~㉣과 같은 현상의 일반적인 특징에 대한 설명으로 옳은 것은?

'람사르 데이'는 ㉠ 습지의 중요성을 널리 홍보하기 위해 마련한 행사이다. 참가자들은 ㉡ 습지에 버려진 비닐과 플라스틱을 재활용해 만든 옷을 입고 행사에 참여한다. 습지 보존이 중요한 이유는 ㉢ 습지가 생태계를 보호하는 역할을 하기 때문이다. 플랑크톤과 유기 물질이 풍부한 ㉣ 습지는 각종 오염 물질을 정화한다. 그뿐만 아니라 ㉤ 습지는 기후 위기의 요인 중 하나인 탄소 증가를 억제하는 역할도 한다.

- ① ㉠과 같은 현상은 불가치적이다.
- ② ㉡과 같은 현상은 존재 법칙이 적용된다.
- ③ ㉢과 같은 현상은 확실성의 원리가 적용된다.
- ④ ㉣과 같은 현상은 인과관계가 불분명하다.
- ⑤ ㉤과 같은 현상은 보편성과 특수성이 공존한다.

003

241101 | 87%

밑줄 친 ㉠~㉣과 같은 현상의 일반적인 특징에 대한 설명으로 옳은 것은?

지구 온난화로 인한 ㉠ 강물 속 용존 산소 감소가 수생 생물의 다양성을 위협한다는 보고서가 발표했다. 물속 용존 산소는 물속 생물의 호흡 과정에서 소비된다. 그런데 ㉡ 지구 온난화에 의해 수온이 상승하면 물속 생물의 호흡량이 증가하여 ㉢ 용존 산소가 더 빠르게 고갈된다. 보고서에서는 ㉣ 탄소 배출량 감축 정책이 실패할 경우 얕은 강에서 특정 어종이 사라질 정도로 수(水) 생태계의 ㉤ 생물 다양성이 훼손될 것으로 예측했다.

- ① ㉠과 같은 현상은 가치 함축적이다.
- ② ㉡과 같은 현상은 당위 법칙을 따른다.
- ③ ㉢과 같은 현상은 보편성보다 특수성이 강하게 나타난다.
- ④ ㉣과 같은 현상은 개연성의 원리가 적용된다.
- ⑤ ㉤과 같은 현상은 확실성의 원리가 적용된다.

004

250601 | 73%

밑줄 친 ㉠~㉣과 같은 현상의 일반적인 특징에 대한 설명으로 옳은 것은?

㉠ 사과에는 폴리페놀 화합물과 이를 산화시키는 효소가 포함되어 있다. 그래서 ㉡ 사과의 껍질을 깎아 공기 중에 노출시키면 산화가 일어나 퀴논이라는 물질이 만들어진다. 퀴논은 반응성이 높아 퀴논 간에 서로 화학 작용을 일으켜 ㉢ 갈색을 띠는 멜라닌 성분을 생성한다. 사과의 갈변을 막기 위해 ㉣ 짙은 사과 표면을 설탕 용액으로 코팅하여 산소와의 접촉을 줄이는 방법을 사용할 수 있다.

- ① ㉠과 같은 현상은 당위 법칙을 따른다.
- ② ㉡과 같은 현상은 확실성의 원리가 적용된다.
- ③ ㉢과 같은 현상과 달리 ㉣과 같은 현상은 물가치적이다.
- ④ ㉢과 같은 현상에 비해 ㉠과 같은 현상은 인과관계가 분명하다.
- ⑤ ㉢과 같은 현상과 달리 ㉣과 같은 현상은 경험적 자료로 연구할 수 있다.

005

250901 | 50%

밑줄 친 ㉠~㉣과 같은 현상의 일반적인 특징에 대한 설명으로 옳은 것은?

㉠ 모기에 물리지 않게 해주는 특수 오일이 개발되었다. 전자 현미경으로 모기를 확대해보면 다리에 미세한 털이 있다. ㉡ 사람의 젖은 피부에도 모기가 앉을 수 있는 것은 이 미세한 털이 물을 튕겨내기 때문이다. 하지만 특수 오일은 그러한 행동을 못 하게 하여 모기가 사람의 ㉢ 피부에 앉는 것을 차단하는 역할을 한다. 연구진은 “사람에 비유하면 눈에 발이 빠지는 것 같아 무서워서 달아나는 것으로 보인다.”라고 설명했다. 앞으로 이 오일은 ㉣ 뎅기열과 말라리아 등 전염병이 발생하는 지역에 큰 도움이 될 것이라고 연구진은 전했다.

- ① ㉠과 같은 현상은 필연성의 원리가 적용된다.
- ② ㉡과 같은 현상은 확률의 원리가 적용된다.
- ③ ㉡과 같은 현상과 달리 ㉣과 같은 현상은 가치 함축적이다.
- ④ ㉢과 같은 현상과 달리 ㉣과 같은 현상은 보편성과 특수성이 공존한다.
- ⑤ ㉢과 같은 현상과 달리 ㉠과 같은 현상은 인과 관계가 불분명하다.

006

251101 | 84%

밑줄 친 ㉠~㉣과 같은 현상의 일반적인 특징에 대한 설명으로 옳은 것은?

○○ 신문

2024년 □월 □일

뜨거워진 한반도, 과일 재배 지도가 바뀐다!

우리나라 사람들이 좋아하는 ㉠ 나주 배, 대구 사과와 같이 지역 특산물로 생산되고 있는 과일들이 더 이상 그 지역을 대표할 수 없을지도 모른다. 기후 변화로 ㉡ 연평균 기온이 올라갈수록 특정 과일이 자랄 수 있는 지역이 북상하기 때문이다. 이에 따라 ㉢ 사과 재배 가능 지역이 변할 것으로 예측된다. 대표적인 사과 재배지가 경북 지역에서 강원 지역으로 바뀌고 2090년경에는 ㉣ 국내에서 고품질의 사과 생산이 불가능할 것이라는 분석도 나온다. 폭염, 한파 등 ㉤ 기상 이변이 자주 발생하는 것은 뜨겁게 달아오른 지구가 인류에게 주는 마지막 경고일지도 모른다.

- ① ㉠과 같은 현상은 확률의 원리가 적용된다.
- ② ㉡과 같은 현상은 인과 관계가 불분명하다.
- ③ ㉢과 같은 현상은 필연성의 원리가 적용된다.
- ④ ㉢과 같은 현상과 달리 ㉣과 같은 현상은 물가치적이다.
- ⑤ ㉢과 같은 현상에 비해 ㉣과 같은 현상은 특수성이 강하다.

SECTION 02

★★★★☆ 74%

사회·문화 현상을 바라보는 관점

007

240603 | 80%

사회·문화 현상을 바라보는 관점 A, B에 대한 설명으로 옳은 것은?

A : 지배 집단과 피지배 집단은 재화나 권위 또는 권력과 같은 희소 자원을 차지하기 위해 서로 끊임없이 투쟁한다. 두 집단의 이익은 양립할 수 없으므로 갈등은 필연적이고 자연스러운 현상이다.

B : 사회 체계는 기본적으로 균형 상태를 유지하기 때문에 적대, 긴장, 모순, 투쟁과 같은 갈등은 일시적인 현상이다. 따라서 갈등은 균형을 유지하려는 사회 체계의 속성으로 인하여 머지않아 조화롭게 조정된다.

- ① A는 상황 정의에 기초한 개인 간 상호 작용을 중시한다.
- ② B는 사회적 희소가치의 불균등한 분배가 불가피하다고 본다.
- ③ A는 B와 달리 기득권층의 이익을 대변하는 논리로 사용된다는 비판을 받는다.
- ④ B는 A와 달리 질서와 안정성을 바탕으로 한 점진적인 사회 변동을 설명하기 어렵다.
- ⑤ A와 B는 모두 개인에 대한 사회 구조의 영향력을 간과한다는 비판을 받는다.

008

240919 | 65%

다음은 사회·문화 현상을 바라보는 관점 A~C를 구분하는 질문에 대한 학생의 답변과 교사의 채점 결과이다. 이에 대한 설명으로 옳은 것은? (단, A~C는 각각 기능론, 갈등론, 상징적 상호 작용론 중 하나임.) [3점]

질문	답변		
	갑	을	병
A는 B와 달리 지배 집단과 피지배 집단 간 갈등이 사회 발전의 원동력이라고 보는가?	아니요	아니요	예
A, C는 B와 달리 개인의 행위를 강제하는 사회 구조를 중시하는가?	예	아니요	예
(가)	예	아니요	아니요
(나)	예	아니요	예
채점 결과	3점	2점	3점

* 교사는 질문별로 채점하고, 질문당 옳은 답변을 쓴 경우는 1점, 틀린 답변을 쓴 경우는 0점을 부여함.

- ① A는 C와 달리 사회가 본질적으로 변동을 지향한다고 본다.
- ② B는 A와 달리 다양한 사회 제도의 상호 의존 관계에 주목한다.
- ③ C는 B와 달리 인간이 상황 정의에 기초하여 행동한다고 본다.
- ④ (가)에는 'B는 A와 달리 행위자의 능동성을 중시하는가?'가 들어갈 수 있다.
- ⑤ (나)에는 'A는 C와 달리 기득권층의 이익을 대변한다는 비판을 받는가?'가 들어갈 수 있다.

009

241104 | 76%

사회·문화 현상을 바라보는 관점 A~C에 대한 설명으로 옳은 것은? (단, A~C는 각각 기능론, 갈등론, 상징적 상호 작용론 중 하나임.) [3점]

교사 : A, B, C 중 하나를 선택한 후 해당 관점에 대해 설명해 보세요.
갑 : A는 사회가 생물 유기체처럼 균형을 유지한다고 전제합니다. 조화와 균형은 정상적 상태로, 부조화와 불균형은 병리적 상태로 봅니다.
을 : B는 사회를 구성하는 하위 요소가 사회 전체의 존속과 통합을 위한 역할을 수행한다고 봅니다. 또한 B는 사회 각 부분에 존재하는 복잡한 관계를 지배와 피지배의 관계로 단순화합니다.
교사 : 갑은 옳게, 을은 틀리게 설명했습니다. 을의 설명에는 정작 B의 내용은 없고, A와 C의 내용만 있네요.

- ① A는 B와 달리 개인의 상황 정의와 의미 해석을 강조한다.
- ② B는 C와 달리 사회에 내재한 구조적 모순을 중심으로 사회 현상을 설명한다.
- ③ C는 A와 달리 기득권층의 이익을 옹호한다는 비판을 받는다.
- ④ '대립과 갈등을 사회의 본질적 속성으로 보는가?'라는 질문으로 A와 B를 구분할 수 없다.
- ⑤ '사회 각 제도의 상호 의존적 관계에 주목하는가?'라는 질문으로 B와 C를 구분할 수 있다.

010

250602 | 68%

다음 글에서 도출할 수 있는 사회·문화 현상을 바라보는 필자의 관점에 대한 옳은 설명만을 <보기>에서 있는 대로 고른 것은? [3점]

개별 구성원의 이익과 집합체의 이익 간 불일치는 사회적 갈등으로 나타날 수 있다. 이때 중요한 것은 서로 다른 개인들의 이익이 사회적 관계 내에서 작용한다는 점이다. 개인은 자신의 이익을 온전히 추구하기 위해 사회 내 구조화된 관계에 의해 규정된 역할 속에서 다른 구성원들의 이익 추구 과정을 고려해야만 한다. 이러한 과정을 통해 집합체는 안정적인 상태에 도달한다.

ㄱ. 대립과 갈등을 사회의 본질적 속성으로 본다.
ㄴ. 질서와 안정에 기반한 점진적 사회 변동을 설명하기 어렵다.
ㄷ. 사회적 갈등을 균형 회복을 위한 일시적인 과정으로 이해한다.

- ① ㄴ ② ㄷ ③ ㄱ, ㄴ ④ ㄱ, ㄷ ⑤ ㄱ, ㄴ, ㄷ

011

250906 | 72%

사회·문화 현상을 바라보는 갑~병의 관점에 대한 설명으로 옳은 것은? [3점]

갑 : 계층적 지위가 개인의 능력과 노력에 따라 결정된다고 하지만 불공정한 사회 구조가 사회적 희소가치의 분배를 일방적으로 결정하는 것이 현실입니다.
을 : 아닙니다. 계층적 지위는 개인이 자신의 능력과 노력을 통해 정당하게 얻은 결과이며, 우리 사회 대다수 구성원은 이를 당연한 것으로 받아들이고 있습니다.
병 : 계층적 지위는 개인의 출신이나 능력으로 결정되는 것이 아닙니다. 평소 타인의 시선을 의식하고 말투와 옷차림에 신경 쓰면서 자신의 계층을 인식하는 것처럼 계층적 지위는 사람들과 교류하는 과정 속에서 형성됩니다.

- ① 갑의 관점은 사회 불평등 현상이 불가피하다고 본다.
- ② 을의 관점은 개인의 행위에 미치는 사회 구조의 영향력을 중시한다.
- ③ 병의 관점은 사회 현상을 갈등과 대립의 측면에서만 파악한다는 비판을 받는다.
- ④ 갑, 병의 관점과 달리 을의 관점은 지배 집단과 피지배 집단의 이익이 조화를 이루기 어렵다고 본다.
- ⑤ 을, 병의 관점과 달리 갑의 관점은 기득권층의 이익을 옹호하는 논리로 활용된다는 비판을 받는다.

012

251102 | 83%

다음 글에서 사회·문화 현상을 바라보는 필자의 관점에 대한 옳은 설명만을 <보기>에서 고른 것은? [3점]

사회 체계 안에서 인간의 상호 작용이 작동하는 이유는 행위자들에게 할당되는, 분화된 역할 구조가 있기 때문이다. 개인은 역할 구조 속에서 사회가 기대하는 행동을 수행하게 된다. 이렇게 개인이 사회의 한 부분으로서 공유된 기대에 부응하여 다른 부분과 유기적으로 상호 작용을 함에 따라 사회라는 완전체가 형성된다.

ㄱ. 상황 정의에 기초한 개인 간 상호 작용을 중시한다.
ㄴ. 개인 행위자의 능동적이고 자율적인 측면을 중시한다.
ㄷ. 사회의 각 부분이 상호 의존적 관계를 맺는다고 본다.
ㄹ. 사회는 스스로 균형을 유지하려는 속성을 지닌다고 본다.

- ① ㄱ, ㄴ ② ㄱ, ㄷ ③ ㄴ, ㄷ ④ ㄴ, ㄹ ⑤ ㄷ, ㄹ

SECTION 03

★★★★☆ 69%

사회 과학 연구 방법

013

240602 | 88%

다음 자료에 대한 옳은 설명만을 <보기>에서 고른 것은? [3점]

갑은 '소비 활동으로 느끼는 행복'이라는 ㉠연구 주제를 설정하였다. ㉡관련 연구를 검토한 뒤, 소득 수준에 따라 소비 활동으로 느끼는 행복감이 소비 활동 유형별로 어떻게 다른지 파악하기 위해 가설을 설정하였다. 아래는 가설 중 하나이다.

<가설>

소득 수준이 높은 집단이 소득 수준이 낮은 집단보다 A 활동으로 느끼는 행복감이 높을 것이다.

갑은 ㉢가설 검증을 위해 성인 2,000명을 대상으로 ㉣설문 조사를 실시하였다. 소득 수준은 응답자의 월평균 소득을 기준으로 상위 50%를 ㉤소득 수준이 높은 집단, 나머지를 ㉥소득 수준이 낮은 집단으로 구분하였다. 소비 활동의 유형은 일상적 소비(생활용품 구입 등)와 문화적 소비(여가 활동비 지출 등)로 구분하였고, 각 유형별 소비 활동으로 느끼는 행복감은 5점 척도(점수가 클수록 행복감이 높음)로 측정하였다.

자료 분석 결과, 일상적 소비 활동으로 느끼는 행복감은 소득 수준이 높은 집단에서 2.6점, 소득 수준이 낮은 집단에서 3.6점으로 나타났다. 문화적 소비 활동으로 느끼는 행복감은 소득 수준이 높은 집단에서 3.6점, 소득 수준이 낮은 집단에서 2.0점으로 나타났다. 분석 결과는 통계적으로 유의미하였다.

가. ㉠ 단계는 ㉡ 단계와 달리 연구자의 가치 중립이 요구된다.
 나. ㉢은 2차 자료를, ㉣은 1차 자료를 수집하기 위한 것이다.
 다. ㉤은 실험 집단, ㉥은 통제 집단이다.
 라. <가설>은 A가 '일상적 소비'이면 기각되고, '문화적 소비'이면 수용된다.

- ① 가, 나 ② 가, 다 ③ 나, 다 ④ 나, 라 ⑤ 다, 리

014

240903 | 75%

다음 연구에 대한 설명으로 옳은 것은? [3점]

연구자 갑은 집단 간 경쟁이 자신이 속한 집단 구성원에 대한 긍정적 평가를 증가시킬 것이라고 예상하며 연구를 진행하였다. 갑은 서로 모르는 사이의 청소년을 연구 참여자로 모집한 후 무작위로 네 모둠으로 구분하였다. 모둠 A와 모둠 B는 숲 체험 활동을 하였고, 모둠 C는 모둠 A의, 모둠 D는 모둠 B의 활동을 관리하였다. 1일 차에 모둠 A와 모둠 B는 서로의 존재를 알지 못하는 상태에서 주어진 과업을 독립적으로 수행하였다. 갑은 2일 차에 모둠 A와 모둠 B에게 경쟁 모둠의 존재를 알리고, 과업을 먼저 해결하는 모둠에게만 별도의 상품을 제공한다고 공지하였다. 한편 모둠 C와 모둠 D는 자신이 관리하는 모둠 A와 모둠 B가 과업 수행 중 나눈 대화에 나타난 칭찬과 비난의 횟수를 관찰하여 일자별로 기록하였다. 갑이 ㉠모둠 C와 모둠 D가 관찰하며 기록한 자료를 분석한 결과, 모둠 A와 모둠 B 모두에서 1일 차 대비 2일 차에 소속 모둠원에 대한 ㉡칭찬 횟수는 증가하였고, ㉢비난 횟수는 감소하였다.

- ① 갑은 양적 연구 방법과 질적 연구 방법을 모두 활용하였다.
- ② 모둠 A와 B는 실험 집단이고, 모둠 C와 D는 통제 집단이다.
- ③ 1일 차와 2일 차 모두 독립 변수에 대한 처치가 이루어졌다.
- ④ ㉠은 갑의 연구에서 1차 자료에 해당한다.
- ⑤ ㉡은 ㉠과 달리 종속 변수에 대한 조작적 정의이다.

015

241105 | 60%

다음 자료에 대한 설명으로 옳은 것은?

연구자 갑은 정부 정책 도입에 대한 여론 조사 연구에서 '정보 제공이 응답자의 ㉠응답 반응에 영향을 미칠 것이다.'라는 가설을 설정하였다. 이를 검증하기 위해 질문 방식을 정부 정책에 대한 정보 제시 없이 정부 정책 도입에 대한 동의 여부를 묻는 것(유형A), 정부 정책에 대한 중립적인 정보를 제시한 후 정부 정책 도입에 대한 동의 여부를 묻는 것(유형B), ㉡정부 정책에 대한 긍정적인 정보를 제시한 후 정부 정책 도입에 대한 동의 여부를 묻는 것(유형C)으로 구분한 후, 다음과 같이 두 단계에 걸쳐 연구를 진행하였다.

- 1단계 : 동일한 정부 정책 도입에 대해 비슷한 시기에 수행된 여론 조사 결과를 수집하였다. 자료 분석을 통해 여론 조사에서 ㉢정보 제공 여부가 응답자의 의사 결정에 영향을 미칠 수 있음을 확인하였다.
- 2단계 : 1단계에서 확인한 결과를 경험적으로 검증하기 위해 성인 200명을 무작위로 선정한 후 실험을 실시하였다. 유형A를 배부하여 ㉣정부 정책 도입에 대한 찬반 여부를 측정한 결과 응답자의 60%가 제안된 정책에 반대하였다. 반대한 사람을 40명씩 무작위로 세 집단으로 나눈 뒤, 첫째 집단에는 유형A에, 둘째 집단에는 유형B에, 셋째 집단에는 유형C에 각각 응답 하도록 하였다. 세 집단의 응답을 분석한 결과, 첫째 집단과 둘째 집단 간, 첫째 집단과 셋째 집단 간에는 제안된 정책에 반대하는 비율이 유의미하게 차이가 났지만, 둘째 집단과 셋째 집단 간에는 유의미한 차이가 없었다.

- ① 2단계에서 갑은 사전 검사를 실시하지 않았다.
- ② 유형B에 응답한 사람들은 통제 집단, 유형C에 응답한 사람들은 실험 집단이다.
- ③ ㉠은 ㉡에 대한 조작적 정의이다.
- ④ ㉠은 질문지 작성 시 특정 응답을 유도한 것이므로 갑의 연구 결과를 일반화할 수 없다.
- ⑤ 2단계에서 도출한 분석 결과는 ㉢을 지지한다.

016

250605 | 80%

밑줄 친 ㉠~㉢에 대한 설명으로 옳은 것은? [3점]

연구자 갑은 ㉠'온라인 게임 내 이용자들의 사회적 관계 형성에 대한 이해'를 연구 주제로 설정하였다. 우선 선행 연구를 통해 온라인 게임에서는 ㉡게임 캐릭터 레벨을 기준으로 게임 이용자들 간 서열이 형성된다는 것을 확인하였다. 이어 서열 형성 과정을 파악하기 위한 ㉢연구를 수행하였다. 갑은 온라인 게임에 접속하여 10개월 동안 게임 이용자로 활동하며 선행 연구 결과를 재확인하였지만, 게임 이용자들의 대면 모임에 함께 참여하면서 그들의 ㉣연령, 학력, 소득 등이 드러난 이후에는 기존에 형성되었던 온라인 게임 내 이용자들 간 서열이 변화하는 모습을 관찰하였다. 이에 갑은 이 결과를 일반화하기 위해 ㉤추가 연구를 실시하였다. ㉥온라인 게임 이용자 1,000명을 무작위로 추출하여 ㉦설문 조사를 실시하고 분석한 결과 갑은 ㉧온라인 게임에만 참여한 사람들은 게임 캐릭터 레벨에 의존해서 서열을 형성한 반면, ㉨대면 모임에 참여한 사람들은 연령, 학력, 소득 등을 중심으로 서열이 형성되는 것을 확인하였다.

- ① ㉠ 단계와 ㉡ 단계 모두 연구자의 가치 중립이 요구된다.
- ② ㉢에서 ㉣은 표본 집단, ㉤은 모집단에 해당한다.
- ③ ㉢에서 ㉣은 독립 변수, ㉤은 종속 변수에 해당한다.
- ④ ㉨은 ㉧의 결과 중 대면 모임 이후 발견한 연구 결과를 지지한다.
- ⑤ ㉢과 ㉣은 모두 양적 연구이다.

017

250905 | 62%

밑줄 친 ㉠~㉣에 대한 옳은 설명만을 <보기>에서 있는 대로 고른 것은? [3점]

갑은 A국 65세 이상 노인의 ㉠ 사회 관계망이 문화 소비에 미치는 영향을 파악하기 위해 문화 소비에 대한 ㉡ 가족 관계망, 지인 관계망, 단체 관계망의 영향을 연구하였다. 갑은 전국에서 ㉢ 65세 이상 노인 남녀 1,000명을 추출하여 설문 조사를 실시하였다. 문화 소비는 지난 1년간 공연과 전시를 관람한 횟수로, 가족 관계망은 평소 교류하는 가족과 친척의 수로, 지인 관계망은 가족과 친척 이외에 평소 교류하는 사람의 수로, 단체 관계망은 참여하는 단체의 수로 파악하였다. ... (중략) ... ㉣ 성별에 따른 분석 결과를 보면, 여성의 경우 문화 소비와 사회 관계망 사이에 모두 유의미한 정(+)의 관계가 나타났다. 남성의 경우 문화 소비와 단체 관계망 사이에 유의미한 정(+)의 관계가 나타났으나, 문화 소비와 가족 관계망, 문화 소비와 지인 관계망 사이에는 각각 유의미한 관계가 나타나지 않았다.

- ㄱ. ㉠은 ㉠의 조작적 정의에 해당한다.
- ㄴ. ㉡은 갑이 선정한 표본이다.
- ㄷ. ㉢로 65세 이상 남성의 경우 평소 교류하는 가족과 친척의 수가 많을수록 공연과 전시를 관람한 횟수는 감소한다는 것을 확인할 수 있다.

- ① ㄴ ② ㄷ ③ ㄱ, ㄴ ④ ㄱ, ㄷ ⑤ ㄱ, ㄴ, ㄷ

018

251105 | 53%

다음 자료에 대한 설명으로 옳은 것은? [3점]

갑은 고등학생의 학업 성취도와 문해력 간의 관계를 파악하고자 하였다. 이를 위해 □□ 지역 고등학생 200명을 대상으로 질문지를 통해 학업 성취도와 ㉠ 문해력 수준을 측정하였다. 이 자료에서 문해력을 기준으로, 상위 100명(A집단)과 하위 100명(B집단)으로 구분하여 학업 성취도를 분석하였다. 그 결과 ㉡ B집단의 학업 성취도가 A집단의 학업 성취도보다 유의미하게 낮았다.

을은 ㉢ ○○ 독서 프로그램이 고등학생의 문해력 증진에 효과가 있을 것이라 생각하고 이를 알아보기 위해 다음과 같이 연구를 진행하였다. 그는 갑과 연구 대상자의 동의를 받아, 갑의 연구에서 문해력이 낮은 것으로 판명된 집단을 무작위로 50명씩 C집단과 집단으로 나누고 C집단에겐만 4주간 ○○ 독서 프로그램을 적용하였다. 독서 프로그램 종료 시점에 같이 활용한 측정 도구로 ㉣ 문해력 수준을 측정한 결과, C집단의 문해력 수준은 유의미하게 높아졌으나 D집단의 문해력 수준은 이전과 차이가 없었다. 이후 을은 D집단에겐만 ○○ 독서 프로그램을 4주간 적용하였다. 그 결과 D집단의 문해력 수준이 높아져 최종적으로 ㉤ C집단과 D집단 간에는 문해력 수준이 유의미한 차이를 보이지 않았다.

- ① 갑의 연구에서 모집단은 □□ 지역 고등학생이다.
- ② ㉠은 을의 연구에서 사전 검사로 활용되었다.
- ③ ㉡은 문해력과 학업 성취도 간의 부(-)의 관계를 보여 준다.
- ④ ㉢은 을의 연구에서 실험 처치에 해당한다.
- ⑤ ㉣은 ㉢을 지지하는 근거로 사용할 수 없다.

SECTION 04

★★★★☆ 72%

자료 수집 방법

019

240606 | 82%

자료 수집 방법 A, B의 일반적인 특징에 대한 설명으로 옳은 것은?

빈민 지역인 □□마을에서 '가난의 문화'가 만들어지는 과정을 고찰하기 위해 같은 자료 수집 방법 A를, 을은 자료 수집 방법 B를 사용하여 공동 연구를 수행하였다.

같은 전체 주민을 대상으로 계량화된 자료 수집을 위한 설문 조사를 실시하여 주민들의 생활과 삶에 대한 만족도 등을 파악하였다. 고려자가 많아 주민을 직접 만나는 방식으로 설문 조사를 진행하였다.

을은 □□마을 복지관을 4주 동안 매주 2회씩 방문하여 주민들과 신뢰 관계를 형성한 후, 마을에 오래 거주한 주민 10명을 복지관에서 따로 만나 그들의 삶을 듣고 기록하는 조사를 진행하였다.

- ① A는 B에 비해 자료 수집 과정에서 조사자가 융통성을 발휘하기 용이하다.
- ② A는 B와 달리 조사 대상자와의 언어적 상호 작용이 필수적이다.
- ③ B는 A에 비해 구조화된 자료를 수집하기 용이하다.
- ④ B는 A에 비해 수집된 자료의 통계 처리가 용이하다.
- ⑤ A와 B는 모두 조사 대상자의 주관적 인식을 파악할 수 있다.

020

240910 | 66%

다음 자료에 대한 설명으로 옳은 것은? [3점]

□□(가)는 자료 수집 방법 A, B, C의 공통점과 차이점을 알아보기 위한 질문이다. □□(가)에 대한 '예', '아니오'의 응답을 통해 A와 B를 구분할 수 있지만, B와 C를 구분할 수 없다. 단, A~C는 각각 질문지법, 면접법, 참여 관찰법 중 하나이다.

- ① A가 질문지법이라면, (가)에는 '주로 질적 자료를 수집할 때 활용합니까?'가 들어갈 수 없다.
- ② A가 면접법이라면, (가)에는 '언어나 문자로 의사소통할 수 없는 대상으로부터 자료 수집이 가능합니까?'가 들어갈 수 있다.
- ③ C가 참여 관찰법이라면, (가)에는 '자료 수집 과정에서 연구 대상자의 응답이 필수적입니까?'가 들어갈 수 없다.
- ④ C가 질문지법이라면, (가)에는 '자료 수집 과정에서 표준화·구조화된 도구의 사용이 필수적입니까?'가 들어갈 수 있다.
- ⑤ (가)에 '문맹자에게 사용하기 어렵습니까?'가 들어간다면, B는 주로 방법론적 일원론을 전제로 한 연구에 활용된다.

021


241103 | 49%

자료 수집 방법 A~C의 일반적인 특징에 대한 설명으로 옳은 것은? [3점]

○ 갑은 진로 집중 학기제의 효과를 연구하기 위해 ○○고등학교 1학년 학생들의 학습 활동을 한 학기 동안 참관하며 관찰 일지를 작성하였다. 이후 해당 학교 학생과 교사를 대상으로 진로 집중 학기제의 효과에 대해 어떻게 인식하고 있는지 알아보기 위한 설문 조사를 진행하였다.

○ 을은 학생들의 교우 관계와 학교생활 만족도 간의 관계를 파악하기 위해 청소년 관련 연구기관이 발행한 심층 면접 조사 결과를 분석하였다. 이후 □□지역 고등학생들을 대상으로 구조화된 문항에 응답하도록 하였다.

갑은 A와 B를, 을은 B와 C를 사용하였습니다.



- ① A는 B와 달리 변인 간의 관계를 파악하는 연구에 주로 사용된다.
- ② B는 C와 달리 연구 대상자와의 언어적 상호 작용이 필수적이다.
- ③ C는 A에 비해 연구 대상자와의 정서적 교감 형성을 중시한다.
- ④ A는 B, C에 비해 다수를 대상으로 한 자료 수집에 유리하다.
- ⑤ C는 A, B와 달리 질적 자료의 수집에 주로 활용된다.

022

250609 | 71%

다음은 자료 수집 방법 A~C를 구분하는 질문에 대한 학생의 답변과 교사의 채점 결과이다. 이에 대한 설명으로 옳은 것은? (단, A~C는 각각 질문지법, 실험법, 면접법 중 하나임.) [3점]

질문	답변		
	갑	을	병
A는 인위적으로 통제된 상황에서 변수의 효과를 관찰하는 방법인가?	예	아니요	아니요
A에 비해 B는 자료 수집 과정에서 연구자가 유연성이나 융통성을 발휘하기 용이한 방법인가?	아니요	아니요	㉠
B에 비해 C는 주로 양적 연구에서 활용하는 자료 수집 방법인가?	예	아니요	예
(가)	아니요	아니요	예
채점 결과	3점	1점	2점

* 교사는 질문별로 각각 채점하고, 옳은 답변은 1점, 틀린 답변은 0점을 부여함.

- ① ㉠은 '아니요'이다.
- ② A에 비해 B는 독립 변수와 종속 변수의 관계를 검증하는 연구에 적합하다.
- ③ B와 달리 C는 조사 대상자와의 언어적 상호 작용이 필수적이다.
- ④ C와 달리 A는 조사 대상자의 주관적 인식을 파악할 수 있다.
- ⑤ (가)에는 'B에 비해 C는 소수의 응답자로부터 깊이 있는 정보를 수집하기에 용이한 방법인가?'가 들어갈 수 있다.

023

250904 | 78%

자료 수집 방법 A~D에 대한 설명으로 옳은 것은? (단, A~D는 각각 질문지법, 면접법, 차여 관찰법, 문헌 연구법 중 하나임.)

연구자 갈: '유치원생의 교우 관계와 자아 존중감' 연구를 위해서 A, B, C, D 중 어떤 자료 수집 방법을 쓰면 좋을까요?

연구자 을: 의사소통이 원활하지 않은 아동들의 특성을 고려해서 우선 A를 고려해볼 수 있겠습니다.

연구자 갈: 네, 좋습니다. 아동들이 우리를 의식해서 행동하지 않도록 주의가 필요하겠습니다.

연구자 병: 아동들은 글을 읽고 이해하는 능력이 낮아 B를 사용하기는 어렵습니다. 유치원 교사를 대상으로 한 설문 조사의 분석 결과들을 찾아보는 것도 대안이 될 수 있겠네요.

연구자 갈: 그렇게 하면 C를 활용한 양적인 분석이 가능하겠군요. 그리고 몇 명의 아동들에게라도 D를 사용하면 좋겠습니다. 아동의 자아 존중감을 분석하려면 대화를 통해 아동의 주관적 세계를 이해할 필요가 있습니다.

- ① A와 달리 B는 자료 수집 과정에서 구조화된 도구의 사용이 필수적이다.
- ② C에 비해 A는 자료 수집 과정에서 시·공간적 제약이 적다.
- ③ D와 달리 B는 연구자와 연구 대상자 간의 신뢰 관계 형성이 중요하다.
- ④ B와 C는 '연구 대상자의 주관적 인식을 파악할 수 있는가?'라는 질문으로 구분할 수 있다.
- ⑤ C와 D는 '연구자와 연구 대상자 간의 언어적 상호 작용이 필수적 인가?'라는 질문으로 구분할 수 없다.

024

251113 | 90%

갑~병이 사용한 자료 수집 방법에 대한 설명으로 옳은 것은? [3점]

○ 갑은 청소년이 휴대 전화에 부여하는 의미를 파악하기 위해 ○○ 고등학교 학생의 일상생활을 관찰한 연구 기관의 보고서를 분석함. 이후 휴대 전화 의존도가 높은 학생들에게 질문하여 사용 용도와 중독 증상 등에 대한 이야기를 깊이 있게 나누고 이 과정을 녹음함.

○ 을은 팬덤 문화 연구를 위해 ☆☆ 야구단의 팬클럽에 가입하여 6개월간 회원들과 경기를 관람하며 그들의 대화와 응원 모습을 기록함. 이후 아이돌 팬클럽의 열성팬을 대상으로 그들만의 친밀한 관계를 형성한 경험을 직접 듣고 심층적인 자료를 얻음.

○ 병은 대학생의 정치 성향과 정치 참여 연구를 위해 대학생 500명을 대상으로 구조화된 문항에 응답하도록 함. 또한 선거 관련 기관이 발간한 대학생 정치 성향 면접 조사 자료집을 분석하여 대학생의 정치 참여 과정을 연구함.

- ① 갑과 달리 을은 표준화된 도구로 대량의 자료를 획득하기 용이한 자료 수집 방법을 사용하였다.
- ② 병과 달리 갑은 인위적으로 통제된 상황에서 변수의 효과를 관찰하는 자료 수집 방법을 사용하였다.
- ③ 갑과 을 모두 현지에서 연구 대상자와 함께 생활하며 관심을 갖는 연구 현상을 관찰하는 자료 수집 방법을 사용하였다.
- ④ 갑과 병 모두 기존의 연구 결과물을 자신의 연구에 활용하는 자료 수집 방법을 사용하였다.
- ⑤ 을과 병 모두 연구 대상자와의 정서적 교감 형성을 중시하는 자료 수집 방법을 사용하였다.

SECTION 05

★★★★☆ 82%

사회 실재론 vs 사회 명목론

025

240607 | 93%

다음 글에 나타난 개인과 사회의 관계를 바라보는 관점에 대한 옳은 설명만을 <보기>에서 고른 것은? [3점]

사회는 개인의 주관적인 의식 세계를 초월하여 개인의 외부에 객관적으로 존재한다. 또한 사회는 그 자체 논리에 따른 질서와 구조를 가지며 이를 통하여 개인의 행동에 영향을 미친다.

- ㄱ. 개인이 주체적이고 능동적인 존재임을 강조한다.
- ㄴ. 사회 구조에 대한 개인의 불가항력성을 강조한다.
- ㄷ. 사회의 속성은 개인의 속성에 의해 결정된다고 본다.
- ㄹ. 사회 문제의 발생 원인을 개인의 의식보다 사회 제도와 구조에서 찾는다.

- ① ㄱ, ㄴ ② ㄱ, ㄷ ③ ㄴ, ㄷ ④ ㄴ, ㄹ ⑤ ㄷ, ㄹ

026

240918 | 93%

다음 글에 나타난 개인과 사회의 관계를 바라보는 관점에 대한 옳은 설명만을 <보기>에서 고른 것은?

사회학의 지적 관심은 사회적 사실에 있다. 사회적 사실은 단순히 개인적 사실을 모아 놓은 것과는 근본적으로 다른 성격을 지닌 고유한 대상이다. 법, 관습, 종교 생활, 화폐 체계와 같은 사회적 사실은 개인적 사실만을 통해서 발견될 수 없다.

- ㄱ. 사회를 개인의 외부에 존재하는 독자적인 실체로 본다.
- ㄴ. 사회는 개인의 이익을 실현하기 위한 수단이라고 본다.
- ㄷ. 사회의 특성이 개인의 특성으로 환원될 수 없다고 본다.
- ㄹ. 사회는 개인의 자율적인 의지에 의해 만들어진다고 본다.

- ① ㄱ, ㄴ ② ㄱ, ㄷ ③ ㄴ, ㄷ ④ ㄴ, ㄹ ⑤ ㄷ, ㄹ

027

241102 | 86%

다음 글에 나타난 개인과 사회의 관계를 바라보는 관점에 대한 옳은 설명만을 <보기>에서 고른 것은?

돈 자체가 가치를 지닌다는 믿음과 돈이 삶의 궁극적 목표라는 인식이 있다. 하지만 돈의 가치는 인간의 욕구에서 기인하는 심리적 사실에 불과하다. 돈은 인간이 그것을 갈망할 때 비로소 가치를 부여 받는다. 또한 돈은 사회적 결사의 매개체일 뿐이다. 사람은 돈을 매개로 아름다운 사회를 만들 수도, 차별과 위선이 만연한 사회를 만들 수도 있다. 결국 돈의 가치는 상대적, 수단적인 것이다. 돈은 '더 나은 삶'에 도달하기 위한 다리에 불과하며, 인간은 다리에서 살아갈 수 없다.

- ㄱ. 사회의 속성을 개인의 속성으로 환원할 수 있다고 본다.
- ㄴ. 사회는 개인의 이익을 실현해 주는 도구에 불과하다고 본다.
- ㄷ. 사회는 개인의 외부에 존재하는 독자적인 실체라고 본다.
- ㄹ. 사회의 구속력이 개인의 자유 의지보다 우위에 있다고 본다.

- ① ㄱ, ㄴ ② ㄱ, ㄷ ③ ㄴ, ㄷ ④ ㄴ, ㄹ ⑤ ㄷ, ㄹ

028

250607 | 83%

다음 글에서 도출할 수 있는 개인과 사회의 관계를 바라보는 필자의 관점에 대한 옳은 설명만을 <보기>에서 고른 것은? [3점]

개인들은 한데 모이고 공동으로 행동한다. 하지만 사회는 공동 행동만으로 실현되지 않는다. 사회가 스스로를 실현하는 방법 중 하나는 종교적 상징을 세우는 것이다. 종교적 상징은 구성원들의 집합적 감정을 이끌어내고, 이러한 감정은 개인들로 하여금 사회를 유지하게 하는 행동에 참여하게 만든다.

- ㄱ. 사회가 개인의 총합에 불과하다고 본다.
- ㄴ. 사회가 개인의 외부에 존재하는 실체라고 본다.
- ㄷ. 개인이 사회에 의해 구조화된 행동을 한다고 본다.
- ㄹ. 사회 규범은 개인들이 옳다고 믿기에 존재한다고 본다.

- ① ㄱ, ㄴ ② ㄱ, ㄷ ③ ㄴ, ㄷ ④ ㄴ, ㄹ ⑤ ㄷ, ㄹ

029

250902 | 62%

다음 글에서 개인과 사회의 관계를 바라보는 필자의 관점에 대한 옳은 설명만을 <보기>에서 고른 것은?

어떤 사람이 자신의 자연적 자유를 포기하고 사회의 구속을 받아들일 유일한 방도는 공동체에 속하지 않는 자들로부터 재산을 지키고 좀 더 많은 안전과 평화를 확보하기 위해 공동체를 결성하기로 합의하는 것뿐입니다.

- ㄱ. 개인은 사회 속에서만 존재의 의미를 가진다고 본다.
- ㄴ. 개인이 옳다고 믿기에 사회 규범이 존재한다고 본다.
- ㄷ. 사회는 개인의 외부에서 독자적으로 작동한다고 본다.
- ㄹ. 사회의 속성을 개인의 속성으로 환원할 수 있다고 본다.

- ① ㄱ, ㄴ ② ㄱ, ㄷ ③ ㄴ, ㄷ ④ ㄴ, ㄹ ⑤ ㄷ, ㄹ

030

251112 | 80%

다음 글에서 개인과 사회의 관계를 바라보는 필자의 관점에 대한 옳은 설명만을 <보기>에서 고른 것은?

계산적 심성은 개인들이 일상에서 결과를 예측하고 최선의 수단을 선택하여 합목적적으로 행동하도록 한다. 국가 관료제에 기반을 둔 행정과 로마법에 기초한 법률은 서구인들로 하여금 합목적적으로 행동하도록 하였다. 이렇게 서구 사회의 행정과 법률에 의해 만들어진 계산적 심성은 근대적 경제 성장을 이끌었다.

- ㄱ. 사회에 의해 개인은 구조화된 행동을 한다고 본다.
- ㄴ. 사회의 속성은 개인의 속성에 의해 결정된다고 본다.
- ㄷ. 사회는 개인 외부에 존재하는 독립적인 실체라고 본다.
- ㄹ. 사회는 개인 이익을 실현해 주는 도구일 뿐이라고 본다.

- ① ㄱ, ㄴ ② ㄱ, ㄷ ③ ㄴ, ㄷ ④ ㄴ, ㄹ ⑤ ㄷ, ㄹ

SECTION 06

★★★★☆ 83%

지위 · 역할 · 사회화

031

240612 | 86%

밑줄 친 ㉠~㉣에 대한 설명으로 옳은 것은? [3점]

㉠청소년 시절, K-pop에 매료되었던 외국인 갑은 한국으로 유학을 결심하고 ㉡○○대학교 ㉢조선공학과에 입학하였다. 졸업 후 대기업인 ㉣△△조선에 취직했지만, 어릴 적부터 동경하던 ㉠항공기 정비사가 되기 위해 ㉡2년 만에 자진 퇴사를 하였다. 이후 항공사에 입사한 갑은 ㉣항공기 정비 업무에 필요한 사내 교육 과정을 수료하고 항공기 정비 업무와 기술 교육을 받고 있다.

- ① ㉢은 2차 집단이자 비공식 조직이다.
- ② ㉠은 갑의 역할 행동에 대한 제재이다.
- ③ ㉣은 1차적 사회화 기관을 통해 이루어진 사회화이다.
- ④ ㉠과 ㉡은 모두 성취 지위이다.
- ⑤ ㉠은 ㉡과 달리 공식적 사회화 기관이다.

032

240903 | 81%

밑줄 친 ㉠~㉣에 대한 설명으로 옳은 것은? [3점]

어렵게 공무원이 된 갑은 ㉠안성 민원인과 낮은 보수 때문에 이직해야 할지, 안정적인 직장 생활을 계속할지 ㉡고민하였다. 그러던 중 취미 생활을 담은 갑의 개인 방송 채널이 유명해지자 지자체 홍보팀으로 ㉢발령받았다. 갑은 더 나은 방송 제작을 위해 ㉣촬영과 편집 방법을 새롭게 공부하고 있다. 갑의 배우자인 한식 요리사 을은 ㉠전통 음식의 보존과 현대화가 중요하다는 신념으로 퓨전 한식당을 운영하고 있다. 1년 전부터 전통 음식을 알리는 방송에서 고정 출연자로 활동하고 있어 매주 ㉡요리 프로그램에 출연하기 위한 준비로 바쁘다. 갑이 육아에 지쳐 방송 출연을 반대하자 을은 방송을 계속해야 할지, 육아에 전념해야 할지 ㉣고민하고 있다.

- ① ㉠은 성취 지위이다.
- ② ㉢은 공무원으로서 갑의 역할 행동에 대한 보상이다.
- ③ ㉡은 한식 요리사로서 을의 역할 행동에 해당한다.
- ④ ㉠과 달리 ㉣은 역할 갈등이다.
- ⑤ ㉢은 갑의 재사회화, ㉡은 을의 예기 사회화에 해당한다.

SECTION 07

★★★★☆ 58%

사회 집단과 사회 조직

033

240907 | 38%

다음 자료에 대한 설명으로 옳은 것은? [3점]

취업 특강 개설을 위한 재학생 대상 사전 조사
(A 대학교 취업 상담 센터)

↳ 갑: 취업 상담 센터가 주관하는 취업 특강을 교내 독서 모임에서 함께 활동하고 있는 을과 들었음. 이번에는 총동창회의 주최로 ○○기업에서 진행하는 취업 특강에 참여할 예정임. □□시민 단체에서 활동하고 있는 병이 추천해 준 자격증 취득을 위한 특강 개설 여부가 궁금함.

↳ 을: □□시민 단체에서 함께 활동하고 있는 후배와 여름 방학에 △△방송사가 주관하는 직업 체험 활동에 참가할 예정이라 취업 특강 참석이 어려움. 언론인이 되고 싶어 하는 학생들을 위해 방송인 협회의 특강 개최를 취업 상담 센터에 건의하고 있음.

↳ 병: 고등학교 선배가 운영하는 대안 학교에서 수업 보조 강사로 함께 활동하고 있는 갑이 ○○기업에서 진행하는 취업 특강에 같이 가자고 함. 졸업 후 대학원 진학도 고민 중이라 참석 여부를 고심하고 있음.

- ① 갑이 작성한 내용에 나타난 공식 조직의 개수는 을이 작성한 내용에 나타난 2차적 사회화 기관의 개수보다 많다.
- ② 을이 작성한 내용에 나타난 자발적 결사체의 개수는 을이 속해 있는 자발적 결사체의 개수와 같다.
- ③ 병이 속해있는 공식적 사회화 기관의 개수는 갑이 속해있는 공식적 사회화 기관의 개수보다 많다.
- ④ 갑과 병이 함께 속해있는 2차 집단의 개수는 병이 속해있는 비공식적 사회화 기관의 개수보다 적다.
- ⑤ 갑과 을이 함께 속해있는 비공식 조직은 없지만 을과 병이 함께 속해있는 이익 사회는 있다.

034

241107 | 63%

다음 자료에 대한 설명으로 옳은 것은? [3점]

예능 프로그램 <인연 만들기> 대본

[장면 1] (내레이션): 이번회는 연하남, 연상녀와 결혼하고 싶은 사람들의 특징입니다. 먼저 자기소개를 들어볼까요?

[장면 2] 갑: □□기업에서 프로그래머로 근무 중입니다. 대학교 때는 경영학을 공부했으나, 진로에 대한 고민 끝에 선택한 현재 직업에 매우 만족하고 있습니다. 바다낚시 동호회에서 함께 활동하고 있는 을과 낚시를 자주 다닙니다.

[장면 3] 을: 여행을 좋아하여 △△은행 사내 여행 동아리에서 활동한 적이 있습니다. 해외 여행 관련 회사 창업을 고민하던 중에 고등학교 총동창회에서 함께 활동하고 있는 병의 조언에 따라 은행을 그만두고, 대학원에 진학하여 관광 경영에 관한 공부를 다시 하고 있습니다.

[장면 4] 병: ○○방송국의 프로듀서로 일하면서 영화감독이 되기 위해 시나리오를 구상 중입니다. 대학교를 졸업한 후 을과 함께 △△은행에서 주최한 모의 주식 투자 대회에서 입상한 적이 있습니다. 주말에는 동물 보호 단체 회원으로 봉사 활동을 합니다.

- ① [장면 1]에 적혀 있는 내용에는 성취 지위가, [장면 3]에 적혀 있는 내용에는 비공식 조직이 있다.
- ② [장면 2]에 적혀 있는 이익 사회의 개수는 [장면 4]에 적혀 있는 비공식적 사회화 기관의 개수보다 적다.
- ③ 갑은 을과 달리 역할 갈등이 해소되어 준거 집단과 소속 집단이 일치한다.
- ④ 을이 속해있는 자발적 결사체의 개수는 병이 속해 있는 2차 집단의 개수보다 적다.
- ⑤ 대본에는 갑의 재사회화와 을, 병의 예기 사회화 내용이 적혀 있다.

035

250611 | 73%

다음 자료에 대한 설명으로 옳은 것은?

갑은 ㉠○○대학교 외식조리학과를 졸업하고 열심히 노력한 끝에 국내 최고 ㉡호텔의 수석 요리사이자 ㉢요리사 협회의 임원으로 활동하고 있다. 그가 만드는 고가의 코스 요리는 음식의 예술화를 표방하고 엄격한 식사 예절을 요구하여 시간에 여유가 있는 ㉣상류층을 대상으로 한다. 이 식당에는 저명인사들의 사고 모임으로 알려진 ㉤△△클럽 구성원들이 종종 방문한다. 어릴 때부터 상류층의 문화를 동경했던 갑은 자신이 속한 조직에서 좋은 대우를 받음에도 자신이 원하는 △△클럽에 들어갈 수 없다는 점에서 현재 상태에 대한 불만을 가지고 있다. 이에 갑은 △△클럽 회원들이 많이 거주하는 지역으로 이사할 것인지 ㉥고민하고 있다. 하지만 현실적인 어려움에 좌절감을 느낀 갑은 △△클럽 회원들이 좋아하는 코스 요리를 조리하여 맛보며 자신의 마음을 달래곤 한다.

- ① ㉠, ㉡은 모두 비공식적 사회화 기관이다.
- ② ㉢과 달리 ㉣은 자발적 결사체에 해당한다.
- ③ ㉤은 갑의 외집단이다.
- ④ ㉥은 갑의 역할 갈등에 해당한다.
- ⑤ 갑은 소속 집단과 준거 집단의 불일치를 경험하고 있다.

036

250907 | 87%

밑줄 친 ㉠~㉣에 대한 설명으로 옳은 것은? [3점]

낯선 국가를 여행하다가 차별을 당하면, 그곳에서 만난 같은 언어를 사용하는 사람은 다 내 편 같다는 생각이 듭니다. 평소 느끼지 못했던 이러한 ㉠집단의식이 형성되면 집단 내부 결속이 강화되면서 ㉡특정 집단을 적대시하거나 차별하기도 합니다. 한편, 집단의식은 구성원의 결함 의지에 따라 영향을 받기도 하지만 개인들이 ㉢사회적 관계를 만들어 가는 방식으로부터도 영향을 받습니다. 일반적으로 친밀한 접촉을 통해 유지되는 ㉣집단의 구성원은 서로의 삶에 깊이 관여하고 사회적 관계가 지속적인 편입니다. 하지만 수단적 접촉을 통해 유지되는 ㉤집단의 구성원은 사회적 관계가 형식적이고 일시적인 편입니다.

- ① ㉠은 소속 집단과 준거 집단이 불일치할 때 강화된다.
- ② ㉡이 발생하는 원인은 외집단에 대한 동질감 때문이다.
- ③ ㉢은 1차 집단과 2차 집단을 구분하는 기준이다.
- ④ ㉣의 사례로 이익 집단, 시민 단체를 들 수 있다.
- ⑤ ㉤은 주로 인간관계 자체를 목적으로 한다.

037

251104 | 33%

다음 자료에 대한 옳은 설명만을 <보기>에서 있는 대로 고른 것은?



○○신문사 탐사 보도 공모전에서 입상한 □□동아리를 만나 보겠습니다. 세 분이 어떻게 함께하게 되었나요?



☆☆대학교 내 영화제작동아리 회원으로 저와 함께 활동하고 있는 병이 취업 준비를 위해 □□동아리를 만들었습니다. 인권 단체 회원으로 함께 활동 중인 을에게 제가 제안하여 합류하게 되었습니다.



공모전에 참여하면서 느낀 점이나 공모전 준비에 도움이 되었던 경험이 있다면 말씀해 주세요.



저는 사회복지대학원에 재학 중입니다. 취재를 하면서 가족과 함께 하지 못하는 청소년들의 안타까운 사연을 접하고 청소년 복지의 필요성을 더 알고 싶어졌습니다.



저는 갑과 함께 ☆☆대학교에 재학 중입니다. 갑과 함께 들었던 PD 초청 특강이 큰 도움이 되었습니다. 입상을 계기로 셋이 □□동아리 활동을 더 열심히 하려고 합니다.

ㄱ. 갑과 병 모두 비공식 조직에 속해 있다.
 ㄴ. 을과 병이 속한 2차적 사회화 기관은 각각 1개이다.
 ㄷ. 자료 전체에 적혀 있는 사회 집단에서 자발적 결사체가 아니면서 비공식적 사회화 기관인 것은 2개이다.

- ① ㄱ ② ㄴ ③ ㄱ, ㄷ ④ ㄴ, ㄷ ⑤ ㄱ, ㄴ, ㄷ

SECTION 08

★★★★☆ 80%

관료제 vs 탈관료제

038

240604 | 91%

A, B의 일반적인 특징에 대한 설명으로 옳은 것은? (단, A, B는 각각 관료제, 탈관료제 중 하나임.)

□□기업은 의사 결정 권한이 분산되어 있고 업무의 범위와 분담 체계를 개별 담당 부서에서 자율적으로 결정한다. □□기업의 조직 운영 방식은 A의 사례이다. ○○기업의 의사 결정은 관리자 중심으로 이루어지며 모든 부서는 표준화된 규약과 절차에 따라 업무를 수행한다. ○○기업의 조직 운영 방식은 B의 사례이다.

- ① A는 B에 비해 외부 환경 변화에 유연하게 대처하기 용이하다.
② A는 B와 달리 공식적 규범에 의한 통제가 이루어진다.
③ B는 A에 비해 구성원이 창의성을 발휘하기 용이하다.
④ B는 A와 달리 업무 수행의 효율성을 추구한다.
⑤ A는 연공서열에 따른 보상을, B는 성과에 따른 보상을 중시한다.

039

240917 | 62%

A, B의 일반적인 특징에 대한 옳은 설명만을 <보기>에서 고른 것은? (단, A, B는 각각 관료제, 탈관료제 중 하나임.)

Illustration with characters and text boxes: 너희들이 다니는 회사 중에 어디로 이직할지 고민 중이야. 병이 다니는 회사는 업무 처리 절차나 규칙이 문서로 정해져 있어서 자신이 할 일이 명확하고, 주어진 업무만 수행하면 시간이 갈수록 급여가 높아져서 참 좋아 보여. 나는 을이 다니는 회사가 업적과 성과에 따라 연봉이 결정되고, 업무 처리 절차보다는 구성원의 자율성과 창의성을 중시하는 점이 부러워. 을이 다니는 회사는 A의 특성이, 병이 다니는 회사는 B의 특성이 강하게 나타나구나.

ㄱ. A는 B에 비해 업무 수행의 안정성을 확보하기가 용이하다.
ㄴ. A는 B에 비해 외부 환경 변화에 대한 유연한 대처가 용이하다.
ㄷ. B는 A에 비해 목적 진치 현상이 나타날 가능성이 낮다.
ㄹ. A는 의사 결정의 분권화, B는 업무 수행의 분업화가 강조된다.

- ① ㄱ, ㄴ ② ㄱ, ㄷ ③ ㄴ, ㄷ ④ ㄴ, ㄹ ⑤ ㄷ, ㄹ

040

241112 | 93%

A, B의 일반적인 특징에 대한 설명으로 옳은 것은? (단, A, B는 각각 관료제, 탈관료제 중 하나임.) [3점]

○○버거 회사는 명확한 위계 구조 속에서 직급별 권한과 책임을 세분화하고 메뉴, 조리법 등을 표준화하여 관리하는 A로 운영하였다. 최근 이윤이 급감하자 ○○버거 회사는 어떤 직원의 제안이든 창의적인 메뉴라면 수용하고 수평적인 의사 결정 구조를 채택하는 등 B를 도입하여 회사의 이윤 증대를 꾀하고 있다.

- ① A는 B에 비해 업무 수행 과정의 예측 가능성이 높다.
② A는 B와 달리 외부 환경 변화에 대한 유연한 대처가 용이하다.
③ B는 A에 비해 목적 진치 현상이 나타날 가능성이 높다.
④ B는 A와 달리 효율적인 목표 달성이 조직 운영의 핵심이다.
⑤ A는 능력에 따른 보상을, B는 경력에 따른 보상을 중시한다.

041

250603 | 75%

A, B의 일반적인 특징에 대한 설명으로 옳은 것은? (단, A, B는 각각 관료제, 탈관료제 중 하나임.)

○○기업이 세계적인 기업으로 성장한 배경에는 기존과 다른 조직 운영 원리인 A가 큰 영향을 미쳤다. 특히 A에 따른 생산 관리 시스템은 전체 공정을 수많은 미세한 단위로 구분하여 각 부분들의 전문성을 확보하는 데 기여하였다. 이러한 개별 부분들은 상층 부서로 그리고 다시 최상층 부서로 통합 관리되면서 조직의 효율성을 극대화하였다. 이것은 의사 결정 권한의 분산, 유연한 조직 운영 등을 특징으로 하는 B의 모습과는 차이가 있다.

- ① A에 비해 B는 목적 진치 현상이 나타날 가능성이 높다.
② A와 달리 B는 목표의 효율적 달성이 조직 운영의 핵심이다.
③ B에 비해 A는 업무 수행 과정의 예측 가능성이 높다.
④ B와 달리 A는 공식적 규약과 절차에 의해 구성원을 통제한다.
⑤ A, B 모두 연공서열에 따른 보상보다 성과에 따른 보상을 중시한다.

042

250917 | 74%

다음 자료에 대한 설명으로 옳은 것은? (단, A, B는 각각 관료제, 탈관료제 중 하나임.) [3점]

㉠ □□기업은 조직 운영 방식 A가 ㉡ 기존 부서의 업무를 지나치게 분화하고 부서 간 벽을 공고히 한다고 보았다. 정해진 업무만 수행하여 자신이 마치 기계 부속과 같다고 느낀 구성원들은 더욱 수동적으로 업무에 임했다. 이에 □□기업은 조직 운영 방식 B를 적용하여 부서 간 벽을 허물고 사원이 협업하는 과정에서 창의성을 발휘할 수 있도록 과제 해결에 특화된 ㉢ 새로운 부서를 한시적으로 조직했다. 동시에 □□기업은 사원들의 소외감과 스트레스를 해소하는 데 도움이 될 수 있도록 ㉣ 사내 친목 소모임 활성화를 지원하려 한다.

- ① ㉠은 과업 지향적인 사회 집단이고, ㉡은 결합 자체가 목적인 사회 집단이다.
- ② ㉢, ㉣과 달리 ㉡은 비공식적 사회화 기관에 해당한다.
- ③ A는 규칙과 절차에 따른 업무 처리로 자의적 의사 결정을 방지할 수 있다.
- ④ B는 전문성을 기준으로 구성원을 선발하고 연공서열에 따른 보상 체계를 중시한다.
- ⑤ A는 상향식 의사 결정 방식이, B는 하향식 의사 결정 방식이 지배적이다.

043

251103 | 88%

A, B의 일반적인 특징에 대한 설명으로 옳은 것은? (단, A, B는 각각 관료제와 탈관료제 중 하나임.)

도서 출판 과정에는 편집, 디자인, 인쇄 등 여러 공정이 있다. ○○출판 회사는 수평적으로 분권화된 조직을 통해 구성원들이 함께 결정을 내려 출판 공정을 관리하고 도서를 출간한다. □□출판 회사는 세부적으로 분권화된 조직을 통해 해당 분야의 담당자들이 정해진 서열과 절차에 따라 각 공정을 진행하여 도서를 출간한다. ○○출판 회사는 A의 운영 원리가, □□출판 회사는 B의 운영 원리가 강조된다.

- ① A에 비해 B는 조직 구성원의 업무 재량권 및 자율성이 낮다.
- ② A에 비해 B는 외부 환경 변화에 대한 유연한 대처가 용이하다.
- ③ B에 비해 A는 업무의 표준화와 세분화가 강조된다.
- ④ B에 비해 A는 목적 전치 현상이 나타날 가능성이 높다.
- ⑤ A는 경력에 따른 보상을, B는 성과에 따른 보상을 중시한다.

SECTION 09

★★★★☆ 73%

일탈 이론

044

240614 | 86%

일탈 이론 A~C에 대한 설명으로 옳은 것은? (단, A~C는 각각 머튼의 아노미 이론, 차별 교제 이론, 낙인 이론 중 하나임.)

A : 폐가의 유리창을 깨고 지붕을 오르는 행위는 아이들에게 일종의 놀이에 불과하나, 지역 주민들은 그런 행위를 하는 아이들을 점차 구제 불능이라고 규정하게 된다. 이런 사회적 평가를 내면화하여 아이들은 점점 더 심각한 비행으로 나아가게 된다.

B : 법을 어기는 사람과 지키는 사람의 차이는 타고난 소질보다는 그들이 배워 온 내용에 있다. 범죄가 적은 지역에서 성장하는 사람은 법 위반에 대한 비우호적 태도를, 범죄가 많은 슬럼 지역에서 성장하는 사람은 법 위반에 대한 우호적 태도를 더 많이 배울 것이다.

C : 물질적 성공에 대한 문화적 강조는 '가능하다면 정당한 방법으로, 필요하다면 잘못된 방법으로라도' 그 목표를 추구하라는 압력으로 작용한다. 따라서 성공 목표에 대한 지나친 강조는 규칙에 대한 감정적 지지를 훼손하고 제도적 규제의 효과적인 작용을 방해한다.

- ① A는 일탈에 대한 대책으로 낙인의 신중한 적용을 강조한다.
- ② B는 차별적인 사회적 제재를 일탈 행동의 원인으로 본다.
- ③ C는 일탈 행동을 규정하는 객관적 기준이 존재하지 않는다고 본다.
- ④ A는 B와 달리 개인이 타인과의 상호 작용을 통해 일탈자가 되어 가는 과정에 주목한다.
- ⑤ B는 C와 달리 범죄 예방을 위해 소외 계층에게 더 나은 취업 기회를 제공하는 정책을 뒷받침한다.

045

240909 | 77%

일탈 이론 A~C에 대한 설명으로 옳은 것은? (단, A~C는 각각 머튼의 아노미 이론, 차별 교제 이론, 낙인 이론 중 하나임.)

일탈 이론 A, B, C의 사례로 일탈을 저지른 갑, 을, 병의 진술을 살펴보았다. 각각의 진술에 나타난 가장 두드러진 특징은 다음과 같다. 갑은 문화적 목표를 이루기 위한 합법적 수단이 부족했던 적이 한 번도 없었다. 을은 일탈자들과 어울리거나 그들의 행동을 따라 하려고 했던 적이 한 번도 없었다. 병은 여러 사회 규범을 위반했음에도 비난이나 제재를 받았던 적이 한 번도 없었다. 이러한 특징을 바탕으로 갑, 을, 병에게 서로 다른 일탈 이론을 적용해 보면 갑의 일탈은 A나 B, 을의 일탈은 B나 C, 병의 일탈은 A나 C로 설명하는 것이 타당하다.

- ① A는 일탈에 대한 대책으로 제도화된 기회의 확대를 중시한다.
- ② B는 타인과의 상호 작용을 통한 일탈의 학습 과정에 주목한다.
- ③ C는 정상 집단과의 교류를 일탈의 해결 방안으로 제시한다.
- ④ B는 A, C와 달리 일탈을 규정하는 객관적 기준이 없다고 본다.
- ⑤ C는 A, B와 달리 일탈에 대한 대책으로 사회 규범의 통제력 강화를 강조한다.

046

241111 | 72%

다음 자료에 대한 설명으로 옳은 것은?

사회자 : 뒤르켐의 아노미 이론, 머튼의 아노미 이론, 차별 교제 이론, 낙인 이론 중 하나를 선택하여 최근 우리 사회에서 나타나는 범죄 현상을 설명해 주십시오.

갑 : 급속한 사회 변동으로 경제적 성취와 개인주의라는 새로운 가치가 나타나고 있습니다. 이로 인해 과거에 작동했던 전통적 규범과 새롭게 등장한 가치가 혼재되면서 삶의 기준을 상실한 사람들의 범죄가 늘어나고 있습니다.

을 : 성공에 필요한 합법적 기회가 있는 사람들마저도 범죄를 저지릅니다. 이들은 비합법적 수단으로 큰돈을 번 사람들과 빈번하게 교류하며 그들의 방식과 태도를 습득함으로써 범죄를 저지르고 있습니다.

병 : 청소년 시기에 전과자가 된 사람들은 충분한 교육을 받지 못합니다. 이로 인해 경제적 성공을 위한 경쟁이 치열한 사회에서 물질적 성공에 필요한 기회가 제한되어 범죄를 저지르고 있습니다.

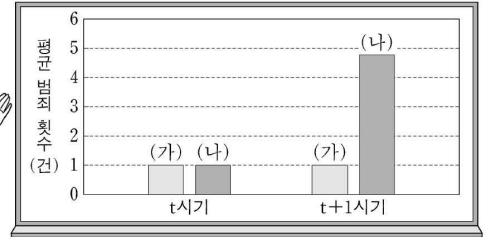
- ① 갑의 관점은 을의 관점과 달리 정상 집단과의 교류를 일탈 행동의 해결 방안으로 제시한다.
- ② 을의 관점은 병의 관점과 달리 차별적인 사회적 제재를 일탈 행동의 원인으로 본다.
- ③ 병의 관점은 갑의 관점과 달리 문화적 목표와 제도화된 수단의 괴리를 일탈 행동의 원인으로 본다.
- ④ 갑, 을의 관점은 병의 관점과 달리 사회 구조적 관점에서 일탈 행동을 설명한다.
- ⑤ 을, 병의 관점은 갑의 관점과 달리 개인이 타인과의 상호 작용을 통해 일탈자가 되어가는 과정에 주목한다.

047

250614 | 92%

일탈 이론 A에 대한 설명으로 옳은 것은?

그림에서 t시기에 동일한 범죄를 저지른 후 처벌받지 않은 집단은 (가), 처벌받은 집단은 (나)로 표시되어 있습니다. (가)와 (나)의 t+1시기 평균 범죄 횟수에 차이가 나타난 것은 처벌이라는 사회적 반응 그 자체가 일탈자로서의 정체성 형성에 핵심 요인으로 작용했기 때문입니다. 이는 전형적으로 A의 특성을 보여 주는 것입니다.



- ① 일탈이 개인의 타고난 특성에 의해 발생한다고 본다.
- ② 사회 규범의 통제력 강화를 일탈의 해결 방안으로 본다.
- ③ 일탈자에 대한 낙인이 후속 일탈의 핵심적인 요인이라고 본다.
- ④ 문화적 목표와 제도적 수단 간 괴리로 인해 일탈이 발생한다고 본다.
- ⑤ 상호 작용을 통해 범죄에 대한 우호적 가치관을 학습하여 일탈이 발생한다고 본다.

048

250909 | 66%

다음은 일탈 이론 A~D를 구분하는 질문에 대한 학생의 답변과 교사의 채점 결과이다. 이에 대한 설명으로 옳은 것은? (단, A~D는 각각 뒤르켐의 아노미 이론, 머튼의 아노미 이론, 낙인 이론, 차별 교제 이론 중 하나임.)

질문	답변		
	갑	을	병
A는 일탈이 주변 사람으로부터 학습되는 과정에 주목하는가?	예	아니오	예
B와 달리 C는 일탈자가 부정적 자아를 내면화하는 과정에 주목하는가?	아니오	아니오	예
B와 달리 D는 문화적 목표와 제도적 수단 간의 괴리가 일탈의 원인이라고 보는가?	아니오	예	예
B, D와 달리 A, C는 모두 타인과의 상호 작용이 일탈에 미치는 영향을 강조하는가?	아니오	예	예
채점 결과	2점	㉠	3점

* 교사는 질문별로 각각 채점하고, 옳은 답변은 1점, 틀린 답변은 0점을 부여함.

- ① ㉠은 '1점'이다.
- ② A의 사례로 비행 청소년이라는 부정적인 평판으로 인해 범죄를 다시 저지르는 경우를 들 수 있다.
- ③ B의 사례로 경찰의 치안과 공권력이 무너진 국가에서 각종 범죄가 늘어나는 경우를 들 수 있다.
- ④ C의 사례로 프로 야구 만년 후보 선수가 주전 선수가 되고 싶어 금지 약물을 복용한 경우를 들 수 있다.
- ⑤ D의 사례로 상습적으로 불법 도박을 하는 친구에게 배워 불법 스포츠 도박에 빠진 청소년의 경우를 들 수 있다.

049

251114 | 47%

다음은 일탈 이론 A~D를 구분하는 질문에 대한 학생의 분류와 교사의 채점 결과이다. 이에 대한 설명으로 옳은 것은? (단, A~D는 각각 뒤르켐의 아노미 이론, 머튼의 아노미 이론, 차별 교제 이론, 낙인 이론 중 하나임.) [3점]

※ 질문에 따라 A, B, C, D를 '예', '아니오'로 분류하여 해당하는 칸에 적으시오.

질문	예	아니오	채점 결과
일탈자가 부정적 자아를 내면화하는 과정에 주목하는가?	B, C	A, D	3점
타인과의 상호 작용이 일탈에 미치는 영향을 강조하는가?	B, D	A, C	2점
일탈을 규정하는 객관적인 기준이 존재한다고 보는가?	B, D	A, C	1점
문화적 목표와 제도적 수단 간의 괴리가 일탈의 원인이라고 보는가?	B, C	A, D	3점

* 질문별로 채점하며, 맞게 적은 이론에는 각 1점을, 틀리게 적은 이론에는 각 0점을 부여함. 질문별 만점은 4점임.

- ① A의 사례로 신입 사원이 버리를 저지르는 회사 선배들과 어울리면서 죄의식이 사라져 부정행위를 같이 하는 경우를 들 수 있다.
- ② B의 사례로 한탕주의로 쉽게 돈을 버는 사람을 보고 부자가 되고 싶은 실업자가 불법 도박에 빠지는 경우를 들 수 있다.
- ③ C의 사례로 학교 폭력 가해 사실로 징계를 받은 학생이 스스로를 문제아로 인식하고 범죄를 저지르는 경우를 들 수 있다.
- ④ B와 달리 D는 정상 집단과의 교류를 일탈의 해결책으로 본다.
- ⑤ D와 달리 A는 사회 규범의 통제력 강화를 일탈의 해결책으로 본다.

SECTION 10

★★★★☆ 64%

문화의 의미와 속성

050

240605 | 86%

밑줄 친 ㉠~㉣에 대한 설명으로 옳은 것은? [3점]

갑국에서는 ㉠종교가 계층별 생활 양식을 비롯한 사회생활 전반에 영향을 크게 미친다. 예컨대 사회적으로 높은 위치에 있는 사람들은 종교 교리의 영향을 받아 육식을 멀리한다. 그래서 갑국 사람들은 이들처럼 고상하게 보이려고 ㉡직장 등에서 여러 사람과 함께 식사할 때는 채식을 당연시한다. 그런데 최근 갑국에서 ㉢스마트폰과 배달 애플리케이션 사용이 일상화되면서, 고기가 들어간 도시락 판매가 크게 증가하였다. 이는 ㉣육식 문화에 대한 부정적인 시각이 여전한 상황에서 ㉤타인의 눈치를 보지 않고 육류를 먹으려고 도시락을 주문하는 사람들이 증가하여 나타난 현상이다.

- ① ㉠에는 문화의 변동성이 부각되어 있다.
- ② ㉡에는 문화의 공유성이 부각되어 있다.
- ③ ㉢은 비물질문화에 해당한다.
- ④ ㉣에서 '문화'는 좁은 의미의 문화이다.
- ⑤ ㉤은 문화 지체의 사례로 볼 수 있다.

051


240906 | 55%

다음 자료에 대한 설명으로 옳은 것은?

○ 학생별로 서로 다르게 한 가지씩 배정받은 각 문화의 속성이 부각되는 사례를 작성하세요.

학생	문화의 속성	해당 속성이 부각된 사례
갑	㉠	외국인 유학생이 한국의 젓가락 사용법을 익혀 일상생활에서 사용하고 있다.
을	㉡	A 지역의 모든 사람들은 특정 기간에 신들이 임무를 교대한다고 믿기 때문에 그 기간을 신성하게 여기는 마음을 가지고 있다.
병	변동성	(가)
정	축적성	(나)
무	전체성	(다)

갑, 을, 정만 옳은 사례를 제시했고, 병은 ㉠, 무는 ㉡에 해당하는 사례를 제시했어요.





- ① ㉠은 문화가 세대 간 전승을 통해 더욱 복잡하고 풍부해지는 것임을 의미한다.
- ② ㉡은 문화가 여러 요소들이 상호 유기적으로 연관되어 나타나는 것임을 의미한다.
- ③ (가)에는 '내비게이션 등장 이후 운전할 때 종이 지도로 길을 찾는 사람들은 거의 사라졌다.'가 들어갈 수 있다.
- ④ (나)에는 '예전에는 혈액형으로 성향을 파악했지만, 요즘은 성격검사 결과를 통해 성향을 파악하는 것을 즐긴다.'가 들어갈 수 있다.
- ⑤ (다)에는 '팬클럽마다 좋아하는 연예인을 상징하는 색깔을 정하고 그 색깔을 응원에 활용한다.'가 들어갈 수 있다.


052

241106 | 36%

다음 자료에 대한 설명으로 옳은 것은? [3점]

문화의 속성 5가지를 서로 다르게 17가지씩 배정했습니다. '자전거'를 소재로 각자 배정받은 속성이 부각된 사례를 말해 볼까요?  교사


갑  출퇴근 수단으로 ○○국 사람들이 자전거를 떠올리는 것은 A가 부각된 사례입니다.

을  예전과 다르게 짧은 거리를 이동할 때 택시를 이용하는 대신 자전거를 이용하는 사람이 늘어난 것은 B가 부각된 사례입니다.

병  [가]은 축적성이 부각된 사례입니다.

정  [나]은 전체성이 부각된 사례입니다.

무  [다]은 변동성이 부각된 사례입니다.

갑과 정은 각각 배정받은 속성이 부각된 사례를 제시하였습니다. 하지만 을은 무가 배정받은 속성, 병은 학습성, 무는 병이 배정받은 속성이 부각된 사례를 제시하였습니다.  교사

- ① A는 문화가 시간이 지남에 따라 변화하는 것을 의미한다.
- ② B는 사회 구성원이 문화를 후천적으로 습득하는 것을 의미한다.
- ③ (가)에는 '어릴 적 자전거 타는 방법을 부모에게 배워 능숙하게 자전거를 탈 수 있게 된 것'이 들어갈 수 없다.
- ④ (나)에는 '기존의 자전거에 변속기가 추가되고 충격 흡수 장치가 더해지는 것'이 들어갈 수 있다.
- ⑤ (다)에는 '자전거 이용자가 늘어나자 기업이 자전거를 이용하는 공유 경제 상품을 개발하고, 정부가 전용 도로를 건설하는 것'이 들어갈 수 있다.

053

250604 | 77%

다음 자료에 대한 설명으로 옳은 것은?

교사 : 문화의 속성 A의 사례에 대해 조사한 내용을 발표해 보세요.

갑 : ○○국에서는 자신의 공간을 자아의 연장이라고 생각하여 개인 사무실의 문을 닫거나 공용 사무실에 가림막을 세워 자신의 공간을 확보하려고 합니다. 이런 것들이 ○○국 사람들 간에는 전혀 이상하게 여겨지지 않는다는 점에서 A가 부각되어 있습니다.

을 : △△국 사람들이 같은 종교 사상을 통해 원활하게 상호 작용하고 있다는 점 역시 A를 잘 보여줍니다. 이 종교 사상은 고대 토tem 신앙에 근대 이후 절대적 신의 관념 및 구원의 개념 등이 결합하여 오늘날의 모습을 갖추게 되었습니다. △△국 사람들은 이러한 과정을 함께 겪어 오면서 서로를 이해할 수 있는 공동의 감정을 갖게 되었습니다.

교사 : 갑, 을 모두 잘 발표했습니다. 확실히 두 국가의 사례 모두 문화는 [가]을 보여준다는 점에서 A를 확인할 수 있습니다. 그리고 여기에 더해 을이 발표한 △△국 사례는 문화가 세대 간 전승을 통해 누적된다는 B도 잘 보여줍니다.

- ① A는 공유성이다.
- ② A는 문화가 후천적으로 학습됨을 의미한다.
- ③ B는 문화가 구성원들의 사고와 행동에 동질성을 갖게 한다는 것을 의미한다.
- ④ (가)에는 '각 부분이 유기적으로 결합된 하나의 전체임'이 들어갈 수 있다.
- ⑤ (가)에는 '시간이 흐르면서 그 형태나 내용이 변화됨'이 들어갈 수 있다.

054

250914 | 78%

다음 자료에 대한 설명으로 옳은 것은? (단, A~D는 각각 공유성, 변동성, 축적성, 학습성 중 하나임.)

교사: 지난 시간에는 문화의 속성 A, B에 대한 발표가 있었습니다. 이번 시간에는 문화의 속성 중 나머지 3가지를 학생별로 서로 다르게 한 가지씩 선택하여 해당 속성이 부각된 사례를 발표해 봅시다.

갑: 과거에는 공중전화가 길거리에 많았지만 요즘은 찾아보기 어렵게 된 것은 전체성으로 설명할 수 있습니다.

을: 과거와 현재의 국어사전을 비교했을 때 원래 단어에 새로운 의미가 추가되어 더욱 풍부해진 것을 보면 C를 확인할 수 있습니다. 특정 세대가 원래 단어에 새로운 의미를 부여하여 그들끼리 사용하는 것은 지난 시간 무가 발표한 B로도 설명이 가능합니다.

병: 일본인의 감정 절제는 어린 시절부터 이루어지는 지속적인 훈육의 결과라는 점은 D를 통해 설명할 수 있는 사례입니다.

교사: 을과 병은 해당 속성에 대한 사례 조사를 잘 했습니다. 갑이 발표한 사례는 정이 발표했던 A가 부각된 사례이므로, 다음 시간에 자신이 선택한 속성이 잘 부각되는 사례로 다시 발표해 봅시다.

- ① 문화가 한 사회 구성원이 공통적으로 가지고 있는 생활 양식임을 의미하는 속성은 A가 아닌 B이다.
- ② 문화가 경험과 상징을 통해 후천적으로 학습됨을 의미하는 속성은 D가 아닌 C이다.
- ③ 갑이 선택한 문화의 속성은 시간의 흐름에 따라 기존 문화 요소가 사라지거나 변화함을 의미한다.
- ④ 정이 발표한 문화의 속성은 문화가 세대를 전승하며 더욱 풍부해짐을 의미한다.
- ⑤ 무가 발표한 문화의 속성은 문화의 각 요소들이 상호 유기적으로 연결되어 있음을 의미한다.

055

251109 | 55%

다음 자료에 대한 설명으로 옳은 것은? (단, A~E는 각각 공유성, 변동성, 전체성, 축적성, 학습성 중 하나임.) [3점]

교사: 문화의 속성 5가지를 모듈별로 서로 다르게 한 가지씩 배정 하였습니다. 각 모듈은 배정받은 속성이 부각된 사례를 웹툰 문화 에서 찾아 발표해 봅시다.

<1모듈> 부모가 자녀에게 스마트폰을 활용하여 웹툰 앱을 이용하는 방법을 배우는 것은 A가 부각된 사례입니다.

<2모듈> 부모 세대에서 웹툰을 만화라고 부르고 만화가 보고 싶을 때 만화방을 떠올리는 것은 B가 부각된 사례입니다.

<3모듈> 만화책을 보는 사람이 줄어들고 태블릿 PC로 웹툰을 보는 사람이 늘어난 것은 C가 부각된 사례입니다.

<1모듈> 부모 세대에서 눈으로만 즐기던 만화에 음성 지원, 배경 음악 재생 기능 등이 추가된 현재의 웹툰은 D가 부각된 사례입니다.

학생: 선생님, <2모듈>의 발표 사례는 D가 부각된 것이 아닐까요?

교사: <2모듈>의 사례는 D로도 설명이 가능하지만, 부모 세대에서 만화방을 떠올린다고 했기 때문에 B가 부각된 것이 맞습니다.

<3모듈>과 <4모듈>은 발표한 사례가 서로 바뀌어야 각 모듈에 배정된 속성이 부각됩니다. <1모듈>은 <5모듈>에 배정된 속성이 부각된 사례를 발표했어요. A를 배정받은 <1모듈>과 E를 배정받은 <5모듈>은 다음 시간에 발표합니다.

- ① 문화가 한 사회 구성원의 공통된 생활 양식이라는 것을 의미하는 속성은 B가 아니라 A이다.
- ② 문화가 세대 간 전승되며 더욱 발전되고 풍부해지는 것을 의미하는 속성은 C가 아니라 D이다.
- ③ <1모듈>에 배정된 속성은 문화의 각 요소들이 상호 유기적으로 연결 되어 영향을 주고받는 것을 의미한다.
- ④ <2모듈>에 배정된 속성은 공유성, <5모듈>에 배정된 속성은 전체성이다.
- ⑤ 문화가 상징을 통해 후천적으로 학습된다는 것을 의미하는 속성은 <3모듈>이 아니라 <4모듈>에 배정되었다.

SECTION 11

☆☆☆☆☆ 93%

문화 이해 태도

056

240609 | 97%

밑줄 친 ㉠과 같은 문화 이해 태도에 부합하는 진술만을 <보기>에서 있는 대로 고른 것은? [3점]

○○족 문화를 연구하러 현지 조사를 떠난 A는 우연히 마을 장로들과 셰익스피어의 '햄릿'에 대하여 대화를 나누게 된다. '햄릿'은 아버지의 갑작스러운 죽음 이후, 아버지 대신 왕이 된 삼촌과 어머니의 결혼에 괴로워하던 햄릿이 아버지를 죽인 삼촌에게 복수하는 이야기이다. 그런데 형이 죽으면 동생이 형수와 결혼하는 것을 당연시하고, 아버지의 복수를 아들이 직접 하는 것도 금지하는 ○○족 사회에서 햄릿의 행동은 전혀 다르게 해석되었다. 그들과의 대화를 통해 A는 보편적으로 통용될 것이라 믿었던 '햄릿'에 대한 해석도 특정 문화의 관점에서 만들어진 것에 불과하다는 것을 알게 되었다. 이를 통해 타 문화를 이해하기 위해서는 그 사회의 문화가 형성되는 상황이나 맥락을 고려하는 ㉠문화 이해 태도가 중요하다는 사실을 깨닫게 되었다.

- ㄱ. 이웃 나라에서 체면을 중시하는 문화가 왜 지배적인지 그 사회 내부의 논리와 체계 속에서 이해할 필요가 있어.
- ㄴ. 음식을 손으로 집어 먹는 우리 문화는 열등해. 서구 사회처럼 포크와 나이프를 사용하는 세련된 문화를 받아들여야 해.
- ㄷ. 시신을 화장하는 우리의 장례 문화와 비교할 때, 시신을 새나 다른 동물의 먹이로 들판에 방치하는 △△부족의 관습은 너무 야만적이야.

- ① ㄱ ② ㄴ ③ ㄱ, ㄷ ④ ㄴ, ㄷ ⑤ ㄱ, ㄴ, ㄷ

057

240912 | 94%

갑~병의 문화 이해 태도에 대한 설명으로 옳은 것은?

여행 가서 B국 피자를 먹어 본 이후로 □□ 피자는 쳐다 보지도 않아요. 우리 나라에서 피자를 만드는 사람들은 B국의 정통 피자 조리법을 그대로 따라야 합니다.

□□ 피자는 피자의 본고장인 우리 나라 피자와 비교하면 식재료와 맛이 너무 달라 피자라고 볼 수 없습니다. 저는 이 음식에 피자라는 이름을 붙이는 것조차 불쾌합니다.

□□ 피자는 A국 고유의 식재료로 국민들의 입맛에 맞춰 만든 피자입니다. 그 나라의 상황에 맞게 만들어진 음식이므로 그 자체로 존중받아야 합니다.

A국의 □□ 피자에 대해 어떻게 생각하십니까?



진행자

A국 국민 갑



A국 국민 갑

B국 국민 을



B국 국민 을

C국 국민 병



C국 국민 병

- ① 갑의 태도는 선진 문물 수용에 소극적이라는 비판을 받는다.
- ② 을의 태도는 문화 제국주의로 변질될 수 있다는 비판을 받는다.
- ③ 병의 태도는 특정 문화를 기준으로 타 문화를 평가한다는 비판을 받는다.
- ④ 갑의 태도는 을의 태도와 달리 타 문화와의 마찰을 일으킬 수 있다는 비판을 받는다.
- ⑤ 을의 태도는 병의 태도와 달리 자기 문화의 정체성을 상실할 수 있다는 비판을 받는다.

058


241116 | 95%

갑~병의 문화 이해 태도에 대한 설명으로 옳은 것은?


A국 사람들은 동료들과 함께 식사해도 자신이 먹은 음식 값은 각자 지불해. A국 사람들의 세련되고 진보한 문화를 우리 사회가 본받았으면 좋겠어.

나는 연정자나 모임을 주최한 사람이 기분 좋게 음식 값을 모두 지불하는 우리의 문화가 훌륭하다고 생각해. 오히려 A국 사람들이 우리 문화를 본받아야 해.


A국의 문화도, 우리의 문화도 모두 의미가 있지. 무엇이 더 훌륭한지를 판단할 게 아니라 왜 그런 문화가 생겼는지 그 사회의 맥락을 살펴보는 것이 필요해.



갑



을



병

- ① 갑의 태도는 선진 문물 수용에 적극적이지 않다는 비판을 받는다.
- ② 을의 태도는 자국의 문화 정체성을 약화한다는 비판을 받는다.
- ③ 병의 태도는 문화 제국주의로 나아갈 수 있다는 비판을 받는다.
- ④ 갑, 을의 태도는 모두 문화의 다양성을 저해할 수 있다는 비판을 받는다.
- ⑤ 을, 병의 태도는 모두 특정 문화를 기준으로 문화 간 우열을 가린다는 비판을 받는다.

059

250911 | 97%

(가)에 들어갈 수 있는 내용으로 가장 적절한 것은?

지금 세계 문화는 - A국 편

이곳에서는 약속 없이 집에 손님이 올 경우 식사를 권하지 않습니다. 그러다 보니 어린 아이들이 자기 방에서 같이 놀다가도 식사 시간이 되면 친구만 혼자 방에 남겨 두고 가족끼리 밥을 먹는다고 합니다.

갑: A국의 식사 문화는 손님에 대한 예의가 없는 것 같아.
을: A국에서는 자기 가족끼리만 식사를 하는 것이 오랜 전통이야. 이런 문화가 우리와 달라서 이상하게 보일 수 있지만 틀렸다고 생각하면 안 돼. 서로 다른 문화를 제대로 이해하려면 각 사회 문화를 (가)

- ① 비교하며 평가하는 대상으로 여겨야 해.
- ② 인류의 보편적 가치를 기준으로 평가해야 해.
- ③ 동경심을 가지고 받아들여야 하는 태도를 취해야 해.
- ④ 타문화보다 자문화가 우수하다는 태도로 판단해야 해.
- ⑤ 그 사회의 특수한 환경과 사회적 맥락에서 바라봐야 해.

060

251111 | 86%

다음 자료에 대한 설명으로 옳은 것은?

㉠ 대부분의 사회에는 고인(故人)을 떠나보낼 때 치르는 의례가 존재하며, 세계 각지에는 다양한 ㉡ 장례 문화가 있다. ○○쪽은 깊은 산이나 들녘에 서 있는 ㉢ 나무 위에 시신을 두는 방식으로 장례를 치른다. 어떤 사람들은 이런 방식을 ㉣ 자신의 문화를 기준으로 비인간적이고 기이한 관습이라 폄하한다. 하지만 ○○쪽의 장례 문화는, 조상의 정령이 후손을 외부의 위협으로부터 보호해 준다는 ㉤ 종교적 믿음의 결과물이다. 이처럼 해당 사회의 맥락에서 각 문화가 갖는 고유한 의미를 파악하려면 (가) 하는 태도를 지녀야 한다.

- ① ㉠은 문화의 특수성을 나타낸다.
- ② ㉡에서 '문화'는 좁은 의미의 문화이다.
- ③ ㉢은 비물질문화에, ㉣은 물질문화에 해당한다.
- ④ ㉤과 같은 태도는 국수주의로 변질될 수 있다는 비판을 받는다.
- ⑤ (가)에는 '자기 문화를 낮추고 타 문화의 우수성을 동경'이 적절하다.

SECTION 12

★★★★☆ 87%

주류 문화 · 하위문화 · 반(反)문화

061

240613 | 89%

다음 자료에 대한 옳은 설명만을 <보기>에서 고른 것은?

1945년 이후 침략국이자 패전국인 독일이 취한 태도는 망각이었다. 독일 사회는 전쟁 희생자를 애도하기 위한 공적 의례를 하지 않았다. 전쟁의 상처가 생생하게 남아있는 사회에서 사람들은 과거에 대해 침묵으로 일관했다. 1950년대에도 지속된 ㉠ 침묵의 연합이라는 사회 전반적인 풍토에 균열이 생긴 결정적 계기는 전후 세대의 등장이었다. 특히 1960년대 후반부터 일어난 학생 봉기는 전쟁 희생자로 자신들을 포장해 온 부모 세대를 맹렬히 비난하면서 전쟁에 대한 죄의식의 부재를 공적 논쟁의 장으로 끌어냈다. 전쟁의 기억과 책임 문제를 둘러싼 세대 간 갈등은 투쟁의 양상을 띠며 심화되었다. 당시 젊은 세대가 공유했던 ㉡ 집합적 죄의식은 1970년대에 접어들면서 공적 의례의 중심 서사가 되고 대중문화의 소재로 빈번히 사용되는 등 독일 사회의 지배적인 기억 문화가 되어갔다.

- ㄱ. 1950년대 독일 사회에서 ㉠은 하위문화이다.
- ㄴ. 1960년대 후반 독일 사회에서 ㉡은 반문화의 성격을 띤다.
- ㄷ. ㉡은 ㉠과 달리 독일 사회의 지역문화이다.
- ㄹ. 지배적인 가치에 도전하는 문화가 주류 문화로 변화한 사례가 나타난다.

- ① ㄱ, ㄴ ② ㄱ, ㄷ ③ ㄴ, ㄷ ④ ㄴ, ㄹ ⑤ ㄷ, ㄹ

062

240902 | 88%

A~C에 대한 설명으로 옳은 것은? (단, A~C는 각각 주류문화, 하위문화, 반문화 중 하나임.)

유일신을 숭배하는 □□교를 오랜 기간 국교(國敎)로 유지하고 있는 갑국에 조상신을 숭배하는 ○○교가 유입되었다. 갑국에서 ○○교는 처음에는 일부 집단만이 공유한 A였다. 그런데 ○○교 신자들이 갑국의 B인 □□교가 숭배하는 유일신을 부정하면서 ○○교는 C의 성격을 가지게 되었다.

- ① A는 B와 달리 시대에 따라 상대적으로 규정된다.
② B는 C와 달리 문화 다양성 증가에 기여한다.
③ C는 A, B와 한 사회에서 공존할 수 없다.
④ A, B는 C와 달리 해당 문화를 향유하는 구성원의 정체성 강화에 기여한다.
⑤ C는 A에 해당하지만, A가 B에 해당하는 것은 아니다.

063

241109 | 87%

다음 두 사례에서 공통적으로 도출할 수 있는 내용으로 가장 적절한 것은?

갑국의 빈민가 출신 젊은이들은 주류 사회의 가치관에 상충하는 요소들을 의식적으로 드러내는 새로운 장르의 음악을 만들어 냈다. 그런데 해당 장르가 음악 산업의 주류로 자리 잡으면서 본연의 색채를 잃었다는 평가를 받고 있다.
을국의 일부 젊은이들은 사회 전반에 퍼진 삶의 방식이 지나치게 경쟁적이고, 이기적이며, 물질 중심적이라고 비판하며 그들만의 새로운 삶의 양식을 만들어 나갔다. 이들은 물질 소유를 최소화하고 인간으로서 정신적 성장을 중시하는 삶의 양식을 추구하였다.

- ① 반문화는 전체 사회에서 주류 문화가 된다.
② 하위문화와 반문화는 모두 세대 간 갈등의 원인이 된다.
③ 주류 문화에 대항하는 구성원에 의해 반문화가 형성된다.
④ 주류 문화와 하위문화는 모두 사회의 안정과 통합에 기여한다.
⑤ 반문화는 주류 문화로 변화하는 과정에서 정체성이 상실된다.

064

250608 | 86%

다음 자료에 대한 설명으로 옳은 것은? (단, A~C는 각각 주류 문화, 하위문화, 반문화 중 하나임.)



이번 시간에는 A, B, C에 대해 배워 봅시다. 아래 자료에서 ㉠은 A, ㉡은 B에 해당합니다. C는 아래 자료상으로는 확인 할 수 없습니다.

19세기 중반부터 20세기 중반까지 다수의 유럽계 이민자들이 갑국의 ○○지역으로 이주해 왔다. 이들은 주로 ○○지역의 부두 주변에 정착하여 빈민촌을 이루고 살았다. 당시 이민자들이 고된 노동을 잊고 고향을 그리워하며 뒷골목에서 추던 ㉠ 춤은 시간이 흐르면서 대중화되었고 이것은 오늘날 갑국 국민들 누구나 즐기는 ㉡ 춤으로 발전하였다.

- ① A는 전체 사회의 문화적 다양성을 높이는 데 기여한다.
② B는 A와 C의 총합으로 구성된다.
③ A와 달리 B는 해당 문화를 향유하는 구성원들의 유대감 형성에 기여한다.
④ B와 달리 A는 한 사회의 지배적인 문화에 저항하거나 대립하는 문화이다.
⑤ ㉠에서 ㉡으로의 변화는 주류 문화가 하위문화로 변한 사례이다.

065

251106 | 89%

밑줄 친 ㉠~㉣에 대한 설명으로 옳은 것은? [3점]

갑국에서는 손을 씻으면 영혼이 오염되어 목숨이 위험해진다는 ㉠ 전통적 믿음 때문에 손을 잘 씻지 않는 관습이 있었다. 이로 인해 많은 사람이 감염병으로 목숨을 잃었다. 한 의사가 손 씻기로 건강을 유지하고 생명을 지킬 수 있다는 사실을 알리면서 갑국의 A지역에서는 ㉡ 손을 잘 씻는 문화가 형성되었다. ㉢ 이러한 문화가 조금씩 퍼져 나가자 대다수 갑국 사람들은 자신들의 믿음을 해친다는 이유로 A지역 사람을 비난하며 ㉣ 자신들의 문화를 지키기 위해 저항하였다. 갑국에서 감염병이 유행했을 때, A지역 사망률은 다른 지역에 비해 현저히 낮았다. 손 씻는 간단한 행위로 질병을 예방할 수 있다는 사실을 깨닫자 갑국에서는 ㉤ 손을 잘 씻어 위생 관리를 철저히 하는 생활 습관이 보편화되었다.

- ① ㉠은 지배 세력에 반발하여 사회 통합이 이루어진 사례이다.
② ㉡은 주류 문화가 하위문화로 변한 사례이다.
③ ㉢은 문화 변동이 빠르게 진행되어 나타난 문화 지체 사례이다.
④ ㉣은 지역 문화가 주류 문화에 대항한 반문화 사례이다.
⑤ ㉤은 하위문화가 주류 문화로 변한 사례이다.

SECTION 13

★★★★☆ 89%

대중문화와 대중매체

066

250606 | 98%

(가)에 들어갈 수 있는 내용으로 가장 적절한 것은?

중요한 결승 경기라서 그런지 화면이 온통 광고 투성이야! 도대체 경기에 집중할 수가 없네.

그건 대중문화가 (가) 때문이야. 마찬가지로 요즘 드라마에도 뜬금없이 상품을 노출해서 집중이 안 돼!

- ① 계층 간 문화적 차이를 줄이기
- ② 지나치게 상업적인 성격을 띠기
- ③ 개인의 독창성과 개성을 약화시키기
- ④ 선정적이고 폭력적인 내용을 담고 있기
- ⑤ 사회 문제에 대한 대중의 관심을 다른 곳으로 돌리기

067

250916 | 76%

다음 두 사례에서 공통적으로 도출할 수 있는 대중문화의 기능으로 가장 적절한 것은?

- 의료 지식, 법률 지식과 같이 오랜 기간 숙련을 통해 얻는 전문 지식은 소수의 특권이였다. 하지만 의무 교육의 확산과 TV, 인터넷을 통한 정보 공유로 대다수 사람이 응급 상황이나 법적 분쟁에 어느 정도 대처할 수 있게 되었다.
- 과거에 골프는 상류층이 즐기는 스포츠라는 인식이 강했다. 하지만 산업화로 인해 대중의 경제적 수준이 높아지고, 스포츠 미디어의 활성화로 인해 골프가 대중에게 친숙해지면서 예전보다 많은 사람이 골프를 즐기게 되었다.

- ① 오락 및 여가의 기회를 제공하여 삶의 질을 높인다.
- ② 고급문화를 대중화하여 평균적인 문화 수준을 높인다.
- ③ 성숙한 시민 의식을 제고하여 사회의 다원화에 기여한다.
- ④ 소수에게 집중된 권력을 견제하여 민주주의를 발전시킨다.
- ⑤ 대중을 수동적인 문화 소비자에서 주체적 생산자로 만든다.

068

251107 | 93%

다음 글에서 필자가 강조하는 현대 사회의 대중이 가져야 할 자세로 가장 적절한 것은?

급변하는 세상에서 사람들은 무한히 제공되는 정보를 모두 살펴볼 여유가 없다. 그로 인해 사회 이슈를 직관적으로 이해할 수 있게 가공한 콘텐츠들이 인기를 얻는다. 사람들은 가공된 콘텐츠를 소비할 때 자신이 정보를 찾고 스스로 생각해 판단한다고 느낀다. 하지만 해당 콘텐츠에는 제작자의 편향된 시각이 반영되어 있어 정보를 받아들이는 대중은 제작자의 시각에 동화된다. 이처럼 사유를 외주화하는 사람들이 많아지면 비슷한 생각을 가진 사람들이 폐쇄적 집단에 머물며 다른 생각을 가진 사람들을 배척하는 상황이 발생한다. 이는 다원화된 민주사회의 형성을 어렵게 만든다. 디지털 기술이 정보의 소비 선택성과 생산 주체성을 높여 줄 수는 있지만 그 자체가 지성적인 대중을 만드는 것은 아니다. 개인은 지성적 사유의 주체가 되어야 한다.

- ① 정보 기기에 대한 과도한 의존을 경계한다.
- ② 정보를 비판적으로 분석하고 평가하는 능력을 함양한다.
- ③ 문화의 질적 저하 방지를 위해 지나친 상업성을 경계한다.
- ④ 문화의 다양성 제고를 위해 콘텐츠 생산에 적극적으로 참여한다.
- ⑤ 표현의 자유를 이유로 타인의 권리를 침해하지 않도록 유의한다.

SECTION 14

★★★★☆ 76%

문화 변동

069

240619 | 94%

다음 자료에 대한 설명으로 옳은 것은? [3점]

<문화 변동 사례>

- (가) A국을 대표하는 ○○음악은 전통적으로 내려오던 멜로디와 악기에서 출발하였다. 이후 이민자에 의해 들어온 다양한 음악과 악기를 받아들여 고유한 요소와 외래적 요소가 함께 어우러진 독특한 음악으로 재탄생한 것이 오늘날의 ○○음악이다.
- (나) □□족은 B국의 지배를 받게 되면서 거주지가 재배치 되었고, 심지어 아이들은 B국 사람들의 가정에 입양되어 B국의 언어와 복식을 따라야만 했다. 이로 인해 □□족의 고유한 문화는 소멸되었다.

교사 : 문화 변동 사례를 읽고 탐구한 내용을 발표해 보세요.
 갑 : (가)와 (나)는 모두 외재적 요인에 의한 문화 변동의 사례로 볼 수 있습니다.
 을 : (나)에서는 (가)와 달리 기존의 문화와 외래문화가 결합하여 새로운 문화가 나타났습니다.
 병 :
 교사 : 세 사람 중 두 사람만 옳게 발표했네요.

- ① (가)의 문화 변동 요인은 자극 전파이다.
- ② (가)에서는 (나)와 달리 자문화의 정체성이 상실되었다.
- ③ (나)에서는 (가)와 달리 문화 다양성이 증대되었다.
- ④ (나)에서는 (가)와 달리 강제적 문화 접변이 나타났다.
- ⑤ ㉠에는 '(나)의 문화 변동 요인은 간접 전파입니다.'가 들어갈 수 있다.

070

240913 | 70%

다음 사례에 나타난 문화 변동에 대한 설명으로 옳은 것은? [3점]

A국 영화인들은 영화 산업이 발달한 B국 영화인에게 영화 제작 기법 및 특수 효과 기술을 배워 왔다. 그 후 A국에서 자국의 전통적 정서와 B국의 특수 효과 기술이 섞인 새로운 영화 장르가 탄생했다. 한편, B국 어업인들이 조업 활동 중 C국 어업인이 훔쳐 준 라면을 먹게 되면서 B국에 C국 라면이 처음 전해졌다. 이후 B국 요리사가 C국 라면에 자국의 전통 소스를 가미해 국물이 없는 비빔라면을 개발하였다. B국의 비빔라면 조리 방식은 인터넷을 통해 C국 젊은이들에게까지 확산되었다.

- ① A국에서는 B국과 달리 문화 융합이 나타났다.
- ② B국에서는 A국과 달리 문화 접변이 나타났다.
- ③ B국에서는 C국과 달리 문화 공존이 나타났다.
- ④ A국에서는 직접 전파, B국에서는 간접 전파가 나타났다.
- ⑤ A국~C국에서는 모두 물질문화의 전파가 나타났다.

071

241114 | 63%

다음 자료에 대한 설명으로 옳은 것은? [3점]

○○국의 음식 문화 변동 양상에 대한 모둠 과제 우수 사례

<p><1모둠></p> <p>○○국 내에 갑국 이주민 거주 지역에서나 볼 수 있던 갑국의 전통 음식 A가 전국적으로 유행함. 특히 ○○국 젊은 세대 사이에서 자국적인 맛으로 A가 인기임.</p>	<p><2모둠></p> <p>○○국 음료 회사는 다이어트 열풍으로 을국의 무설탕 음료 B의 제조법에 자극 받아 새로운 무열량 음료를 개발함. 젊은 층의 선호로 ○○국에서 전통 음료와 B의 판매량을 추월함.</p>
<p><3모둠></p> <p>○○국 제과 회사가 만든 과자 C는 병국의 과자에 ○○국의 식재료인 황태 가루를 넣은 새로운 과자임. 병국의 유명 연예인이 C가 병국 과자를 대체할 수 있을 만큼 맛있다고 하자 ○○국보다 병국에서 많이 판매됨.</p>	<p><4모둠></p> <p>막대기에 과일 사탕을 꽂은 정국의 디저트 D가 SNS를 통해 ○○국에 알려짐. 이후 ○○국 젊은이들이 인터넷에서 배운 조리법 대로 D를 만들어 먹기 시작하며 D가 젊은 세대 문화로 스며들.</p>

- ① 1모둠과 2모둠이 작성한 내용에 모두 문화 공존이 나타난다.
- ② 3모둠과 4모둠이 작성한 내용에 모두 문화 융합이 나타난다.
- ③ 1모둠이 작성한 내용에 발명이, 2모둠이 작성한 내용에 직접 전파가 나타난다.
- ④ 3모둠이 작성한 내용에 문화 동화가, 4모둠이 작성한 내용에 간접 전파가 나타난다.
- ⑤ 1모둠과 2모둠이 작성한 내용에 모두 자극 전파가, 3모둠과 4모둠이 작성한 내용에 모두 자발적 문화 접변이 나타난다.

072

250612 | 86%

밑줄 친 ㉠~㉣에 대한 설명으로 옳은 것은? [3점]

마테차는 세계인이 즐겨 마시는 음료이다. 과거 남미의 과라니족은 인근 밀림에서 자생하는 ㉠마테잎을 채집하여 ㉡즙 형태의 차로 마시는 방법을 개발하였다. 식민 시기 이래 남미 남부 지역에 ㉢새로운 종교를 들여온 선교사를 비롯한 유럽인들은 ㉣과라니족의 종교와 문화가 유럽에 비해 뒤떨어진 것이라는 생각에 마테잎을 '악마의 풀'이라고 부르며 천시하였다. 하지만 이후 ㉤마테잎의 효능이 알려지자 마테차를 안 마시던 유럽인들도 마시기 시작하면서 남미 남부 지역을 중심으로 재배지가 확산되었다. 오늘날 일부 학자는 이 지역 ㉥여러 나라의 마테차 문화에 나타나는 유사성과 차이점을 분석하여 문화의 보편성과 특수성을 이해 하는 연구를 수행하고 있다.

- ① ㉠은 발명, ㉡은 발견에 해당한다.
- ② ㉢은 간접 전파에 해당한다.
- ③ ㉣은 유럽인들의 문화 상대주의적 태도를 보여 준다.
- ④ ㉤은 강제적 문화 접변에 해당한다.
- ⑤ ㉥에는 문화를 바라보는 비교론적 관점이 나타난다.

073

250918 | 77%

(가), (나)에 대한 설명으로 옳은 것은?

(가) 갑국에는 400여 종의 지역 전통주가 있었다. 갑국을 지배하게 된 을국은 막대한 이익을 창출하고자 갑국의 전통주 제조를 금지하는 법을 제정하고 자국의 재료를 들여와 직접 술을 제조하여 판매 하였다. 을국으로부터 독립한 현재까지도 갑국의 전통주는 문헌에만 존재하고 있다.

(나) 병국 근로자들은 추운 날씨에 밖에서 일할 때 몸을 따뜻하게 해주는 용도로 전통주를 즐겨 마셨다. 병국으로 대거 귀화한 정국의 근로자들이 최근 이 전통주에 자신들이 정국에서 들여온 약재를 섞어 마시기 시작했고, 효능이 알려지자 병국의 주류 회사가 이 술을 '○○약주'라는 이름으로 특허를 내 상품을 판매했다.

- ① (가)에서는 강제적 문화 접변의 결과로 문화 융합이 나타났다.
- ② (나)에서는 발명에 의한 문화 변동이 나타났다.
- ③ (가)와 달리 (나)에서는 자극 전파에 의한 문화 변동이 나타났다.
- ④ (나)와 달리 (가)에서는 문화의 정체성이 상실되는 문화 변동이 나타나지 않았다.
- ⑤ (가)와 (나)에서는 모두 직접 전파에 의한 문화 변동이 나타났다.

074

251119 | 69%

다음 자료에 대한 설명으로 옳은 것은?

A국 디저트 열풍에 대한 조사

<p>A국에서 유행하는 B국의 고급 초콜릿 디저트</p> <p>B국의 상류 사회에서 즐겨 먹던 고급 초콜릿을 B국에 여행을 다녀온 A국 사람들이 기념 선물로 들여 오면서 A국에서 다수가 좋아하는 디저트가 됨.</p> <p style="text-align: right;">작성자: 갑 </p>	<p>A국의 전통 음식을 재해석한 복고풍 디저트</p> <p>A국 연예인이 자국의 인기 있는 TV 프로그램에서 사라진 전통 음식을 찾아 젊은 세대의 입맛에 맞는 독특한 디저트를 만들어 소개함. 이후 이 디저트는 A국의 여러 세대에서 즐겨 먹는 다양한 디저트 중 하나가 됨.</p> <p style="text-align: right;">작성자: 을 </p>	<p>A국 사람들이 정보를 공유하며 즐겨 먹는 C국 디저트</p> <p>C국 유명 요리사가 자국의 전통 디저트를 판매하는 카페를 A국에 차리면서 SNS를 통해 카페 정보가 A국 사람들에게 공유됨. A국 사람들이 이 디저트를 즐겨 새로운 음식 문화로 정착됨.</p> <p style="text-align: right;">작성자: 병 </p>
---	---	--

- ① 갑이 작성한 내용에는 문화 동화가 나타난다.
- ② 을이 작성한 내용에는 자발적 문화 접변이 나타난다.
- ③ 병이 작성한 내용에는 직접 전파가 나타난다.
- ④ 갑과 달리 을, 병이 작성한 내용에는 문화 공존이 나타난다.
- ⑤ 갑, 을과 달리 병이 작성한 내용에는 문화 융합이 나타난다.

SECTION 15

★★★★☆ 64%

사회 불평등 현상을 바라보는 관점

075

250618 | 70%

다음 글에서 도출할 수 있는 사회 불평등 현상을 바라보는 필자의 관점에 대한 옳은 설명만을 <보기>에서 고른 것은? [3점]

임금 노동자들은 많이 일하면서도 최소한의 임금을 받는다. 하지만 이것은 최저 임금이 아닌 평균 임금이라고 규정되고, 부당한 임금 구조는 은폐된다. 이러한 구조를 유지하기 위해 자본가들은 국가를 통해 법을 제정하고 교육을 관리한다. 이 과정에서 사람들은 사회가 질서 정연하게 유지되고, 각자의 기능과 역할에 따라 부가 공정하게 분배된다고 믿게 된다.

- ㄱ. 사회 불평등을 부당하고 해결해야 할 현상으로 본다.
- ㄴ. 균등 분배가 인재의 적재적소 배치에 어려움을 야기한다고 본다.
- ㄷ. 사회 제도를 지배와 피지배 관계의 재생산을 위한 수단으로 본다.
- ㄹ. 사회적 희소가치의 배분 기준이 사회적으로 합의된 것이라고 본다.

- ① ㄱ, ㄴ ② ㄱ, ㄷ ③ ㄴ, ㄷ ④ ㄴ, ㄹ ⑤ ㄷ, ㄹ

076

251116 | 59%

다음 자료에 대한 옳은 설명만을 <보기>에서 고른 것은? (단, A, B는 각각 기능론과 갈등론 중 하나임.)

<확인 평가>

○ 제시된 '진위 판단'에 부합하도록 빈칸을 채워 진술을 완성하십시오.

진위 판단	진위 판단에 부합하는 진술	채점 결과
참	A와 달리 B는 <u>희소 자원의 차등 분배가 개인의 성취동기에 긍정적으로 작용한다고 본다.</u>	0점
거짓	B와 달리 A는 <u>(가)</u>	①

* 교사는 완성한 진술별로 채점하고, 제시된 '진위 판단'에 부합하도록 진술을 완성한 경우에는 1점을, 그렇지 않은 경우에는 0점을 부여함.

- ㄱ. A는 직업 유형 간 사회적 중요도의 차이가 없다고 본다.
- ㄴ. B는 사회 불평등 현상을 제거해야 하는 대상이라고 본다.
- ㄷ. (가)에 '개인의 귀속적 요인이 사회 불평등에 미치는 영향력을 중시한다.'가 들어간다면, ①은 '0점'이다.
- ㄹ. ①이 '1점'이라면, (가)에 '사회적 희소가치의 분배 기준은 사회 전체가 합의한 것이라고 본다.'가 들어갈 수 없다.

- ① ㄱ, ㄴ ② ㄱ, ㄷ ③ ㄴ, ㄷ ④ ㄴ, ㄹ ⑤ ㄷ, ㄹ

SECTION 16

★★★★☆ 87%

사회적 소수자

077

240608 | 89%

다음 두 사례에서 공통적으로 도출할 수 있는 결론으로 가장 적절한 것은?

- 갑국에서 외국인 근로자는 전체 인구의 약 10%에 해당한다. 이들을 대상으로 일상생활에서 차별받은 경험 여부를 조사했더니 대다수가 갑국 사회에서 차별받은 경험이 있다고 응답했다. 또한 내국인의 경우처럼 남성보다 여성이 더 심한 차별을 받는 것으로 나타났다.
- 을국은 A 민족과 B 민족으로 구성되어 있는데, B 민족이 전체 인구의 70% 정도임에도 정치·경제의 대부분을 장악한 A 민족으로부터 차별을 받는다. 한편, 을국에서는 종교에 따른 차별도 존재하는데, B 민족의 경우 국교가 아닌 타 종교를 믿는 사람들은 더 심한 차별을 받고 있다.

- ① 수적으로 열세이기 때문에 사회적 소수자가 된다.
- ② 사회적 소수자에 대한 우대 정책이 역차별을 낳을 수 있다.
- ③ 한 개인이 여러 사회적 소수자 집단에 중첩되어 속할 수 있다.
- ④ 사회적 소수자를 규정하는 기준은 가변적이지 않고 고정적이다.
- ⑤ 사회적 소수자는 선천적 요인이 아닌 후천적 요인에 의해 결정된다.

078

241108 | 75%

사회적 소수자 A, B에 대한 설명으로 옳은 것은? [3점]

- 갑국에 사는 노인 A는 취업 시장에서 불이익을 받거나 카페 등 특정한 장소에서 입장에 제한을 받는 등 나이가 많다는 이유로 차별받았다.
- 강제 이주로 3대째 을국에서 살고 있는 이주민의 3세 B는 을국 사람들과 구분되는 민족적, 인종적 특성으로 인해 을국에서 차별받았다.

- ① A는 B와 달리 권력의 열세로 인해 차별받았다.
- ② A는 B와 달리 여러 사회적 소수자 집단에 중첩되어 속해 있다.
- ③ B는 A와 달리 고정 관념으로 인해 차별의 대상이 되었다.
- ④ B는 A와 달리 식별 가능성으로 인해 차별의 대상이 되었다.
- ⑤ A와 B는 모두 귀속적 특성으로 인해 차별받았다.

079

250616 | 92%

다음 자료에 대한 설명으로 옳은 것은? [3점]

□□신문

○○○○년 ○○월 ○○일

갑국의 '이민자 통합 프로그램' 이대로 좋은가?

며칠 전 갑국에서는 야외 공연장을 가득 메운 사람들 사이에서 이민자들의 외모와 음식 문화를 비하하는 노래가 울려 퍼졌다. 갑국 내 극소수에 불과해 오랜 기간 취업과 임금 등에서 차별받아 온 ㉠ 이민자들은 이에 강하게 반발했고 양측의 충돌로 인해 유혈 사태가 발생하게 되었다. 특히 이를 해결하는 과정에서 경찰이 ㉡ 이민자가 아닌 갑국 사람들은 조사하지 않고 이민자들에 대해서만 강압 수사를 벌이면서 문제는 더욱 심각해졌다. 이러한 일련의 사건들로 인해 그동안 갑국 정부가 추진해 왔던 '이민자 통합 프로그램'의 효과가 의문시되고 있다.

- ① ㉠은 사회적 소수자로서의 정체성을 갖고 있다.
- ② ㉠에 비해 ㉡은 정치권력의 열세에 놓여 있다.
- ③ ㉡에 비해 ㉠은 경제적 자원 획득에서 유리한 위치에 있다.
- ④ 제도적 차원의 노력을 통해 차별을 해소한 사례를 보여 준다.
- ⑤ 한 사회 내에서 수적으로 우세하더라도 사회적 소수자가 될 수 있음을 보여 준다.

080

250919 | 89%

다음 자료에 대한 옳은 설명만을 <보기>에서 고른 것은? [3점]

A국으로 이주한 갑은 □□ 보건소 주임으로 근무하면서 여성이라는 이유로 근로 조건에서 차별을 당하자 승진을 통해 이를 극복하려고 지방 관리직 시험에 응시하려 했다. 보건소 부소장은 규정상 A국 국적이 없으면 관리직이 될 수 없다는 이유로 접수를 거부했다. 이에 갑은 □□시를 상대로 수험 자격이 있음을 확인해 달라는 소송을 제기했다. 1심 법원은 A국 국적을 가진 사람이 공권력을 행사하는 관리직이 되는 게 원칙이므로 외국인의 관리직 취임이 불가능하다고 판단했다. 하지만 2심 법원은 □□시의 처분이 헌법이 보장한 직업 선택의 자유를 제한하고 차별 금지를 위반했다는 점에서 위법이라고 판단했다. □□시는 2심 판결에 불복하여 현재 상고심을 준비 중이다. 이에 A국 ㉠ 시민 사회를 중심으로 2심 판결을 지지하며 □□시의 판결 불복을 규탄하는 집회가 전국 각지에서 일어났다.

- ㄱ. 갑은 적극적 우대 조치로 인해 역차별을 받는 집단에 속해있다.
- ㄴ. 갑은 여러 사회적 소수자 집단에 속해 다양한 차별을 받았다.
- ㄷ. 2심 판결은 사회적 소수자의 불리한 위치를 제도적으로 개선하자는 주장의 근거가 될 수 있다.
- ㄹ. ㉠은 사회적 소수자에게 A국 국민과 동등한 권리를 부여해서는 안 된다고 인식하고 있다.

- ① ㄱ, ㄴ ② ㄱ, ㄷ ③ ㄴ, ㄷ ④ ㄴ, ㄹ ⑤ ㄷ, ㄹ

081

251117 | 90%

다음 자료에 대한 설명으로 옳은 것은? [3점]

□□국은 소수이지만 지배층을 이루는 A족과 다수이지만 지배를 받는 B족으로 구성되어 있었다. A족 출신 직업 군인인 갑은 ㉠ 자신에게 주어진 업무 처리를 위해 철저히 준비하여 조직에서 우수한 성과를 내었다. 빠른 진급을 하며 승승장구하던 갑은 훈련 도중 불의의 사고로 장애 판정을 받아 더 이상 군 생활을 할 수 없었다. 이후 다른 직종에 취업하려 했으나 장애인에 대한 사회적 편견으로 인해 늘 거절당했다. 갑이 생활의 어려움을 겪던 중 □□국에서 대다수를 이루는 B족이 권력을 장악하게 되었다. B족은 권력의 정통성을 확보하기 위해 A족에게 인종 차별 정책을 시행하였다. 인종 차별까지 겪은 갑은 ㉡ □□국에서 생활을 계속해야 할지 차별이 없는 다른 나라로 이주해야 할지 고민하였다.

- ① ㉠은 갑의 계기 사회화이다.
- ② ㉡은 갑의 역할 갈등이다.
- ③ 갑은 생득적 요인과 후천적 요인에 따른 차별을 모두 경험하였다.
- ④ A족과 달리 B족은 수적인 열세로 인해 차별을 받았다.
- ⑤ B족과 달리 A족은 사회적 소수자 우대 정책으로 역차별을 받았다.

SECTION 17

★★★★☆ 79%

빈곤

082

240905 | 74%

다음 자료에 대한 옳은 설명만을 <보기>에서 있는 대로 고른 것은? [3점]

[서술형 평가] 다음 글에 제시된 빈곤의 유형 A에 대한 옳은 설명을 4가지 쓰시오.

일반적으로 빈곤은 인간의 기본적 욕구와 관련된 물질적 결핍이 만성적으로 지속되는 경제적 상태를 의미한다. 실령 인간으로서 최소 생활 유지에 필요한 자원이나 소득이 확보된 상태라 해도 사회의 전반적 소득 수준과 비교하여 소득 수준이 낮은 상태 역시 빈곤으로 분류된다. 이런 유형의 빈곤을 A라 한다.

[학생의 답안과 교사의 채점 결과]

답안	채점 결과
우리나라에서는 객관화된 기준을 적용하여 파악한다.	㉠
(가)	○
(나)	×
소득 수준이 높은 국가에서는 나타나지 않는다.	㉡

(○: 맞음, ×: 틀림)

- ㄱ. ㉠과 ㉡에 해당하는 채점 결과는 동일하다.
- ㄴ. (가)에는 '우리나라에서는 최저 생계비를 기준으로 빈곤선이 결정된다.'가 들어갈 수 있다.
- ㄷ. (나)에는 '개인이 주관적으로 빈곤하다고 인식하는 상태를 의미한다.'가 들어갈 수 있다.

- ① ㄱ ② ㄷ ③ ㄱ, ㄷ ④ ㄴ, ㄷ ⑤ ㄱ, ㄴ, ㄷ

083

241117 | 84%

빈곤의 유형 A, B에 대한 설명으로 옳은 것은? (단, A, B는 각각 절대적 빈곤, 상대적 빈곤 중 하나임.)

소설 ○○○는 1970년대를 배경으로 하여 최소한의 생계유지를 하지 못하는 A 가구의 삶을 그리고 있다. 소설의 주인공은 생필품조차 구매할 수 없는 저임금을 받고 고된 노동을 한다. 2020년대를 배경으로 한 드라마 □□□는 A에서는 벗어났지만 사회 구성원 다수가 누리는 생활 수준을 충족하지 못하는 B 가구의 삶을 그리고 있다. 드라마 속 주인공은 부자들의 모습에 상대적 박탈감을 느낀다.

- ① A는 상대적 박탈감이라는 사회 문제를 유발하지 않는다.
- ② 우리나라에서 가구 소득이 중위 소득에 미치지 못하는 가구는 모두 B 가구이다.
- ③ A는 B와 달리 사회 구성원의 소득 분포에 따라 상대적으로 규정된다.
- ④ B는 A와 달리 경제 성장을 통해 해결할 수 있다.
- ⑤ 상대적 빈곤선이 절대적 빈곤선보다 높으면 A에 해당하는 모든 가구는 B에 해당한다.

SECTION 18

★★★★☆ 78%

진화론 vs 순환론

084

240616 | 77%

다음 글에 나타난 사회 변동의 방향을 보는 필자의 관점에 대한 옳은 설명만을 <보기>에서 고른 것은? [3점]

야만 시대에서 문명 시대로의 전개 과정은 다음과 같다. 초기 야만 시대에는 별다른 지식이나 기술이 없었다. 중기 야만 시대는 불의 발견, 후기 야만 시대는 활과 창 의 발명 및 수렵 경제를 특징으로 한다. 야만과 미개 시대의 경계선은 토기의 발명이다. 초기 미개 시대에는 토기 사용으로 식량 저장과 재산 축적이 이루어졌다. 중기 미개 시대에는 가축 사육 및 관개 농업이 나타났다. 후기 미개 시대는 철광석의 제련을 특징으로 하며, 문자의 발명과 더불어 마침내 문명 시대로 나아갔다.

- ㄱ. 운명론적 시각에서 사회 변동을 설명한다.
- ㄴ. 사회 변동을 동일한 과정의 주기적 반복으로 설명한다.
- ㄷ. 사회는 미분화된 상태에서 분화된 상태로 변동한다고 본다.
- ㄹ. 사회의 변동이 항상 진보와 발전을 의미하는 것은 아니라는 비판을 받는다.

- ① ㄱ, ㄴ ② ㄱ, ㄷ ③ ㄴ, ㄷ ④ ㄴ, ㄹ ⑤ ㄷ, ㄹ

085

240908 | 81%

사회 변동 이론 (가), (나)에 대한 설명으로 옳은 것은? (단, (가), (나)는 각각 순환론, 진화론 중 하나임.) [3점]

(가) 인간의 성장처럼 사회도 성장해 나간다. 하지만 인간이 성장을 멈추고 노화가 진행되듯, 사회도 일정한 한계점을 지나면 성장의 그래프는 꺾이기 마련이다. 다만 이미 사라져 버린 사회들의 경험을 참고하여 해체에 이르기까지의 생존 기간을 늘릴 수 있을 뿐이다.

(나) 사회는 본질적으로 과거의 유산을 토대로 하여 더 나은 상태로 나아간다. 인간은 기존의 지식을 바탕으로 새로운 아이디어와 기술을 창출해 혁신을 이어 가고 있기 때문이다. 이러한 과정에서 사회는 항상 성장의 발걸음을 이어 왔으며 앞으로도 그럴 것이다.

- ① (가)는 미래의 사회 변동에 대한 역동적 대응이 곤란하다는 비판을 받는다.
- ② (나)는 사회 변동이 항상 발전을 의미하는 것은 아니라고 본다.
- ③ (가)는 (나)와 달리 서구 사회가 가장 진보한 사회임을 전제한다.
- ④ (나)는 (가)와 달리 사회가 주기적으로 동일한 과정을 반복하며 변동한다고 본다.
- ⑤ (가)는 단기적 사회 변동을, (나)는 장기적 사회 변동을 설명하기에 적합하다.

086

241113 | 79%

사회 변동 이론 (가), (나)에 대한 설명으로 옳은 것은? (단, (가), (나)는 각각 진화론, 순환론 중 하나임.)

(가) 자연 현상에 빗대어 사회 변동을 설명하면 그 방향을 쉽게 이해할 수 있다. 태양 주위로 지구와 달이 돌면서 낮과 밤, 밀물과 썰물, 계절이 번갈아 가며 나타나듯 사회는 변동한다.

(나) 자연 현상에 빗대어 사회 변동을 설명하면 그 방향을 쉽게 이해할 수 있다. 모든 생명체가 적자생존의 상황에서 살아남기 위한 경쟁을 통해 더 나은 방향으로 변화하듯 사회는 변동한다.

- ① (가)는 장기적인 사회 변동의 과정을 설명하기 어렵다.
- ② (나)는 단선적인 사회 변동의 과정을 설명하기 어렵다.
- ③ (가)는 (나)에 비해 사회 변동 방향을 예측하여 대응하기 어렵다.
- ④ (나)는 (가)와 달리 과거에 비해 진보한 사회를 설명하기 어렵다.
- ⑤ (가)는 서구 중심적 사고라는, (나)는宿命론적 사고라는 비판을 피하기 어렵다.

087

250617 | 71%

그림에 대한 설명으로 옳은 것은? (단, A, B는 각각 진화론, 순환론 중 하나임.)

㉠ 시민권의 역사는 인간의 주체적 노력을 통한 사회 변동이라는 점에서 A로 설명하기 어렵습니다. 과거 부르주아들은 왕과 귀족 중심의 봉건적이고 비합리적인 체제에 저항하며 자유적 시민권을 확보하였고, 노동자들은 이를 근거로 ㉡ 참정권 확대 운동을 전개하여 정치적 시민권을 획득하였습니다. 그리고 이것은 사회적 시민권의 제도화로 나아가는 데 있어서 필수적인 토대였습니다. 이러한 시민권의 발전 과정은 어느 사회에나 보편적으로 적용됩니다. 즉, 시민권의 역사는 인류 사회 모든 구성원의 보호라는 궁극적인 목적을 향한 다양한 지위와 권리의 분화 과정이라는 점에서 (가)는 B의 특징을 잘 보여 줍니다.



- ① ㉡은 사회 변화에 저항하고 과거 질서로 회귀하려는 사회 운동이다.
- ② B는 사회 변동이 주기적으로 동일한 과정을 반복한다고 본다.
- ③ 갑은 사회적 시민권이 자유적 시민권의 획득 단계를 거쳐야만 보장될 수 있다고 본다.
- ④ 갑은 A의 관점에서 ㉠을, B의 관점에서 ㉡을 해석하고 있다.
- ⑤ (가)에는 '모든 사회 변동이 항상 진보를 의미하지는 않는다'가 들어갈 수 있다.

088

250912 | 75%

다음 글에서 사회 변동의 방향을 바라보는 필자의 관점에 대한 옳은 설명만을 <보기>에서 고른 것은?

명(明)조의 시작은 고요한 겨울날 같았다. 왕조의 전반기는 질서와 안정 그 자체였다. 왕조의 겨울은 얼마 후 시끌벅적한 봄에 자리를 내주고 말았다. 소박한 농경 사회의 안정성은 투기적 상업에 자리를 빼앗겼다. 여름에 접어들면서 빈부 격차가 심해지고 농경 사회의 토대는 무너져 내렸다. 가을에는 은의 유입과 상품 경제의 발달로 부자 대 빈자, 상인 대 농민, 이윤 대 도덕이 대립하면서 참혹함이 더욱 심해졌다. 하지만 새로운 왕조는 질서를 회복하며 안정을 향해 나아갔다.

- ㄱ. 사회의 퇴보나 멸망을 설명하기 어렵다.
- ㄴ. 단기적 사회 변동 과정을 설명하기 힘들다.
- ㄷ. 제국주의를 정당화하는 수단으로 악용될 수 있다.
- ㄹ. 미래의 사회 변동에 대한 역동적인 대응이 어렵다.

- ① ㄱ, ㄴ ② ㄱ, ㄷ ③ ㄴ, ㄷ ④ ㄴ, ㄹ ⑤ ㄷ, ㄹ

089

251118 | 87%

다음 글에서 사회 변동의 방향을 바라보는 필자의 관점에 대한 옳은 설명만을 <보기>에서 고른 것은?

인간이 찾아낸 과학적 지식은 자연이 가하는 제약으로 만들어진 원시적인 미신과 선입견, 오류를 극복하는 과정에 축적되고 정해진 하나의 방향을 향해 진전하며 확장한다. 문명의 전개도 근대 과학의 이러한 과정과 유사하다.

- ㄱ. 서구 중심적 사고라는 비판을 피하기 어렵다.
- ㄴ. 사회 변동 방향을 예측하여 대응하기 어렵다.
- ㄷ. 지속적으로 발전하는 사회를 설명하기 용이하다.
- ㄹ. 인류 문명의 흥망성쇠 역사를 설명하기 용이하다.

- ① ㄱ, ㄴ ② ㄱ, ㄷ ③ ㄴ, ㄷ ④ ㄴ, ㄹ ⑤ ㄷ, ㄹ

SECTION 19

☆☆☆☆☆ 88%

사회 운동

090

240617 | 82%

밑줄 친 ㉠, ㉡에 대한 설명으로 가장 적절한 것은? [3점]

- 1920년대의 ㉠계몽 운동은 서울의 학생과 청년 지식인, 문화 단체 및 동경 유학생들에 의해서 시작되었다. 학생들은 야학을 개설하여 문명 퇴치 운동을 벌였고, 농촌 발전을 위한 여러 활동을 전개하였다. 이러한 민중 계몽 운동은 이후 민족 독립운동에 기여하였다.
- 1960년대 후반 생태 보호 운동에서 출발한 미국의 '환경 수호단'은 환경 보호법 제정 및 친환경 정책 촉구 등 일련의 ㉡환경 운동을 추진해왔다. 2000년대 초에 정부가 이산화탄소 배출 및 디젤에 대한 규제를 완화하려 하자 환경 수호단의 수많은 회원은 엄청난 양의 항의 이메일과 팩스를 백악관과 환경청에 보내 정부 정책을 강하게 비판하였다.

- ① ㉠은 일반 시민이 아닌 국가가 주도한 사회 운동이다.
- ② ㉡은 산업화 과정에서 나타난 문제를 개선하기 위한 사회 운동이다.
- ③ ㉠은 ㉡과 달리 사회 변화에 저항하고 과거 질서로 회귀하려는 사회 운동이다.
- ④ ㉡은 ㉠과 달리 특정 집단 구성원의 삶의 질 향상을 목표로 하는 사회 운동이다.
- ⑤ ㉠과 ㉡은 모두 사회 체제의 전면적인 변혁을 추구하는 사회 운동이다.

091

240914 | 81%

(가)~(라)에 대한 옳은 설명만을 <보기>에서 고른 것은?

- (가) □□ 환경 단체는 탄소 중립 실현을 위해 대중교통 이용하기, 플라스틱 사용 줄이기, 불필요한 이메일 삭제하기 등 다양한 캠페인 활동을 꾸준히 하고 있다.
- (나) 국민 가수로 칭송받던 인기 연예인이 음주 운전 차량에 치어 사망하자, 추모를 위해 사고 현장에 모인 사람들이 헌화와 함께 음주 운전 처벌 강화를 요구하는 메모를 남겼다.
- (다) 오랜 전통에 따라 여성 운전 금지법이 시행되고 있던 △△국에서 시민운동가 출신의 대통령 후보가 여성 권리 신장을 위해 이 법을 폐지하겠다는 선거 공약을 내세웠다.
- (라) ○○ 노동조합은 정부의 연금 개시 연령 상향 정책에 대해 퇴직 후 연금 수령 시작 시기가 늦어져 경제적 어려움을 겪을 수 있다며 반대하는 서명을 받고 있다.

- ㄱ. (가)는 뚜렷한 목표와 방법을 제시하고 지속적으로 활동을 수행하였다는 점에서 사회 운동이라 볼 수 있다.
- ㄴ. (나)는 조직적이지 않은 군중이 일시적으로 모인 것이라는 점에서 사회 운동이라 볼 수 없다.
- ㄷ. (다)는 기존 사회의 부조리를 해소하고 개혁을 추구하였다는 점에서 사회 운동이라 볼 수 있다.
- ㄹ. (라)는 특정 집단의 이익만을 추구한다는 점에서 사회 운동이라 볼 수 없다.

- ① ㄱ, ㄴ ② ㄱ, ㄷ ③ ㄴ, ㄷ ④ ㄴ, ㄹ ⑤ ㄷ, ㄹ

092

241118 | 94%

밑줄 친 ㉠, ㉡에 대한 설명으로 가장 적절한 것은? [3점]

- A국에서는 이전 세대의 경제 성장 과정에서 배출된 온실 가스로 인해 기후 위기의 피해가 심각하다. 이에 기후 위기 해결을 위해 청년 중심의 시민 단체가 환경 정책 마련을 요구하고 온라인 캠페인 활동을 하는 등 ㉠사회 운동을 전개하고 있다.
- B국의 한 노숙인은 행색이 초라하다는 이유로 건강권 관련 정책 토론회 출입을 제지당했다. 이 사건으로 노숙인 인권 보장을 요구하는 인권 단체의 시위가 벌어졌다. 이후 노숙인의 생계 지원법 마련을 요구하는 ㉡사회 운동이 지속적으로 확산되었다.

- ① ㉠은 세대 간 통합을 추구하는 체계적인 사회 운동이다.
- ② ㉡은 사회 체제 내에서 특정 사회 문제의 개선을 요구하는 사회 운동이다.
- ③ ㉠은 ㉡과 달리 사회적 약자의 권리 보장을 목적으로 하는 사회 운동이다.
- ④ ㉡은 ㉠과 달리 비대면 방식을 활용하는 사회 운동이다.
- ⑤ ㉠과 ㉡은 모두 변화를 거부하고 과거 질서로 되돌아가려는 사회 운동이다.

093

250913 | 89%

밑줄 친 ㉠~㉣에 대한 옳은 설명만을 <보기>에서 고른 것은? [3점]

1960년대 미국 사회에서 베트남 전쟁 반대에 가장 적극적인 목소리를 낸 단체는 ○○연합이었다. 그들의 운동을 이끈 감정은 주류 사회에 대한 반감과 도덕적 분노였다. 전쟁을 반대하는 ㉠평화 운동 집회에서는 형제애와 연대의 언어가 넘쳐흘렀다. 하지만 동료 여성들을 대하는 남성들의 차별적 태도는 미국 사회의 전반적인 분위기와 다르지 않았다. 회의에서 이들은 여성의 발언권을 제약했고 여성이 논의를 주도하려 할 때면 종종 야유를 퍼부었다. 남성들은 주류 사회에 반기를 들었지만, ㉡남성 우위 문화에는 놀라울 만큼 순응했다. 여성들 역시 초기에는 이러한 차별을 그다지 의식하지 않았지만 시간이 흐르자 소수 여성을 중심으로 차별에 대한 문제 제기가 이루어졌다. 이 목소리는 결국 거대한 물결로 이어져, ㉢반전 운동을 넘어 미국 사회에 심오한 영향을 미친 ㉣여성 운동으로 발전했다.

- ㄱ. ㉠은 반문화가 아닌 하위문화이다.
- ㄴ. ㉡은 다수의 사회 구성원이 전반적으로 공유하는 문화이다.
- ㄷ. ㉢은 현재의 사회 질서를 유지하고자 하는 사회 운동이다.
- ㄹ. ㉣은 불평등한 사회 구조를 개혁하기 위한 사회 운동이다.

- ① ㄱ, ㄴ ② ㄱ, ㄷ ③ ㄴ, ㄷ ④ ㄴ, ㄹ ⑤ ㄷ, ㄹ

094

251108 | 94%

밑줄 친 ㉠~㉣에 대한 설명으로 옳은 것은? [3점]

1970년대에 □□국제 시민 단체는 분유를 만드는 ○○다국적 기업에 대한 ㉠불매 운동을 전개하였다. ㉡저개발국에 분유를 무료로 나누어 주는 ○○다국적 기업의 공격적 마케팅으로 저개발국의 영아 사망률이 급격히 증가하였기 때문이다. 위생적인 환경이 갖추어지지 않은 저개발국에서 세균에 오염된 물과 질병으로 인해 설사와 열병이 발생해 많은 아기가 사망하였다. ○○다국적 기업에 선의의 의도가 있었을지라도, 무분별한 시장 확대가 ㉢저개발국의 영아 건강을 심각하게 위협하는 결과를 초래한 것이다. 이로 인해 ○○다국적 기업이 영아 사망에 대해 책임을 져야 한다며 □□국제 시민 단체가 전 세계의 소비자들과 ㉣집단행동을 시작했다. 이를 계기로 여러 국제 시민 단체는 다국적 기업의 윤리적 책임을 요구하고, 나아가 환경 문제, 자원 문제와 같은 ㉤전 지구적 수준의 문제를 해결하기 위한 활동을 지속적으로 전개하고 있다.

- ① ㉠은 급격한 사회 변동에 저항하기 위해 펼치는 사회 운동이다.
- ② ㉡은 식량 자원 확보를 위한 국가 간 경쟁이 초래한 문제이다.
- ③ ㉢은 ○○ 다국적 기업의 이윤 추구를 정당화하는 근거가 된다.
- ④ ㉣은 사회 체제의 전면적인 변혁을 추구하는 사회 운동이다.
- ⑤ ㉤은 세계 시민 의식을 바탕으로 하는 조직적인 사회 운동이다.

SECTION 20


★★★★☆ 66%

산업 사회 vs 정보 사회

095

240618 | 84%

그림은 A, B의 일반적인 특징을 비교한 것이다. 이에 대한 설명으로 옳은 것은? (단, A, B는 각각 산업 사회, 정보 사회 중 하나임.)



- ① A는 B에 비해 전자 상거래의 비중이 작다.
- ② B는 A에 비해 의사 결정의 분권화 정도가 낮다.
- ③ A는 다품종 소량 생산, B는 소품종 대량 생산이 지배적이다.
- ④ A는 지식과 정보, B는 자본과 노동이 부가 가치의 주요 원천이다.
- ⑤ (가)에는 '정보의 생산자와 소비자 간 구분의 명확성 정도'가 들어갈 수 없다.

096

241119 | 49%

다음 자료에 대한 옳은 설명만을 <보기>에서 있는 대로 고른 것은? (단, A, B는 각각 산업 사회, 정보 사회 중 하나임.)

<형성 평가>

◦ 제시된 '대답'에 맞게 빈칸을 채워 질문을 완성하십시오.

대답	대답에 맞는 질문	채점 결과
예	A는 B에 비해 (가) 이가 높은가?	①
아니요	B는 A에 비해 정보 제공자와 수용자 간 구분 이가 명확한가?	1점

* 교사는 완성한 질문별로 채점하고 제시된 대답에 맞게 질문을 완성한 경우는 1점, 틀린 경우는 0점임.

- ㄱ. A는 B에 비해 물리적 거리가 사회적 관계 형성에 미치는 제약 정도가 크다.
- ㄴ. (가)에 '사회의 다원화 정도'가 들어간다면, ①은 '1점'이다.
- ㄷ. ①이 '0점'이라면, (가)에는 '가정과 일터의 결합 정도'가 들어갈 수 없다.

- ① ㄱ ② ㄷ ③ ㄱ, ㄷ ④ ㄴ, ㄷ ⑤ ㄱ, ㄴ, ㄷ

SECTION 21

★★★★☆ 87%

세계화와 정보화

097

240916 | 85%

다음 글에서 도출할 수 있는 정보 사회의 문제점으로 가장 적절한 것은? [3점]

인터넷에 대한 의존도가 높아지면서 일상의 변화가 일어나고 있다. 온라인을 통해 금융 업무나 음식 주문과 같은 일을 비대면으로 간편하게 처리하는 사람이 늘고 있는 반면, 온라인을 활용한 삶의 편의성으로부터 소외된 사람도 있다. 정보 사회에서 사회 구성원은 정보 통신 기기의 구매 능력 정도, 유용하고 신뢰할 수 있는 고급 정보에 대한 비용 지불 능력 정도, 소프트웨어 기술 습득 능력 정도, 정보 서비스의 활용 능력 정도 등에 따라 디지털 환경에 빠르게 적응하는 사람과 뒤처지는 사람으로 구분된다. 정보가 부가 가치 창출의 원천인 정보 사회에서 이러한 현상은 심각한 사회 문제로 대두되고 있다.

- ① 정보 생산자의 신뢰성 문제가 나타나고 있다.
- ② 정보화 과정에서 문화 지체 현상이 나타나고 있다.
- ③ 비대면 관계의 증가로 인한 인간 소외 현상이 나타나고 있다.
- ④ 정보 격차로 인한 새로운 사회 불평등 현상이 나타나고 있다.
- ⑤ 정보 통신 기기의 과다 사용으로 인한 병리 현상이 나타나고 있다.

098

250613 | 84%

(가), (나)에 들어갈 수 있는 내용으로 가장 적절한 것은? [3점]

갑 : 정보화 시대에는 사회 불평등이 줄어들 것입니다. 오늘날 더 많은 사람들이 컴퓨터와 네트워크를 통해 지식과 정보에 손쉽게 접근하고 있습니다. 이처럼 정보에 대한 보편적 접근권이 확대되면 교육이나 문화에서의 격차는 더욱 줄어들게 될 것입니다. 즉, 정보 기술은 (가)

을 : 지식과 정보가 중시되는 사회에서 사회 불평등은 심화될 것입니다. 정보 부국과 정보 빈국이라는 말이 존재하듯이 오늘날 국제적 상황에서 정보 격차는 더욱 심해졌습니다. 이는 국내적 상황에서도 다르지 않습니다. 즉, 보편적 접근권이 강조되고 있음에도 정보 기술은 (나) 왜냐하면 한 국가 내에서 정보를 실질적으로 활용하여 부를 재생산할 수 있는 능력은 서열화된 사회 구조적 위치에 따라 다르게 분포되어 있기 때문입니다.

- ① (가) : 저작권 침해 문제를 야기할 수 있습니다.
- ② (가) : 검증되지 않은 정보를 확산시킬 수 있습니다.
- ③ (나) : 상대적 빈곤을 줄이는 데 도움을 줄 수 있습니다.
- ④ (나) : 정보 부국 중심의 국제 질서를 강화할 수 있습니다.
- ⑤ (나) : 계층에 따른 기존의 소득 격차를 늘릴 수 있습니다.

099

250908 | 93%

다음 글에서 필자가 강조하는 세계화의 문제점으로 가장 적절한 것은?

아프리카에 바이러스 감염이 빈발하게 된 것은 병원체나 숙주의 문제가 아니었다. 다국적 기업들의 플랜테이션 농장 건설이 더욱 확대되어 완충지 역할을 하던 산림이 파괴되면서 야생 동물의 바이러스가 공장 인간을 숙주로 삼게 되었다는 것이 핵심이다. 하지만 더 심각한 것은 바이러스 감염이 국지적 현상에 그치지 않고 전 지구적 비상사태를 초래했다는 점이다. 바이러스를 더 멀리 신속하게 실어 나르는 데 결정적인 기여를 한 것은 늘어난 대륙 간 항공망과 이로 인한 국가 간 교류의 증대였다. 바이러스의 이슬비는 그런 식으로 떨어져 내린다.

- ① 국제 분업으로 국가 간 빈부 격차가 심화된다.
- ② 무분별한 개발로 인해 생물종의 다양성이 감소한다.
- ③ 국가 간 교류 증대로 개별 국가의 자율성이 약화된다.
- ④ 자원 확보를 위한 경쟁으로 인해 국가 간 갈등이 심화된다.
- ⑤ 자본의 이윤 추구로 인한 지역 문제가 전 세계로 확산된다.

PART II

[SECTION 22~24]

SECTION 22

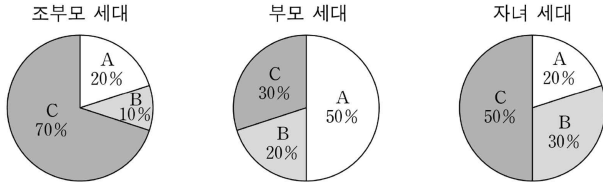
★★★★☆ 73%

자료 분석: 계층 이동

100

240611 | 87%

그림은 갑국의 세대별 계층 구성 비율을 나타낸 것이다. 이에 대한 옳은 분석만을 <보기>에서 고른 것은?



- ㄱ. 조부모 세대에서 하층 인구는 상층 인구의 2배이다.
- ㄴ. 상층 인구는 조부모, 부모, 자녀 세대로 갈수록 증가한다.
- ㄷ. 부모 세대의 계층 구조는 조부모 세대의 계층 구조에 비해 사회 통합에 불리하다.
- ㄹ. 부모 세대의 계층 구조는 다이아몬드형, 자녀 세대의 계층 구조는 모래시계형이다.

- ① ㄱ, ㄴ ② ㄱ, ㄷ ③ ㄴ, ㄷ ④ ㄴ, ㄹ ⑤ ㄷ, ㄹ

101

240911 | 73%

다음 자료에 대한 옳은 분석만을 <보기>에서 고른 것은? [3점]

표는 갑국~병국의 계층 구성 비율을 나타낸 것이다. 모래시계형 계층 구조에서는 A의 비율이 가장 낮다. 단, 갑국~병국의 계층 구조는 각각 피라미드형, 다이아몬드형, 모래시계형 중 하나이다.

(단위: %)

구분	갑국	을국	병국
A	30	20	50
B	20	30	20
C	50	50	30

* 계층은 A, B, C로만 구분되며, A~C는 각각 상층, 중층, 하층 중 하나임.

- ㄱ. 갑국은 병국과 달리 폐쇄적 계층 구조가 나타난다.
- ㄴ. 병국의 계층 구조는 을국의 계층 구조에 비해 사회 안정성이 높다.
- ㄷ. 갑국과 병국은 모두 해당 국가에서 상층 인구가 가장 적다.
- ㄹ. 을국의 계층 구조는 갑국, 병국의 계층 구조와 달리 주로 근대 이후의 산업 사회에서 나타난다.

- ① ㄱ, ㄴ ② ㄱ, ㄷ ③ ㄴ, ㄷ ④ ㄴ, ㄹ ⑤ ㄷ, ㄹ

102

241110 | 61%

다음 자료에 대한 분석으로 옳은 것은? [3점]

표는 갑국과 을국의 세대 간 계층 이동 현황을 나타낸 것이다. C에서 A로의 이동은 하강 이동이고, C에서 B로의 이동은 상승 이동이다. 단, 계층은 A, B, C로만 구분되고, A~C는 각각 상층, 중층, 하층 중 하나이다.

〈갑국〉			〈을국〉				
구분	부모 세대			구분	부모 세대		
	A	B	C		A	B	C
자녀 세대	A	●●	●	●●●	●	●●●●	
	B	●●●	●●	●	●●	●●●	
	C	●●●	●	●●		●	

* ●는 해당 계층 사람의 수를 나타낸 것이며, 각 ●가 나타내는 사람의 수는 동일함.

- ① 갑국은 자녀 세대에서 완전 평등한 계층 구조를 이루었다.
- ② 을국의 자녀 세대에서 중층인 사람의 수는 갑국의 부모 세대에서 상층인 사람의 수보다 많다.
- ③ 갑국은 을국과 달리 부모 세대 중층에서 세대 간 하강 이동이 발생하지 않았다.
- ④ 갑국은 개방적 계층 구조, 을국은 폐쇄적 계층 구조이다.
- ⑤ 갑국의 부모 세대 계층 구조는 피라미드형, 을국의 자녀 세대 계층 구조는 모래시계형이다.

103

250610 | 79%

다음 자료에 대한 분석으로 옳은 것은? [3점]

그림은 갑국~병국의 계층 구성 비율을 나타낸 것이다. 계층은 A, B, C로 구분되며, A~C는 각각 상층, 중층, 하층 중 하나이다. 한 국가 내에서 C에서 A로의 이동은 상승 이동, C에서 B로의 이동은 하강 이동에 해당한다. 갑국~병국의 인구는 동일하다.

계층	갑국	을국	병국
A (상층)	10	20	10
B (중층)	60	70	30
C (하층)	30	10	60

- ① 을국의 계층 구조는 피라미드형이다.
- ② 갑국의 상층 인구는 을국의 상층 인구보다 많다.
- ③ 중층 인구 대비 하층 인구의 비율은 갑국이 병국보다 낮다.
- ④ 갑국~병국 중 병국의 계층 구조가 사회 안정성이 가장 높다.
- ⑤ 갑국의 계층 구조는 세대 내 이동이, 을국과 병국의 계층 구조는 세대 간 이동이 활발하게 일어난다.

104

250910 | 77%

다음 자료에 대한 분석으로 옳은 것은? [3점]

자료는 연령이 50세인 갑~병의 사회 이동과 그들이 속한 국가의 현재 계층 비율을 조사한 결과이다. 단, A~C는 각각 상승, 중층, 하층 중 하나이며, 다른 계층은 존재하지 않는다. 세대 간 이동은 (가)와 (다), 세대 내 이동은 (나)와 (다)를 통해 판단한다.

<갑~병의 사회 이동 양상>

구분	갑	을	병
(가) 부모의 계층	상층	중층	하층
(나) 20년 전 본인 계층	A	B	C
(다) 현재 본인 계층	B	C	A

<갑~병이 속한 국가의 현재 계층 비율>

* 갑이 속한 국가는 피라미드형 계층 구조임.

- ① 갑과 달리 을은 세대 간 하강 이동을 하였다.
- ② 을과 병에게는 모두 계층 대물림이 이루어졌다.
- ③ 갑과 을은 모두 세대 간 이동과 세대 내 이동을 하였다.
- ④ 을이 속한 국가는 갑이 속한 국가에 비해 계층 양극화로 인한 문제가 발생할 가능성이 높다.
- ⑤ 병이 속한 국가는 을이 속한 국가에 비해 사회 통합에 유리한 계층 구조가 나타난다.

105

251110 | 64%

다음 자료에 대한 분석으로 옳은 것은?

다음은 □□국 시기별 계층 구성 비율과 연령이 50대인 갑~무의 사회 이동 결과를 세대 간 이동과 세대 내 이동으로 구분하여 나타낸 것이다. 단, 세대 간 이동은 부모 계층과 본인의 현재 계층 비교로, 세대 내 이동은 본인의 24년 전 계층과 현재 계층 비교로 판단한다. A~C는 각각 상승, 중층, 하층 중 하나이다.

<자료 1> 시기별 계층 구성 비율(%)

연도	A	B	C
1970년	30	10	60
2000년	55	20	25
2024년	50	20	30

□ A □ B ■ C

<자료 2> 갑~무의 사회 이동 결과

구분	부모 계층 (1970년)			구분	본인의 24년 전 계층 (2000년)		
	A	B	C		A	B	C
본인의 현재 계층 (2024년)	A	정	무	본인의 현재 계층 (2024년)	A	정	무
	B	을	무		B	을	무
	C	병	갑		C	갑	병

* 갑의 부모 계층(1970년)은 상층이며, 갑의 세대 간 이동과 세대 내 이동은 모두 하강 이동임.

- ① 1970년 계층 구조는 2000년 계층 구조보다 사회 안정성이 높다.
- ② 2000년은 다이아몬드형, 2024년은 모래시계형 계층 구조이다.
- ③ 을은 세대 간 상승 이동과 세대 내 하강 이동을 하였다.
- ④ 정은 세대 간 이동과 세대 내 이동 모두 상승 이동을 하였다.
- ⑤ 병은 세대 간 하강 이동을 하였고, 무는 세대 내 상승 이동을 하였다.

SECTION 23

★★★★★ 44%

자료 분석: 사회 보장 제도

106

240615 | 51%

다음 자료에 대한 옳은 설명만을 <보기>에서 고른 것은? [3점]

갑국은 정부 예산만을 재원으로 경제적 형편이 어려운 노인에게 급여를 지급하는 우리나라의 연금 제도와 같은 ㉠○○연금 제도를 도입하고자 한다. 연금 지급액을 놓고 A안과 B안을 검토 중인데, 다음은 ○○연금 제도 시행 전의 상대적 빈곤율과 A안 또는 B안을 시행할 경우 예상되는 상대적 빈곤율을 제시한 표의 일부이다. 제도 시행 전후의 상대적 빈곤율은 현재 시점의 노인 가구를 기준으로 계산한 것이다.

가구 형태	가구 수 (만 가구)	상대적 빈곤율(%)		
		제도 시행 전	제도 시행 후	
			A 안	B 안
1인 가구	100	50	25	20
부부 가구	200	40	20	15
기타 가구				

* 갑국의 노인 가구는 1인 가구(65세 이상 노인 1명), 부부 가구(65세 이상 노인 2명) 및 기타 가구로 구분됨.
** 상대적 빈곤율은 가구 소득이 정부가 가구 형태별로 결정한 일정 금액 미만인 가구의 비율임.

- ㄱ. ㉠은 상호 부조의 원리를 바탕으로 한다.
- ㄴ. ㉠은 사전 예방적 성격보다 사후 처방적 성격이 강하다.
- ㄷ. A안 시행 전후의 상대적 빈곤 가구 수 차이는 1인 가구가 부부 가구보다 작다.
- ㄹ. 상대적 빈곤에 해당하는 부부 가구 인구는 A안을 시행할 경우가 B안을 시행할 경우보다 10만 명 많다.

① ㄱ, ㄴ ② ㄱ, ㄷ ③ ㄴ, ㄷ ④ ㄴ, ㄹ ⑤ ㄷ, ㄹ

107

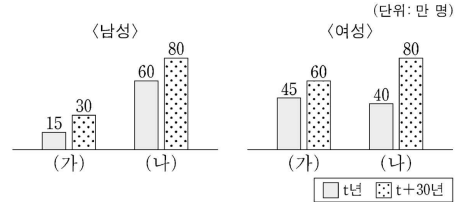
240915 | 44%

다음 자료에 대한 옳은 분석만을 <보기>에서 고른 것은?

<자료 1> 갑국의 사회 보장 제도

- (가) 65세 이상 노인 중 소득 인정액이 일정 수준 이하인 사람에게 생활 안정에 필요한 연금을 지급하는 제도
- (나) 노령, 사망, 장애 등으로 인한 소득 상실을 보전하고 기본적인 생활을 지원하기 위해 가입자와 고용주 등이 부담해서 마련한 기금을 통해 연금 급여를 지급하는 제도

<자료 2> 갑국의 성별·시기별 (가), (나) 제도의 수급자 수



* 갑국의 사회 보장 제도는 우리나라의 사회 보장 제도와 동일함.
** t년과 t+30년 모두 갑국의 남녀 인구는 각각 1,000만 명임.

- ㄱ. t년에 수급자에 대한 부정적 낙인이 발생할 수 있는 제도의 남성 수급자 수는 여성 수급자 수의 3배이다.
- ㄴ. t년에 비해 t+30년에 수혜자 비용 부담 원칙이 적용되는 제도의 수급자 수는 60만 명 증가하였다.
- ㄷ. t년에 상호 부조의 원리가 적용되는 제도의 수급자 중 남성 수급자 비율은 t+30년에 강제 가입의 원칙이 적용되는 제도의 수급자 중 여성 수급자 비율보다 높다.
- ㄹ. t년에 갑국 인구 중 사전 예방적 성격이 강한 제도의 수급자 비율은 t+30년에 갑국 인구 중 사후 처방적 성격이 강한 제도의 수급자 비율보다 낮다.

① ㄱ, ㄴ ② ㄱ, ㄷ ③ ㄴ, ㄷ ④ ㄴ, ㄹ ⑤ ㄷ, ㄹ

108

241115 | 42%

다음 자료에 대한 분석으로 옳은 것은? [3점]

갑국의 사회 보장 제도는 우리나라의 사회 보장 제도와 동일하다. A는 상호 부조의 원리가 적용되는 제도이고, B는 정부 재정으로 비용을 전액 총당하는 것을 원칙으로 하는 제도이다. 표는 갑국의 전체 인구 중 A, B 수급자 비율과 시기에 따른 비율 차이를 나타낸 것이다. t년 대비 t+30년에 갑국의 전체 인구는 50% 증가하였다.

<표 1> t년의 수급자 비율

(단위: %)

A 수급자	B 수급자	A와 B의 중복 수급자
40	15	8

<표 2> t년 대비 t+30년의 수급자 비율 차이*

A에만 해당하는 수급자	B에만 해당하는 수급자	A와 B의 중복 수급자
2	-3	8

* 수급자 비율 차이 = t+30년의 수급자 비율 - t년의 수급자 비율

- ① t년에 전체 인구 중 부정적 낙인이 발생할 수 있는 제도에만 해당하는 수급자 비율은 A와 B의 중복 수급자 비율보다 크다.
- ② t+30년에 수혜자 비용 부담 원칙이 적용되는 제도의 수급자 수는 t년에 A나 B 어느 것도 받지 않는 비(非)수급자 수보다 많다.
- ③ t+30년에 강제 가입의 원칙이 적용되는 제도에만 해당하는 수급자 수는 A와 B의 중복 수급자 수보다 적다.
- ④ t년에 사전 예방적 성격이 강한 제도의 수급자 수는 t+30년에 사후 처방적 성격이 강한 제도의 수급자 수의 2배이다.
- ⑤ t년 대비 t+30년에 A 수급자 수의 증가율은 B 수급자 수의 증가율보다 크다.

109

250615 | 59%

다음 자료에 대한 분석으로 옳은 것은?

<자료 1> 갑국의 사회 보장 제도

- (가) 국민에게 발생하는 사회적 위험을 보험의 방식으로 대처함으로써 국민의 안전한 생활에 필요한 건강과 소득을 보장하는 제도
- (나) 생활 유지 능력이 없거나 생활이 어려운 국민의 최저 생활을 보장하고 자립을 지원하는 제도
- (다) 상담, 재활, 돌봄, 정보의 제공, 관련 시설의 이용, 역량 개발, 사회 참여 지원 등을 통하여 국민의 삶의 질이 향상 되도록 지원하는 제도

<자료 2> 갑국의 (가)~(다) 제도의 지역별 수혜자 비율

(단위: %)

제도 \ 지역	A	B	전체
(가)	㉠	8	10
(나)	3	6	4
(다)	10	7	㉡

* 갑국은 A, B 지역으로만 이루어져 있고, 갑국의 사회 보장 제도는 우리나라의 사회 보장 제도와 동일함.

** 해당 지역 수혜자 비율(%) = (해당 지역 수혜자 수/해당 지역 인구) × 100

- ① ㉠은 11, ㉡은 8이다.
- ② (가)와 (나) 중 선별적 복지의 성격이 강한 제도의 수혜자 수는 A 지역이 B 지역보다 적다.
- ③ 갑국에서 우리나라의 사회 서비스에 해당하는 제도의 수혜자 수는 A 지역이 B 지역의 3배이다.
- ④ 금전적 지원을 원칙으로 하며 사전 예방적 성격이 강한 제도의 수혜자 수는 A 지역이 B 지역의 2배보다 많다.
- ⑤ 갑국 전체에서 상호 부조의 원리가 적용되는 제도의 수혜자 수는 소득 재분배 효과가 가장 큰 제도의 수혜자 수의 2배보다 적다.

110

250915 | 37%

다음 자료에 대한 분석으로 옳은 것은?

갑국의 사회 보장 제도 A와 B는 우리나라의 사회 보장 제도와 동일하다. A는 사전 예방적 성격이 강한 제도이고, B는 사후 처방적 성격이 강한 제도이다. 중복 수급자 비율은 t+30년이 t년에 비해 50% 감소하였고, 중복 수급자 수는 t년과 t+30년이 동일하다.

<갑국의 A, B 수급자와 비(非)수급자의 비율> (단위: %)

구분	t년	t+30년
A 수급자	70	77
B 수급자	26	㉠
비(非)수급자	14	15

*비(非)수급자: A나 B 어느 것도 받지 않는 사람
 **중복 수급자: A 수급자이면서 동시에 B 수급자인 사람

- ① ㉠은 t년의 중복 수급자 비율보다 작고 t+30년의 중복 수급자 비율보다 크다.
- ② 선별적 복지의 성격이 강한 제도에만 해당하는 수급자 비율은 t+30년이 t년에 비해 8% 감소하였다.
- ③ 소득 재분배 효과가 있는 제도의 수급자 수는 t년과 t+30년이 동일하다.
- ④ 정부 재정으로 비용을 전액 충당하는 것을 원칙으로 하는 제도에만 해당하는 수급자 수는 t+30년이 t년의 2배이다.
- ⑤ t년에 상호 부조의 원리가 적용되는 제도에만 해당하는 수급자 수는 t+30년 비(非)수급자 수의 2배이다.

111

251115 | 33%

다음 자료에 대한 분석으로 옳은 것은? (단, A, B는 각각 공공 부조와 사회 보험 중 하나임.)

갑국에는 사회 보장 제도 A, B만 존재하며, A, B는 우리나라의 사회 보장 제도와 동일하다. A는 사전 예방적 성격이 강한 제도이고, B는 사후 처방적 성격이 강한 제도이다.

표는 갑국의 (가)~(다) 지역별 전체 인구 중 A, B 수급자 비율 및 비(非)수급자 비율을 나타낸 것이다. 비(非)수급자는 A나 B 중 어느 것도 받지 않는 사람으로서, A나 B의 복지 혜택이 필요하지만 수급 자격 조건에 미달하여 받지 못하는 사람(탈락자)과 비(非)수급자에서 탈락자를 제외한 사람(비(非)탈락자)으로 구성된다. 단, (가)~(다)지역의 중복 수급자 수는 동일하다.

(단위: %)

구분	A 수급자	B 수급자	중복 수급자	비(非)수급자	
				탈락자	비(非)탈락자
(가) 지역	73	20	㉠	12	10
(나) 지역	72	28	15	5	㉡
(다) 지역	50	㉢	10	8	32

*중복 수급자: A 수급자이면서 동시에 B 수급자인 사람

- ① ㉠은 (나) 지역의 선별적 복지의 성격이 강한 제도에만 해당하는 수급자 비율보다 작다.
- ② ㉡은 (가) 지역의 부정적 낙인이 발생할 수 있는 제도에만 해당하는 수급자 비율과 같다.
- ③ ㉢은 (다) 지역의 상호 부조의 원리가 적용되는 제도에만 해당하는 수급자 비율의 2배이다.
- ④ (가) 지역의 탈락자 수보다 (나) 지역의 비(非)탈락자 수가 많다.
- ⑤ 금전적 지원을 원칙으로 하는 제도의 수급자 수는 (나) 지역이 가장 많다.

SECTION 24

★★★★★ 48%

자료 분석: 인구 부양비

112

240620 | 43%

다음 자료에 대한 분석으로 옳은 것은?

갑국의 t+50년의 총인구는 t년의 2배이고, t+100년의 총인구는 t년의 1.5배이다. 갑국 총인구 중 부양 인구 비율은 t년과 t+50년이 각각 40%, t+100년이 30%이다. t+50년의 노년 부양비는 75로 t년의 3배이고, t+100년의 노령화 지수는 250이다.

* 노령화 지수 = $\frac{\text{노년 인구(65세 이상 인구)}}{\text{유소년 인구(0~14세 인구)}} \times 100$

** 유소년 부양비 = $\frac{\text{유소년 인구(0~14세 인구)}}{\text{부양 인구(15~64세 인구)}} \times 100$

*** 노년 부양비 = $\frac{\text{노년 인구(65세 이상 인구)}}{\text{부양 인구(15~64세 인구)}} \times 100$

**** 총부양비 = 유소년 부양비 + 노년 부양비

- ① t+50년의 총부양비는 t년보다 크다.
- ② t+50년의 노령화 지수는 t년의 5배이다.
- ③ t+50년의 부양 인구는 t년에 비해 200% 증가하였다.
- ④ t+100년의 유소년 인구는 t년보다 많고 t+50년보다 적다.
- ⑤ t년, t+50년, t+100년 중 유소년 부양비는 t+50년이 가장 크고, t+100년이 가장 작다.

113

240920 | 43%

다음 자료에 대한 분석으로 옳은 것은? [3점]

표는 갑국과 을국의 인구 구성 변화를 나타낸 것이다. A~C는 각각 전체 인구에서 유소년 인구, 부양 인구, 노년 인구가 차지하는 비율 중 하나이다. 갑국에서 t년의 유소년 부양비는 50이다. t년 대비 t+50년에 갑국의 유소년 인구는 10% 감소하였고, 을국의 유소년 인구는 20% 감소하였다. 단, t년에 갑국과 을국의 전체 인구는 동일하다.

구분	갑국		을국	
	t년	t+50년	t년	t+50년
$\frac{B+C}{A}$	$\frac{2}{3}$	1	$\frac{7}{13}$	1
$\frac{B}{C}$	$\frac{1}{3}$	$\frac{2}{3}$	$\frac{1}{6}$	$\frac{2}{3}$

* 유소년 부양비 = $\frac{\text{유소년 인구(0~14세 인구)}}{\text{부양 인구(15~64세 인구)}} \times 100$

** 노년 부양비 = $\frac{\text{노년 인구(65세 이상 인구)}}{\text{부양 인구(15~64세 인구)}} \times 100$

*** 전체 인구 중 65세 이상 인구가 차지하는 비율이 20% 이상인 사회를 초고령 사회라고 함.

- ① t년에 노년 부양비는 갑국이 을국의 2배이다.
- ② t+50년에 유소년 인구는 갑국과 을국이 동일하다.
- ③ t+50년에 을국은 갑국과 달리 초고령 사회이다.
- ④ t년에서 t+50년 사이에 을국에서는 갑국과 달리 저출산·고령화 현상이 나타났다.
- ⑤ t년에 부양 인구는 을국이 갑국보다 많고, t+50년에 부양 인구는 갑국이 을국보다 많다.

114

241120 | 49%

다음 자료에 대한 분석으로 옳은 것은? [3점]

표는 갑국과 을국의 인구 구조 변화를 비교한 것이다. t년 대비 t+50년에 갑국의 전체 인구는 10% 감소하였고, 을국의 전체 인구는 20% 감소하였다. 단, t년에 갑국과 을국의 전체 인구는 동일하다.

구분	갑국		을국	
	t년	t+50년	t년	t+50년
합계 출산율(명)	4.2	1.8	1.5	0.9
전체 인구 대비 15~64세 인구 비율(%)	50	60	50	55
노령화 지수	25	100	150	200

* 합계 출산율: 여성 1명이 가임 기간(15~49세) 동안 낳을 것으로 예상되는 평균 출생아 수
 ** 노령화 지수 = $\frac{\text{노년 인구(65세 이상 인구)}}{\text{유소년 인구(0~14세 인구)}} \times 100$
 *** 전체 인구 중 65세 이상 인구가 차지하는 비율이 20% 이상인 사회를 초고령 사회라고 함.

- ① t년과 t+50년 모두 갑국은 을국에 비해 저출산 현상이 강하게 나타난다.
- ② t년과 t+50년에 갑국과 을국은 모두 초고령 사회이다.
- ③ t년 대비 t+50년의 노령화 지수 증가율은 을국이 갑국보다 크다.
- ④ t년에 을국의 유소년 인구는 t+50년에 갑국의 유소년 인구보다 많다.
- ⑤ t년에 노년 인구는 을국이 갑국의 3배이고, t+50년에 노년 인구는 을국이 갑국의 1.5배이다.

115

250620 | 55%

다음 자료에 대한 옳은 분석만을 <보기>에서 고른 것은? [3점]

t년 갑국과 을국의 전체 인구는 같다. 갑국에서 t+50년의 인구는 t년의 2배이고, 을국에서 t+50년의 인구는 t년의 3배이다. 단, 복지 지출의 필요성은 복지 정책의 적용 대상이 되는 인구에 비례한다.

구분	갑국		을국	
	t년	t+50년	t년	t+50년
전체 인구 대비 노년 인구 비율(%)	10	35	10	㉠
노령화 지수	20	140	㉡	100
총부양비	㉢	㉣	100	100

* 노령화 지수 = $\frac{\text{노년 인구(65세 이상 인구)}}{\text{유소년 인구(0~14세 인구)}} \times 100$
 ** 유소년 부양비 = $\frac{\text{유소년 인구(0~14세 인구)}}{\text{부양 인구(15~64세 인구)}} \times 100$
 *** 노년 부양비 = $\frac{\text{노년 인구(65세 이상 인구)}}{\text{부양 인구(15~64세 인구)}} \times 100$
 **** 총부양비 = 유소년 부양비 + 노년 부양비

- 가. ㉠과 ㉡은 같고, ㉣은 ㉢보다 크다.
 나. 을국의 t+50년 부양 인구는 갑국의 t년 유소년 인구의 3배이다.
 다. t년 노년 부양비의 경우 갑국이 을국보다 크고, t+50년 유소년 부양비의 경우 을국이 갑국보다 크다.
 리. 갑국과 을국 모두 t년 대비 t+50년에 노년 인구를 대상으로 한 복지 지출의 필요성이 커졌다.

- ① 가, 나 ② 가, 다 ③ 나, 다 ④ 나, 리 ⑤ 다, 리

116

250920 | 55%

다음 자료에 대한 분석으로 옳은 것은? [3점]

<조건>

1. 갑국 t년의 유소년 인구(0~14세 인구)는 부양 인구(15~64세 인구)의 50%이고 노년 인구(65세 이상 인구)의 3배이다.
2. A시기는 t년 대비 t+30년으로, B시기는 t+30년 대비 t+50년으로 인구 변화 양상을 예측하여 나타낸다.
3. A시기와 B시기 동안 전체 인구의 변화는 없다.
4. 세대 간 갈등의 정도는 노년 부양비에 비례하고, 경제 성장 동력은 부양 인구에 비례한다.

<A 시기와 B 시기의 인구 변화 양상 예측>

구분	A 시기	B 시기
전체 인구 중 유소년 인구 비율	감소	감소
전체 인구 중 부양 인구 비율	변화 없음	감소
유소년 부양비	감소	증가

* 유소년(노년) 부양비 = $\frac{\text{유소년(노년) 인구}}{\text{부양 인구}} \times 100$

** 총부양비 = 유소년 부양비 + 노년 부양비

*** 피부양 인구 = 유소년 인구 + 노년 인구

- ① A 시기에는 피부양 인구의 증가로 경제 성장 동력이 저하될 것이다.
- ② B 시기에는 유소년 인구보다 부양 인구가 더 많이 감소할 것이다.
- ③ 세대 간 갈등은 B 시기보다 A 시기에 더 심각할 것이다.
- ④ t년의 총부양비는 100보다 작고, t+30년의 총부양비는 100이다.
- ⑤ t+50년의 노년 인구는 t년보다 많고 t+30년보다 적을 것이다.

117

251120 | 45%

다음 자료에 대한 분석으로 옳은 것은? [3점]

갑국 t년의 부양 인구(15~64세 인구)는 노년 인구의 7배이며, 노령화 지수는 50이다. 표는 기간별 인구 변화 양상을 나타낸 것으로 A 기간은 t년 대비 t+30년으로, B 기간은 t+30년 대비 t+50년으로 하여 분석하였다. 단, A 기간과 B 기간 동안 전체 인구의 변화는 없다.

구분	A 기간	B 기간
노령화 지수 증가율(%)	60	50
노년 인구 증가율(%)	100	50

* 노령화 지수 = $\frac{\text{노년 인구(65세 이상 인구)}}{\text{유소년 인구(0~14세 인구)}} \times 100$

<조건>

○ 노동력 부족 정도, 세대 간 갈등 정도, 양육에 대한 사회적 부담 정도는 아래의 조건으로만 각각 판단한다.

1. 노동력 부족 정도는 부양 인구의 부(-)의 관계에 있다.
2. 세대 간 갈등 정도는 노년 부양비와 정(+)의 관계에 있다.
3. 양육에 대한 사회적 부담 정도는 유소년 부양비와 정(+)의 관계에 있다.

* 노년(유소년) 부양비 = $\frac{\text{노년(유소년) 인구}}{\text{부양 인구}} \times 100$

- ① A 기간에 유소년 인구는 감소하고 노년 인구는 증가하였다.
- ② B 기간에 부양 인구는 증가하고 노년 인구는 모두 증가하였다.
- ③ A 기간과 B 기간에 증가한 노년 인구는 동일하다.
- ④ 양육에 대한 사회적 부담 정도는 t+50년보다 t+30년이 크다.
- ⑤ 노동력 부족 정도는 t+50년보다 t+30년이, 세대 간 갈등 정도는 t+30년보다 t+50년이 크다.

PART III

[SECTION 25]

SECTION 25

미분류 주제

118 성 불평등 | 240610 | 49%

다음 자료에 대한 분석으로 옳은 것은? [3점]

표는 갑국의 t년 연령대별 '상대적 평균 임금'을 혼인 상태별·성별로 구분하여 제시한 것이다. 연령대별 상대적 평균 임금은 20대 기혼(미혼) 남성(여성) 평균 임금을 100이라고 할 때 다른 연령대의 기혼(미혼) 남성(여성) 평균 임금의 크기를 나타낸다.

갑국에서 t년에 기혼 20대의 성별 임금 격차 지수는 20이고, 미혼 20대의 성별 임금 격차 지수는 10이다. 20대 기혼 여성의 평균 임금과 20대 미혼 남성의 평균 임금은 같다. 따라서 20대 기혼 남성의 평균 임금이 100달러라면 20대 미혼 여성의 평균 임금은 달러이다.

<연령대별 상대적 평균 임금>

구분	기혼		미혼	
	남성	여성	남성	여성
20대	100	100	100	100
30대	142	130	140	140
40대	165	120	145	155
50대	170	90	130	150
60대 이상	110	70	90	60

* 성별 임금 격차 지수 = $\frac{(\text{남성 평균 임금} - \text{여성 평균 임금})}{\text{남성 평균 임금}} \times 100$

- ① ㉠은 '100'이다.
- ② 40대에서 성별 임금 격차 지수는 기혼이 미혼보다 작다.
- ③ 50대 기혼 여성과 20대 미혼 여성의 평균 임금은 같다.
- ④ 기혼 남성 40대와 50대의 평균 임금 차이와 미혼 남성 30대와 40대의 평균 임금 차이는 같다.
- ⑤ 미혼의 경우, 모든 연령대에서 남성 평균 임금이 여성 평균 임금보다 높다.

119 연구 윤리 | 240904 | 74%

밑줄 친 ㉠~㉣을 연구 윤리 측면에서 적절하게 평가한 것만을 <보기>에서 고른 것은?

연구자 갑은 설문 조사 참여에 동의한 노인들을 대상으로 노인 문제에 관한 연구를 진행하였다. 갑은 조사에 앞서 ㉠연구 대상자가 응답 중단을 요청할 경우 즉각 조사가 중단된다고 설명하였다. 갑은 실제로 조사 진행 중 응답 중단을 요청하는 노인들에 대해 조사를 중단하고 ㉡해당 답변 자료를 폐기하였다. 노인들이 연구 목적을 알게 되면 연구에 영향을 미친다고 판단한 갑은 ㉢연구 결과를 발표한 후에도 연구 대상자에게 연구 목적을 알리지 않았다. 갑은 자신이 발표한 연구 논문에 관심을 가진 □□ 기업이 연구 자료를 요청하자, 연구비 지원을 받는 대가로 ㉣연구 대상자의 개인 정보를 삭제하고 나머지 모든 연구 자료를 제공하였다.

- ㉠. ㉠은 연구 대상자의 자발적 참여를 보장한 것이므로 연구 윤리에 위배되지 않는다.
- ㉡. ㉡은 연구 자료 조작이라고 볼 수 없으므로 연구 윤리에 위배되지 않는다.
- ㉢. ㉢은 연구 자료의 객관성을 보장하기 위한 것이므로 연구 윤리에 위배되지 않는다.
- ㉣. ㉣은 연구 대상자의 익명성을 보장한 것이므로 연구 윤리에 위배되지 않는다.

- ① ㉠, ㉡ ② ㉠, ㉢ ③ ㉡, ㉣ ④ ㉡, ㉣ ⑤ ㉢, ㉣

120 지속 가능한 사회 | 250619 | 85%

(가)에 들어갈 수 있는 내용으로 가장 적절한 것은?

『수행 평가 보고서 내용 요약』 ○○모듬

○ 조사 자료

- 1) 전쟁터에서 방치된 채 죽어가는 부상자를 구호하고 희생자를 최소화하기 위한 국제 조약의 필요성을 주장하며 유럽 각국 지도자들을 설득하여 국제기구를 설립한 A
- 2) 알래스카 지역의 회색 고래 등 지구적 차원의 멸종 위기 동물 보호를 위해 여러 국가와 기업, 지역 주민들의 합의를 이끌어 내고 환경 보존과 생명 존중을 실천한 환경 단체 B

○ 조사 자료 1)과 2)를 통해 공통적으로 도출한 결론: 전 지구적 수준의 문제를 해결하기 위해서는 이 중요하다.

[교사 평가란]
적절한 사례를 조사하여 결론을 잘 도출했습니다.

- ① 자원을 둘러싼 국가 간 분쟁을 줄이는 것
- ② 전쟁으로 인한 인명과 재산 피해를 막는 것
- ③ 과학 기술 발전의 성과를 전 세계와 공유하는 것
- ④ 세계 시민 의식을 함양하여 환경 문제에 관심을 갖는 것
- ⑤ 특정 지역이나 국가를 초월하여 국제 협력을 강화하는 것

ANSWER

정답 및 해설

QUICK ANSWER

001 ~ 020

4	3	4	4	5	1	2	5	4	2
2	5	4	4	5	4	1	2	5	3

021 ~ 040

2	5	1	4	4	2	1	3	4	2
5	4	2	4	5	3	3	1	4	1

041 ~ 060

3	3	1	1	4	3	3	1	1	2
5	2	1	1	3	1	2	4	5	4

061 ~ 080

4	5	3	1	5	2	2	2	4	5
1	5	5	3	2	4	3	5	1	3

081 ~ 100

3	2	5	5	1	3	3	4	2	2
1	2	4	5	1	1	4	5	5	4

101 ~ 120

3	5	4	3	5	3	3	2	4	5
5	2	5	4	4	2	3	3	1	5

PART I

001

4

자연 현상 = ㉠, ㉡
사회·문화 현상 = ㉢, ㉣

- ① ㉠과 같은 현상은 ㉢과 같은 현상과 달리 불가치적이다.
- ② ㉢과 같은 현상은 ㉣과 같은 현상에 비해 인과관계가 불명확하다.
- ③ ㉡과 같은 현상과 ㉣과 같은 현상 모두 보편성이 나타난다.
- ⑤ ㉠, ㉡과 같은 현상과 ㉢, ㉣과 같은 현상 모두 경험적 자료로 연구할 수 있다.

002

3

자연 현상 = ㉢, ㉣, ㉤
사회·문화 현상 = ㉠, ㉡

- ① ㉠과 같은 현상은 가치 함축적이다.
- ② ㉢과 같은 현상은 상위 법칙이 적용된다.
- ④ ㉡과 같은 현상은 인과관계가 분명하다.
- ⑤ ㉤과 같은 현상은 보편성만 존재한다.

003

4

자연 현상 = ㉠, ㉢, ㉣
사회·문화 현상 = ㉡, ㉤

- ① ㉠과 같은 현상은 불가치적이다.
- ② ㉢과 같은 현상은 존재 법칙을 따른다.
- ③ ㉣과 같은 현상은 보편성만 존재한다.
- ⑤ ㉤과 같은 현상은 확실성의 원리가 적용된다.

004

4

자연 현상 = ㉠, ㉡
사회·문화 현상 = ㉢, ㉣

- ① 자연 현상은 존재 법칙을 따른다.
- ② 사회·문화 현상은 확률의 원리가 적용된다.
- ③ 자연 현상과 달리 사회·문화 현상은 가치 함축적이다.
- ⑤ 자연 현상과 사회·문화 현상 모두 경험적 자료로 연구할 수 있다.

005

5

자연 현상 = ㉢, ㉣, ㉤
사회·문화 현상 = ㉠



왼쪽의 QR코드를 통해 ㉣이 자연 현상인 이유를 확인할 수 있습니다.

- ① 사회·문화 현상은 개연성의 원리가 적용된다.
- ② 자연 현상은 확실성의 원리가 적용된다.
- ③ ㉢과 ㉣ 모두 자연 현상이고, 자연 현상은 가치 함축적이지 않다.
- ④ ㉣과 ㉤ 모두 자연 현상이고, 자연 현상은 보편성과 특수성이 공존하지 않는다.

006

1

자연 현상 = ㉢, ㉤
사회·문화 현상 = ㉠, ㉡, ㉣

- ② 자연 현상은 인과관계가 분명하다.
- ③ 사회·문화 현상은 개연성의 원리가 적용된다.
- ④ ㉣과 ㉤ 모두 사회·문화 현상이고, 사회·문화 현상은 가치 함축적이다.
- ⑤ 자연 현상에 비해 사회·문화 현상은 특수성이 강하다.

007

2

A는 갈등론, B는 기능론이다.

- ① 상황 정의에 기초한 개인 간 상호 작용을 중시하는 관점은 상징적 상호 작용론이다.
- ③ B는 A와 달리 기득권층의 이익을 대변하는 논리로 사용된다는 비판을 받는다.
- ④ A는 B와 달리 질서와 안정성을 바탕으로 한 점진적인 사회 변동을 설명하기 어렵다.
- ⑤ 개인에 대한 사회 구조의 영향력을 간과한다는 비판을 받는 관점은 상징적 상호 작용론이다.

008

5

[Analysis]

1. 첫 번째 질문 'A는 B와 달리 지배 집단과 피지배 집단 간 갈등이 사회 발전의 원동력이라고 보는가?'는 **A가 갈등론인지 묻는 질문**이다.
2. 두 번째 질문 'A, C는 B와 달리 개인의 행위를 강제하는 사회 구조를 증시하는가?'는 **B가 상징적 상호 작용론인지 묻는 질문**이다.
3. 두 번째 질문에 대한 갑과 병의 대답과 마지막 질문에 대한 갑과 병의 대답이 서로 일치하는데 **두 대답 모두 옳은 대답**이다. 두 대답 중 하나라도 오답이라면 갑과 병이 모두 3점을 얻는 것이 불가능하기 때문이다.
4. 두 번째 질문에 대한 갑과 병의 대답이 오답이라고 가정해보자. 갑과 병 모두 첫 번째, 세 번째, 마지막 질문에 대한 답이 정답이어야 한다. 하지만 첫 번째와 세 번째 질문에 대한 갑과 병의 대답은 서로 다른데 이것은 모순이 된다. 그러므로 갑과 병의 대답이 일치하는 두 번째와 마지막 질문에 대한 갑과 병의 대답은 **옳은 대답**이다.
5. 두 번째 질문에 대한 정답은 '예'이므로 **B는 상징적 상호 작용론**이다.
6. 3~5번을 토대로 질문에 대한 답변과 정답 여부를 정리하면 다음과 같다.

질문	갑	을	병
첫 번째	아니요	아니요	예
두 번째	예	아니요	예
세 번째	예	아니요	아니요
마지막	예	아니요	예
점수	3점	2점	3점

(오답에는 취소선 처리)

7. 6번의 표로 얻을 수 있는 결론은 다음과 같다. **첫째, 첫 번째 질문과 세 번째 질문에 대한 대답은 '아니요'가 정답**이다. **둘째, 두 번째 질문과 마지막 질문에 대한 대답은 '예'가 정답**이다. 셋째, 'A가 갈등론인가?'라는 첫 번째 질문의 정답은 '아니요'이므로 **A는 갈등론이 아니고 기능론**이다. 넷째, **B는 상징적 상호 작용론**이므로 자연스럽게 **C는 갈등론**이 된다.

[Explanation]

- ① 사회가 본질적으로 변동을 지향한다고 보는 관점은 C(갈등론)이다.
- ② 다양한 사회 제도의 상호 의존 관계에 주목하는 관점은 A(기능론)이다.
- ③ 인간이 상황 정의에 기초하여 행동한다고 보는 관점은 B(상징적 상호 작용론)이다.
- ④ 'B는 A와 달리 행위자의 능동성을 증시하는가?'라는 질문은 참이다. 따라서 (가)에 들어갈 수 없다.
- ⑤ 'A는 C와 달리 기득권층의 이익을 대변한다는 비판을 받는가?'라는 질문은 참이다. 따라서 (나)에 들어갈 수 있다.

009

4

A는 기능론, B는 상징적 상호 작용론, C는 갈등론이다.

- ① B는 A와 달리 개인의 상황 정의와 의미 해석을 강조한다.
- ② C는 B와 달리 사회에 내재한 구조적 모순을 중심으로 사회 현상을 설명한다.
- ③ A는 C와 달리 기득권층의 이익을 옹호한다는 비판을 받는다.
- ④ '대립과 갈등을 사회의 본질적 속성으로 보는가?'라는 질문은 갈등론에 해당하므로 A와 B를 구분할 수 없다.
- ⑤ '사회 각 제도의 상호 의존적 관계에 주목하는가?'라는 질문은 기능론에 해당하므로 B와 C를 구분할 수 없다.

010

2

제시된 글에서 도출할 수 있는 사회·문화 현상을 바라보는 필자의 관점은 기능론이다.

- ㄱ. 갈등론에 대한 설명이다.
- ㄴ. 기능론에 대한 설명이 아니다.

011

2

갑의 관점은 갈등론, 을의 관점은 기능론, 병의 관점은 상징적 상호 작용론이다.

- ① 사회 불평등 현상이 불가피하다고 보는 관점은 기능론이다.
- ③ 사회 현상을 갈등과 대립의 측면에서만 파악한다는 비판을 받는 이론은 갈등론이다.
- ④ 지배 집단과 피지배 집단의 이익이 조화를 이루기 어렵다고 보는 관점은 갈등론이다.
- ⑤ 기득권층의 이익을 옹호하는 논리로 활용된다는 비판을 받는 이론은 기능론이다.

012

5

제시된 글에서 도출할 수 있는 사회·문화 현상을 바라보는 필자의 관점은 기능론이다.

- ㄱ, ㄴ. 상징적 상호 작용론에 대한 설명이다.

013

4

- ㄱ. ① 단계는 주제 설정 단계로 연구자의 가치 중립이 요구되지 않으며, ② 단계는 가설 검증 단계로 연구자의 가치 중립이 요구된다.
- ㄴ. ㉠은 갑이 연구 주제를 설정한 후 관련 연구를 검토하는 문헌 연구를 사용하는 부분이다. 반면, ㉡은 갑이 직접 질문지법으로 설문 조사를 함으로써 자료를 수집하는 부분이다. 따라서 ㉠은 2차 자료를, ㉡은 1차 자료를 수집하기 위한 것이다.
- ㄷ. 질문지법에는 실험 집단과 통제 집단 구분이 없다.
- ㄹ. 자료 분석에서 일상적 소비 활동으로 느끼는 행복감은 소득 수준이 높은 집단과 낮은 집단이 각각 2.6/3.6점으로 소득 수준이 낮은 집단에서 행복감이 더 높은 것으로 나타났다. 반면, 문화적 소비 활동에서는 소득 수준이 높은 집단과 낮은 집단이 각각 3.6/2.0점으로 나타났다. 따라서 A가 '일상적 소비'이던 기각되고, '문화적 소비'이던 수용된다.

014

4

- ① 갑은 실험법만을 사용하였으므로 질적 연구 방법은 활용하지 않았다.
- ② A, B, C, D 집단 모두 실험 집단과 통제 집단 어디에도 속하지 않는다.
- ③ 1일차에는 독립 변수에 대한 처치가 이루어지지 않았다.
- ④ ㉠은 갑의 연구 진행 과정에서 C, D 집단이 수집한 자료이므로 1차 자료에 해당한다.
- ⑤ ㉠과 ㉡ 모두 종속 변수에 대한 조작적 정의이다.

015

5

[Analysis]

1. 갑은 '정보 제공이 응답자의 응답 반응에 영향을 미칠 것이다.'라는 가설을 설정하고 연구를 진행하였다.
2. 유형 A~C를 정리해보자. 유형 A~C 모두 정부 정책 도입에 대한 동의 여부를 묻지만, **유형 A는 정부 정책에 대한 정보 제시 없이, 유형 B는 정부 정책에 대한 중립적인 정보를 제시한 후, 유형 C는 정부 정책에 대한 긍정적인 정보를 제시한 후** 정부 정책 도입에 대한 동의 여부를 묻는다.
3. 1단계에서는 문헌 연구를 통해 갑의 가설과 맥락을 같이 하는 ㉡과 같은 결과를 확인하였다.
4. 2단계에서 갑은 실험법을 사용하여 연구를 진행하였다. 먼저, 무작위로 선정한 성인 200명에게 유형 A를 배부하여 사전 검사를 실시하였다. 이 과정을 사전 검사라고 볼 수 있는 이유는 **정보 제공 여부에 따른 응답자의 반응 차이를 확인하기 위해 변인 처치 전 정보를 제공하지 않고 응답자의 반응을 확인한 것이기** 때문이다.

5. 그 후, 반대한 60%를 20%씩 세 집단으로 나누고 각각 유형 A, B, C에 응답하도록 하였다(변인 처치). 이때, 유형 A에 응답하는 첫째 집단은 통제 집단, 유형 B에 응답하는 둘째 집단과 유형 C에 응답하는 셋째 집단은 실험 집단이다.
6. **B 또는 C에 응답한 집단 중 B와 C에 상관없이 응답한 집단의 동의 여부가 유의미하게 달라진다면 이는 갑의 가설을 지지하는데, 갑은 정보 제공 여부가 응답 반응에 영향을 미칠 것이라는 가설을 세웠기 때문이다.** 즉, **B와 C는 제공한 정보가 중립적이나, 긍정적이거나의 차이일 뿐 정보가 제공된 것이기에 B와 C 집단에서의 유의미한 응답 변화는 갑의 가설을 지지한다.**
7. **첫째 집단(유형 A)과 둘째 집단(유형 B) 간의 차이와 첫째 집단(유형 A)과 셋째 집단(유형 C) 간의 응답 차이는 갑의 가설을 지지하고, 둘째 집단(유형 B)과 셋째 집단(유형 C)의 차이는 갑의 가설 지지 여부를 알 수 없다.**

[Explanation]

- ① 2단계에서 갑은 무작위로 선정한 성인 200명에게 유형 A를 배부하여 ㉡을 측정함으로써 사전 검사를 실시하였다.
- ② 유형 B에 응답한 사람들과 유형C에 응답한 사람들 모두 실험 집단이다.
- ③ ㉡은 ㉠에 대한 조작적 정의이다.
- ④ ㉠은 질문지 작성 시 특정 응답을 유도한 것이지만 연구를 진행하기 위한 조치에 해당한다.
- ⑤ 2단계에서 도출한 분석 결과는 첫째 집단과 둘째 집단, 첫째 집단과 셋째 집단 간의 유의미한 차이를 보이기 때문에 ㉡을 지지한다.

016

4

- ① ㉠단계에서는 가치 중립이 요구되지 않는다.
- ② ㉡은 모집단이 아니다.
- ③ ㉡과 ㉢ 모두 독립 변수이다.
- ⑤ ㉡은 참여 관찰법이고, ㉢은 질문지법이다. 따라서 ㉡은 질적 연구이다.

017

1

- ㄱ. ㉠은 ㉡의 조작적 정의에 해당하지 않는다. ㉠은 ㉡을 세분화한 것이다.
- ㄷ. ㉡은 문화 소비와 가족 관계망 사이에 유의미한 관계가 나타나지 않았다는 것을 보여줄 뿐, 부(-)의 관계가 나타났다는 것을 보여주지 않는다. 따라서 평소 교류하는 가족과 친척의 수가 많을수록 공연과 전시를 관람한 횟수가 감소하는지는 ㉡을 통해 알 수 없으며, 제시문을 통해서도 알 수 없다.

018

2

- ① 갑의 연구에서 모집단은 고등학생이다.
- ② 을은 갑의 연구에서 측정된 문해력 수준을 바탕으로 독서 프로그램이 문해력 증진에 효과가 있는지에 대하여 실험했다. 따라서 을의 연구에서 갑이 측정된 문해력 수준은 사전 검사로 활용되었다.
- ③ ㉠은 문해력과 학업 성취도 간의 정(+)의 관계를 보여준다.
- ④ 을의 연구에서 실험 처치는 ○○ 독서 프로그램의 실행 여부이다.
- ⑤ 을의 연구에서 먼저 C집단에게 독서 프로그램을 적용한 결과 C집단과 D집단 간의 문해력 수준이 유의미한 차이를 보였고, 이후 D집단에게도 동일하게 적용한 결과 ㉡과 같은 결과가 나왔다. 따라서 ㉡은 ㉠을 지지하는 근거로 사용할 수 있다.

019

5

A는 질문지법, B는 면접법이다.

- ① B는 A에 비해 자료 수집 과정에서 조사자가 융통성을 발휘하기 용이하다.
- ② A와 B 모두 조사 대상자와의 언어적 상호 작용이 필수적이다.
- ③ A는 B에 비해 구조화된 자료를 수집하기 용이하다.
- ④ A는 B에 비해 수집된 자료의 통계 처리가 용이하다.

020

3

(가)에 대한 질문의 답변은 A와 B가 다르고 B와 C가 같다. >> A / B, C

- ① '주로 질적 자료를 수집할 때 활용합니까?'
예 : 면접법, 참여 관찰법
아니요 : 질문지법(A)
>> A / B, C
* 이 질문은 (가)에 들어갈 수 있다.
- ② '언어나 문자로 의사소통할 수 없는 대상으로부터 자료 수집이 가능합니까?'
예 : 참여 관찰법
아니요 : 질문지법, 면접법(A)
>> A, ? / ?
* 이 질문은 (가)에 들어갈 수 없다.
- ③ '자료 수집 과정에서 연구 대상자의 응답이 필수적입니까?'
예 : 질문지법, 면접법
아니요 : 참여 관찰법(C)
>> A, B / C
* 이 질문은 (가)에 들어갈 수 없다.

- ④ '자료 수집 과정에서 표준화·구조화된 도구의 사용이 필수적입니까?'
예 : 질문지법(C)
아니요 : 면접법, 참여 관찰법
>> A, B / C
* 이 질문은 (가)에 들어갈 수 없다.
- ⑤ '문맹자에게 사용하기 어렵습니까?'
예 : 질문지법
아니요 : 면접법, 참여 관찰법
>> A=질문지법
* 제시된 연구 방법 중 방법론적 일원론을 전제로 하는 연구는 질문지법뿐이다. 그러나 질문지법은 B가 아닌 A이다.

021

2

A는 갑의 연구에서만 사용되었고, B는 갑과 을의 연구에서 모두 사용되었으며, C는 을의 연구에서만 사용되었고, 갑은 질문지법과 참여 관찰법을, 을은 질문지법과 문헌 연구법을 사용하였다. 따라서 A는 참여 관찰법, B는 질문지법, C는 문헌 연구법이다.

- ① 변인 간의 관계를 파악하는 연구에 주로 사용되는 자료 수집 방법은 질문지법과 실험법이다. 따라서 B는 A와 달리 변인 간의 관계를 파악하는 연구에 주로 사용된다.
- ② 질문지법과 면접법은 다른 자료 수집 방법과 달리 연구 대상자와의 언어적 상호 작용이 필수적이다. 따라서 B는 C와 달리 연구 대상자와의 상호 작용이 필수적이라는 내용은 옳은 내용이다.
- ③ 연구 대상자와의 정서적 교감 형성을 증시하는 자료 수집 방법은 질적 연구 방법인 면접법과 참여 관찰법이다. 따라서 A는 C에 비해 연구 대상자와의 정서적 교감 형성을 증시한다.
- ④ 다수를 대상으로 한 자료 수집에 유리한 자료 수집 방법은 질문지법이다. 따라서 B는 A, C에 비해 다수를 대상으로 한 자료 수집에 유리하다.
- ⑤ 질적 자료의 수집에 주로 활용되는 방법은 면접법과 참여 관찰법이다. 따라서 A는 B, C와 달리 질적 자료의 수집에 주로 활용된다. C인 문헌 연구법은 양적 자료와 질적 자료 수집에 모두 활용될 수 있다.

022

5

[Analysis]

1. 인위적으로 통제된 상황에서 변수의 효과를 관찰하는 방법은 실험법이다. 따라서 **첫 번째 질문은 A가 실험법에 해당하지** 묻는 질문이다.
2. 자료 수집 과정에서 연구자가 유연성이나 융통성을 발휘하기 용이한 방법은 면접법이다. 따라서 **두 번째 질문은 B가 면접법에 해당하지** 묻는 질문이다.
3. 질문지법과 실험법은 주로 양적 연구에서, 면접법은 주로 질적 연구에서 활용한다. 따라서 **세 번째 질문은 B가 면접법에 해당하지** 묻는 질문이다.
4. 이때, 두 번째 질문과 세 번째 질문 모두 같은 내용을 묻고 있는데, 3점을 얻은 갑의 두 질문에 대한 답변이 서로 다르다. 따라서 **첫 번째 질문과 마지막 질문에 대한 갑의 답변은 옳은 답변**이므로 **A는 실험법**이고, 갑은 두 번째 질문 또는 세 번째 질문에 대한 답변을 틀리게 하였다.
5. 을은 1점을 얻었는데, 마지막 질문에 대한 답변이 옳은 답변을 한 갑과 같다. 따라서 **을은 마지막 질문에만 옳은 답변**을 하였고, **갑은 두 번째 질문에서 옳과 같이 틀린 답변**을 하였으므로 **두 번째 질문에는 틀리게, 세 번째 질문에는 옳게** 답변하였다. 또한, **B는 면접법**이다.
6. 마지막으로, 병은 두 번째와 세 번째 질문에 옳게 답변하였고, **C는 질문지법**이다. **(가)에는 옳은 답변이 '아니요'인 질문이** 들어가야 한다.

[Explanation]

- ① 병은 두 번째 질문에 대해 옳게 답변하였고 두 번째 질문에 대한 옳은 답변은 '예'이므로 ㉠은 '예'이다.
- ② B에 비해 A는 독립 변수와 종속 변수의 관계를 검증하는 연구에 적합하다.
- ③ B와 C 모두 조사 대상자와의 언어적 상호 작용이 필수적이다.
- ④ A~C 모두 조사 대상자의 주관적 인식을 파악할 수 있다.
- ⑤ 질문지법에 비해 면접법은 응답자로부터 깊이 있는 정보를 수집하기에 용이하므로 'B에 비해 C는 소수의 응답자로부터 깊이 있는 정보를 수집하기에 용이한 방법인가?'에 대한 옳은 답변은 '아니요'이다. 따라서 (가)에 들어갈 수 있다.

023

1

[Analysis]

1. '의사소통이 원활하지 않은 아동들의 특성을 고려'한다는 발화와 '아동들이 우리를 의식해서 행동하지 않도록 주의가 필요'하겠다는 발화를 통해 **A는 참여 관찰법**임을 알 수 있다.
2. '아동들이 글을 읽고 이해하는 능력이 낮'다는 발화를 통해 **B는 질문지법**임을 알 수 있다.
3. 또한, '유치원 교사를 대상으로 한 설문 조사'의 분석 결과들을 찾아보는 것이 대안이 될 수 있겠다는 발화와 'C를 활용한 양적인 분석'이라는 발화를 통해 **C는 문헌 연구법**임을 알 수 있다.
4. 마지막으로, '대화를 통해 아동의 주관적 세계를 이해할 필요가 있겠'다는 발화를 통해 **D는 면접법**임을 알 수 있다.

[Explanation]

- ② A에 비해 C는 자료 수집 과정에서 시·공간적 제약이 적다.
- ③ D는 연구자와 연구 대상자 간의 신뢰 관계 형성이 중요하다.
- ④ '연구 대상자의 주관적 인식을 파악할 수 있는가?'라는 질문에 B와 C 모두 '예'라고 답한다. 따라서 해당 질문에 B와 C를 구분할 수 없다.
- ⑤ '연구자와 연구 대상자 간의 언어적 상호작용이 필수적인가?'라는 질문에 C는 '아니오', D는 '예'라고 답한다. 따라서 해당 질문에 C와 D를 구분할 수 있다.

024

4

갑은 문헌 연구법과 면접법을 사용하였고, 을은 참여 관찰법과 면접법을 사용하였고, 병은 질문지법과 문헌 연구법을 사용하였다.

- ① 표준화된 도구로 대량의 자료를 획득하기 용이한 자료 수집 방법은 질문지법이다. 갑과 을은 모두 질문지법을 사용하지 않았다.
- ② 인위적으로 통제된 상황에서 변수의 효과를 관찰하는 자료 수집 방법은 실험법이다. 갑과 병은 모두 실험법을 사용하지 않았다.
- ③ 연구 대상자와 함께 생활하며 관심을 갖는 연구 현상을 관찰하는 자료 수집 방법은 참여 관찰법이다. 갑은 참여 관찰법을 사용하지 않았다.
- ④ 기존의 연구 결과물을 자신의 연구에 활용하는 자료 수집 방법은 문헌 연구법이다. 갑과 병은 모두 문헌 연구법을 사용하였다.
- ⑤ 연구 대상자와의 정서적 교감 형성을 중시하는 자료 수집 방법은 면접법이다. 병은 면접법을 사용하지 않았다.

025

4

글에는 사회 실재론이 부각 되어있다. **ㄱ, ㄷ은 사회 명목론에 대한 설명이다.**

026

2

글에는 사회 실재론이 부각 되어있다. **ㄴ, ㄹ은 사회 명목론에 대한 설명이다.**

027

1

글에는 사회 명목론이 부각 되어있다. **ㄷ, ㄹ은 사회 실재론에 대한 설명이다.**

028

3

글에는 사회 실재론이 부각 되어있다. **ㄱ, ㄷ은 사회 명목론에 대한 설명이다.**

029

4

글에는 사회 명목론이 부각 되어있다. **ㄱ, ㄷ은 사회 실재론에 대한 설명이다.**

030

2

글에는 사회 실재론이 부각 되어있다. **ㄴ, ㄹ은 사회 명목론에 대한 설명이다.**

031

5

- ① ㉠은 2차 집단이자 공식 조직이다.
- ② ㉡을 갑의 역할 행동에 대한 제재라고 볼 수 없다.
- ③ ㉢은 전문적인 수준의 사회화를 담당한다. 따라서 2차적 사회화 기관이다.
- ④ ㉣은 성취지위가 아니다.
- ⑤ ㉤은 사회화를 목적으로 만들어졌으므로 공식적 사회화 기관이지만, ㉠은 그렇지 않으므로 공식적 사회화 기관이 아니다.

032

4

- ① ㉠은 지위가 아니다.
- ② ㉡은 개인 채널 방송인으로서 갑의 역할 행동에 대한 보상이다.
- ③ ㉢은 을의 신념일 뿐 역할 행동에 해당하지 않는다.
- ④ ㉣은 갑이 직장을 계속할지 그만할지에 대한 고민이므로 역할 갈등이 아니고, ㉤은 을이 방송인으로서 방송을 계속해야 할지, 가족 구성원으로서 육아에 전념해야 할지에 대한 고민이므로 역할 갈등에 해당한다. 따라서 ㉠과 달리 ㉤은 역할 갈등이다.
- ⑤ ㉡은 갑이 새롭게 발령받은 팀에서 더 나은 업무를 수행하기 위해 새로운 지식을 학습하는 과정이므로 재사회화에 해당하지만, ㉢은 이미 고정 출연자가 된 을이 방송을 준비 및 학습하는 것이므로, 을의 예기 사회화가 아니다. 예기 사회화는 미래에 속하기를 기대하거나 속하게 될 집단에서 요구하는 지식 등을 학습하는 것을 의미한다.

033

2

[Analysis]

1. 갑이 작성한 내용에 나타난 사회 집단은 다음과 같다.

취업 상담 센터, 교내 독서 모임, 총동창회, ○○기업, □□ 시민 단체

2. 을이 작성한 내용에 나타난 사회 집단은 다음과 같다.

□□ 시민 단체, △△방송사, 방송인 협회, 취업 상담 센터

3. 병이 작성한 내용에 나타난 사회 집단은 다음과 같다.

고등학교, 대안 학교, ○○기업, 대학원

4. 갑이 속해있는 집단은 다음과 같다.

A 대학교, 교내 독서 모임, 대안 학교

5. 을이 속해있는 집단은 다음과 같다.

A 대학교, □□ 시민 단체, 교내 독서 모임

6. 병이 속해있는 집단은 다음과 같다.

A 대학교, 대안 학교, □□ 시민 단체

7. 나타난 집단을 정리하면 다음과 같다.

공식 조직	A 대학교, 취업 상담 센터, 총동창회, ○○기업, □□ 시민 단체, △△방송사, 방송인 협회, 고등학교, 대안 학교
비공식 조직	교내 독서 모임
이익 사회	A 대학교, 취업 상담 센터, 총동창회, ○○기업, □□ 시민 단체, △△방송사, 방송인 협회, 고등학교, 대안 학교, 교내 독서 모임
자발적 결사체	□□ 시민 단체, 방송인 협회, 교내 독서 모임
공식적 사회화	A 대학교, 고등학교, 대안 학교
비공식 사회화	취업 상담 센터, 총동창회, ○○기업, □□ 시민 단체, △△방송사, 방송인 협회
2차적 사회화	A 대학교, 고등학교, 대안 학교

[Explanation]

- ① 갑이 작성한 내용에 나타난 공식 조직의 개수(4)는 을이 작성한 내용에 나타난 2차적 사회화 기관의 개수(4)와 같다.
- ② 을이 작성한 내용에 나타난 자발적 결사체의 개수(2)는 을이 속해있는 자발적 결사체의 개수(2)와 같다.
- ③ 병이 속해있는 공식적 사회화 기관의 개수(2)는 갑이 속해있는 공식적 사회화 기관의 개수(2)와 같다.
- ④ 갑과 병이 함께 속해있는 2차 집단의 개수(2)는 병이 속해있는 비공식적 사회화 기관의 개수(1)보다 많다.
- ⑤ 갑과 을이 함께 속해있는 비공식 조직은 교내 독서 모임이다.

034

4

[Analysis]

1. [장면 2]에 나타난 사회 집단은 다음과 같다.

□□기업, 대학교, 바다낚시 동호회

2. [장면 3]에 나타난 사회 집단은 다음과 같다.

△△은행, △△은행 사내 여행 동아리, 해외여행 관련 회사, 총동창회, 대학원

3. [장면 4]에 나타난 사회 집단은 다음과 같다.

○○방송국, 대학교, △△은행, 동물 보호 단체

4. 갑이 속해있는 집단은 다음과 같다.

□□기업, 바다낚시 동호회

5. 을이 속해있는 집단은 다음과 같다.

총동창회, 대학원, 바다낚시 동호회

6. 병이 속해있는 집단은 다음과 같다.

○○방송국, 동물 보호 단체, 총동창회

7. 나타난 집단을 정리하면 다음과 같다.

비공식 조직	△△은행 사내 여행 동아리
이익 사회	□□기업, 대학교, 바다낚시 동호회, △△은행, △△은행 사내 여행 동아리, 해외여행 관련 회사, 총동창회, 대학원, 동물 보호 단체
자발적 결사체	바다낚시 동호회, △△은행 사내 여행 동아리, 동물 보호 단체
비공식 사회화 기관	□□기업, 바다낚시 동호회, △△은행, △△은행 사내 여행 동아리, 해외여행 관련 회사, 총동창회, 동물 보호 단체

[Explanation]

- [장면 1]에 적혀 있는 내용에는 성취지위가 나타나지 않는다. [장면 3]에 적혀 있는 내용에는 비공식 조직이 있다(△△ 은행 사내 여행 동아리).
- [장면 2]에 적혀 있는 이익 사회의 개수(3)는 [장면 4]에 적혀 있는 비공식적 사회화 기관의 개수(3)와 같다.
- 갑과 을 모두 역할 갈등이 해소되어 준거 집단과 소속 집단이 일치하게 되었다는 내용은 드러나지 않는다.
- 을이 속해 있는 자발적 결사체의 개수(2)는 병이 속해 있는 2차 집단의 개수(3)보다 적다.
- 대본에는 갑의 재사회화와 병의 예기 사회화 내용이 적혀 있지 않다.

035

5

- ㉠은 공식적 사회화 기관이다.
- ㉡과 ㉢ 모두 자발적 결사체에 해당한다.
- ㉣은 집단이 아니다.
- ㉤은 갑의 역할 갈등에 해당하지 않는다.

036

3

- ㉠은 소속 집단과 준거 집단이 일치할 때 강화된다.
- ㉡이 발생하는 원인은 외집단에 대한 적대감 때문이다.
- ㉢과 같은 집단은 1차 집단이다. 이익 집단과 시민 단체는 친밀한 접촉을 통해 유지되는 집단인 1차 집단이 아니라 수단적 접촉을 통해 유지되는 집단인 2차 집단이다.
- ㉤과 같은 집단은 2차 집단이다. 주로 인간 관계 자체를 목적으로 하는 집단은 2차 집단이 아니라 1차 집단이다.

037

3

[Analysis]

1. 갑이 속해있는 집단은 다음과 같다.

☆☆ 대학교, 영화제작동아리, □□ 동아리, 인권 단체

2. 을이 속해있는 집단은 다음과 같다.

사회복지대학원, 인권 단체, □□ 동아리

3. 병이 속해있는 집단은 다음과 같다.

☆☆ 대학교, 영화제작동아리, □□ 동아리

4. 이때, **기자의 발화**에는 ○○ 신문사라는 집단이, **을의 발화**에는 가족이라는 집단이 나타나있다.

5. 나타난 집단을 정리하면 다음과 같다.

비공식 조직	영화제작동아리
2차적 사회화 기관	☆☆ 대학교, 영화제작동아리, □□ 동아리, 인권 단체, 사회복지대학원, ○○ 신문사
자발적 결사체	영화제작동아리, □□ 동아리, 인권 단체
비공식 사회화 기관	영화제작동아리, □□ 동아리, 인권 단체, ○○ 신문사, 가족

[Explanation]

- 갑과 병 모두 영화제작동아리에 속해있다. 따라서 갑과 병 모두 비공식 조직에 속해있다.
- 을이 속한 2차적 사회화 기관은 사회복지대학원, 인권 단체, □□ 동아리이고, 병이 속한 2차적 사회화 기관은 ☆☆ 대학교, 영화제작동아리, □□ 동아리이다. 따라서 을과 병이 속한 2차적 사회화 기관은 각각 3개이다.
- 자료 전체에 적혀 있는 사회 집단에서 자발적 결사체가 아니면 비공식적 사회화 기관인 것은 ○○ 신문사와 가족으로 2개이다.

038

1

A는 탈관료제, B는 관료제이다.

- A와 B 모두 공식적 규범에 의한 통제가 이루어진다.
- A는 B에 비해 구성원이 창의성을 발휘하기 용이하다.
- A와 B 모두 업무 수행의 효율성을 추구한다.
- B는 연공서열에 따른 보상을, A는 성과에 따른 보상을 중시한다.

039

4

을이 설명한 병의 회사는 B의 특성이, 병이 설명한 을의 회사는 A의 특성이 나타난다. 따라서 A는 탈관료제, B는 관료제이다.

ㄱ. B는 A에 비해 업무 수행의 안정성을 확보하기가 용이하다.

ㄷ. A는 B에 비해 목적 전치 현상이 나타날 가능성이 낮다.

040

1

A는 관료제, B는 탈관료제이다.

- B는 A와 달리 외부 환경 변화에 대한 유연한 대처가 용이하다.
- A는 B에 비해 목적 전치 현상이 나타날 가능성이 높다.
- A와 B 모두 효율적인 목표 달성이 조직 운영의 핵심이다.
- A는 경력에 따른 보상을, B는 능력에 따른 보상을 중시한다.

041

3

A는 관료제, B는 탈관료제이다.

- B에 비해 A는 목적 전치 현상이 나타날 가능성이 높다.
- A와 B 모두 목표의 효율적 달성이 조직 운영의 핵심이다.
- A와 B 모두 공식적 규약과 절차에 의해 구성원을 통제한다.
- A는 연공서열에 따른 보상을 중시하고, B는 성과에 따른 보상을 중시한다.

042

3

A는 관료제, B는 탈관료제이다.

- ① ㉠은 과업 지향적인 사회 집단이지만, ㉡은 결합 자체가 목적인 사회 집단(1차 집단)이 아니다.
- ② ㉢, ㉣, ㉤ 모두 비공식적 사회화 기관에 해당한다.
- ④ 전문성을 기준으로 구성원을 선발하고 연공 서열에 따른 보상 체계를 중시하는 것은 B가 아닌 A이다.
- ⑤ A는 하향식 의사 결정 방식이, B는 상향식 의사 결정 방식이 지배적이다.

043

1

A는 탈관료제, B는 관료제이다.

- ② B에 비해 A는 외부 환경 변화에 대한 유연한 대처가 용이하다.
- ③ A에 비해 B는 업무의 표준화와 세분화가 강조된다.
- ④ A에 비해 B는 목적 전치 현상이 나타날 가능성이 높다.
- ⑤ A는 성과에 따른 보상을, B는 경력에 따른 보상을 중시한다.

044

1

A는 낙인 이론, B는 차별 교제 이론, C는 머튼의 아노미 이론이다.

- ② A는 차별적인 사회적 제재를 일탈 행동의 원인으로 본다.
- ③ A는 일탈 행동을 규정하는 객관적 기준이 존재하지 않는다고 본다.
- ④ A와 B 모두 개인이 타인과의 상호 작용을 통해 일탈자가 되어 가는 과정에 주목 한다.
- ⑤ C는 B와 달리 범죄 예방을 위해 소외 계층에게 더 나은 취업 기회를 제공하는 정책을 뒷받침한다.

045

4

[Analysis]

- 1. 갑은 문화적 목표를 이루기 위한 합법적 수단이 부족했던 적이 없었으므로 머튼의 아노미 이론으로 설명할 수 없다. 즉, C는 머튼의 아노미 이론이다.
- 2. 을은 일탈자들과 어울리거나 그들의 행동을 따라 하려고 했던 적이 없었으므로 차별 교제 이론으로 설명할 수 없다. 즉, A는 차별 교제 이론이다.
- 3. 따라서 B는 낙인 이론이다.

[Explanation]

- ① C는 일탈에 대한 대책으로 제도화된 기회의 확대를 중시한다.
- ② A는 타인과의 상호 작용을 통한 일탈의 학습 과정에 주목한다.
- ③ B는 정상 집단과의 교류를 일탈의 해결 방안으로 제시한다.
- ⑤ 일탈에 대한 대책으로 사회 규범의 통제력 강화를 강조하는 이론은 뒤르켐의 아노미 이론이다.

046

3

갑은 뒤르켐의 아노미 이론, 을은 차별 교제 이론, 병은 머튼의 아노미 이론의 관점에서 설명한다.

- ① 일탈에 대한 대책으로 제도화된 기회의 확대를 중시하는 이론은 C(머튼의 아노미 이론)이다.
- ② 타인과의 상호 작용을 통한 일탈의 학습 과정에 주목하는 이론은 A(차별 교제 이론)이다.
- ③ 정상 집단과의 교류를 일탈의 해결 방안으로 제시하는 이론은 B(낙인 이론)이다.
- ④ 일탈을 규정하는 객관적 기준이 없다고 보는 이론은 B(낙인 이론)이다. A(차별 교제 이론), C(머튼의 아노미 이론), 그리고 뒤르켐의 아노미 이론은 일탈을 규정하는 객관적 기준이 있다고 본다.
- ⑤ 일탈에 대한 대책으로 사회 규범의 통제력 강화를 강조하는 이론은 뒤르켐의 아노미 이론이다.

047

3

사회적 반응 그 자체가 일탈자로서의 정체성 형성에 핵심 요인으로 작용한다는 것은 낙인 이론에 해당하는 내용이다. 따라서 A는 낙인 이론이다.

- ① 교육 과정 내에 있는 어떠한 일탈 이론에도 해당하지 않는 설명이다.
- ② 뒤르켐의 아노미 이론에 대한 설명이다.
- ④ 머튼의 아노미 이론에 대한 설명이다.
- ⑤ 차별 교제 이론에 대한 설명이다.

048

1

[Analysis]

- 1. 제시된 네 개의 질문을 간단하게 정리해보자. 첫 번째 질문은 'A가 차별 교제 이론인가?'이고, 두 번째 질문은 'C가 낙인 이론인가?'이고, 세 번째 질문은 'D는 머튼의 아노미 이론인가?'이고, 마지막 질문은 'A와 C는 각각 낙인 이론과 차별 교제 이론 중 하나이고, B와 D는 각각 뒤르켐의 아노미 이론과 머튼의 아노미 이론 중 하나인가?'이다.
- 2. 그 다음, 점수가 가장 높은 병부터 체크해보자. 네 개의 질문에 대한 병의 답변은 모두 '예'이고, 이 중 하나는 오답이다.
- 3. 첫 번째 질문에 대한 병의 답변이 오답일 경우, 두 번째 질문과 마지막 질문에서 모순이 생긴다. A는 차별 교제 이론이 아니고, C는 낙인 이론인데, A와 C는 각각 차별 교제 이론과 낙인 이론 중 하나이어야 하므로 이는 모순이다.
- 4. 두 번째 질문에 대한 병의 답변이 오답일 경우 역시 3번과 같은 이유로 모순이 생긴다. A는 차별 교제 이론이고, C는 낙인 이론인데, A와 C는 각각 차별 교제 이론과 낙인 이론 중 하나이어야 하므로 이는 모순이다.
- 5. 세 번째 질문에 대한 병의 답변이 오답일 경우, D는 머튼의 아노미 이론이 아니고, A는 차별 교제 이론, C는 낙인 이론이 된다. 또한, A와 C는 각각 차별 교제 이론과 낙인 이론 중 하나라는 마지막 질문과도 모순되지 않으므로 세 번째 질문에 대한 병의 답변은 오답이다.
- 6. 마지막 질문에 대한 병의 답변이 오답일 경우, 첫 번째 질문으로 인해 A는 차별 교제 이론이고, 두 번째 질문으로 인해 C는 낙인 이론인데, 이 경우 A와 C가 각각 차별 교제 이론과 낙인 이론 중 하나가 아니라는 마지막 질문에 대한 옳은 답변이 '예'가 되므로 모순된다.
- 7. 따라서 첫 번째, 두 번째, 마지막 질문에 대한 옳은 답변은 '예'이고, 세 번째 질문에 대한 옳은 답변은 '아니요'이다.
- 8. 그리고, 갑은 두 번째 질문과 마지막 질문에 대해 옳지 않게 답변하였고, 을은 마지막 질문에만 옳게 답변하였다. 따라서 ㉠은 '1점'이다.
- 9. 마지막으로, A은 차별 교제 이론, C는 낙인 이론이고, D는 머튼의 아노미 이론이 아니므로 뒤르켐의 아노미 이론, B는 머튼의 아노미 이론이다.

[Explanation]

- ② 비행 청소년이라는 부정적인 평판으로 인해 범죄를 다시 저지르는 경우는 A가 아닌 C의 사례이다.
- ③ 경찰의 치안과 공권력이 무너진 국가에서 각종 범죄가 늘어나는 경우는 B가 아닌 D의 사례이다.
- ④ 프로 야구 만년 후보 선수가 주전 선수가 되고 싶어 금지 약물을 복용한 경우는 C가 아닌 B의 사례이다.
- ⑤ 상습적으로 불법 도박을 하는 친구에게 배워 불법 스포츠 도박에 빠진 청소년의 경우는 D가 아닌 A의 사례이다.

049

1

[Analysis]

- 제시된 네 개의 질문을 간단하게 정리해보자. 첫 번째 질문에는 낙인 이론만 '예', 나머지는 '아니요'라고 응답하고, 두 번째 질문에는 낙인 이론과 차별 교제 이론만 '예', 나머지는 '아니요'라고 응답한다. 세 번째 질문에는 낙인 이론을 제외한 모든 이론이 '예', 낙인 이론만 '아니요'라고 응답하고, 마지막 질문에는 머튼의 아노미 이론만 '예', 나머지는 '아니요'라고 응답한다.
- 이때, 순서대로 질문을 풀어나가는 것보다는 점수가 극단적인 경우부터 풀어나가는 것이 경우의 수를 최소한으로 줄여나가며 문제를 풀어나갈 수 있다. 따라서 두 번째 질문을 마지막으로 확인하는 것이 더 유리하다.
- 첫 번째 질문에 대한 채점 결과는 3점이다. '예'에 1개, '아니요'에 3개가 분류되어야 하는데 각각 2개씩 분류되었고, 이 중 하나만 잘못 분류되었으므로 '예'에 분류된 B와 C 중 하나가 잘못 분류된 것이다. 따라서 A와 D는 옳게 분류되었고, 들은 낙인 이론이 아니다.

A	B	C	D
낙인 X	?	?	낙인 X

- 세 번째 질문에 대한 채점 결과는 1점이다. '예'에 3개, '아니요'에 1개가 분류되어야 하는데 각각 2개씩 분류되었고, 이 중 하나만 옳게 분류되었으므로 '예'에 분류된 B와 D 중 하나만 옳게 분류된 것이고, '아니요'에 분류된 A와 C는 모두 낙인이 아니다. 따라서 B는 낙인 이론이다.

A	B	C	D
낙인 X	낙인	낙인 X	낙인 X

- 마지막 질문에 대한 채점 결과는 3점이다. '예'에 1개, '아니요'에 3개가 분류되어야 하는데 각각 2개씩 분류되었고, 이 중 하나만 잘못 분류되었으므로 '예'에 분류된 B와 C 중 하나가 잘못 분류된 것이다. 이때, B는 낙인 이론이므로 B가 잘못 분류되었고, C는 머튼의 아노미 이론이다.

A	B	C	D
?	낙인	머튼	?

- 두 번째 질문에 대한 채점 결과는 2점이다. '예'와 '아니요'에 각각 2개씩 분류되어야 하는데 각각 2개씩 분류되었지만, 두 개의 위치가 서로 바뀌었다. 따라서 '예'로 분류된 B와 D 중 하나는 '아니요'로 분류되어야 하고, '아니요'로 분류된 A와 C 중 하나는 '예'로 분류되어야 한다.
- 이때, B는 낙인 이론이므로 옳게 분류되었고, D가 잘못 분류되었다. C는 머튼의 아노미 이론이므로 옳게 분류되었고, A가 잘못 분류되었다. 따라서 A는 차별 교제 이론, D는 뒤르켐의 아노미 이론이다.

A	B	C	D
차별 교제	낙인	머튼	뒤르켐

[Explanation]

- 한탕주의로 쉽게 돈을 버는 사람을 보고 부자가 되고 싶은 실업자가 불법 도박에 빠지는 경우는 C의 사례로 적절하다.
- 학교 폭력 가해 사실로 징계를 받은 학생이 스스로를 문제아로 인식하고 범죄를 저지르는 경우는 B의 사례로 적절하다.
- B와 D 모두 정상 집단과의 교류를 일탈의 해결책으로 보지 않는다. 이는 A에 대한 설명이다.
- A와 달리 D는 사회 규범의 통제력 강화를 일탈의 해결책으로 본다.

050

2

- ㉠에는 문화의 총체성이 부각 되어있다.
- ㉡은 물질문화에 해당한다.
- ㉢에서 '문화'는 넓은 의미의 문화이다.
- ㉣은 문화 지체의 사례로 볼 수 없다.

051

5

[Analysis]

- ㉠과 ㉡은 각각 학습성과 공유성 중 하나이다.
- 갑과 을은 옳은 사례를 제시하였으므로 ㉠은 학습성, ㉡은 공유성이다.
- 정 또한 옳은 사례를 제시하였으므로 (나)에는 축적성이 부각된 사례가 들어가야 한다.
- 병은 ㉠에 대한 사례를 제시하였으므로 (가)에는 학습성이 부각된 사례가 들어가야 한다.
- 무는 ㉡에 대한 사례를 제시하였으므로 (다)에는 공유성이 부각된 사례가 들어가야 한다.

[Explanation]

- 문화가 세대 간 전승을 통해 더욱 복잡하고 풍부해지는 것은 축적성에 대한 설명이다.
- 문화가 여러 요소들이 상호 유기적으로 연관되어 나타나는 것은 총체성에 대한 설명이다.
- '내비게이션 등장 이후 운전할 때 종이 지도로 길을 찾는 사람들은 거의 사라졌다.'라는 사례는 변동성에 대한 사례이다. (가)에는 학습성이 부각된 사례가 제시되어야 하므로 들어갈 수 없다.
- '예전에는 혈액형으로 성향을 파악했지만, 요즘은 성격검사 결과를 통해 성향을 파악하는 것을 즐긴다.'라는 사례는 변동성에 대한 사례이다. (나)에는 축적성이 부각된 사례가 제시되어야 하므로 들어갈 수 없다.
- '팬클럽마다 좋아하는 연예인을 상징하는 색깔을 정하고 그 색깔을 응원에 활용한다.'라는 사례는 공유성에 대한 사례이다. (다)에는 공유성이 부각된 사례가 제시되어야 하므로 들어갈 수 있다.

052

2

[Analysis]

- 우선 기억
- 해야 할 점 두 가지는 다음과 같다. 첫째, 갑~무가 각각 배정받은 속성은 모두 다르다. 둘째, 갑~무의 발문 끝에 각각 나타난 '~은 A/B/축적/전체/변동성이 부각된 사례입니다.'라는 말은 틀리지 않았다. 따라서 병은 축적성을, 정은 전체성을, 무는 변동성을 배정 받았음을 알 수 있다.
- 먼저, 제시한 사례에 부각된 속성과 배정받은 속성을 정리해보자.

	제시한 사례	배정받은 속성
갑	?	A
을	?	B
병	(가)	축적성
정	(나)	전체성
무	(다)	변동성

- 갑과 정은 각각 배정받은 속성이 부각된 사례를 옳게 제시하였으므로 (나)는 전체성이 부각된 사례임을 알 수 있으며, 갑은 공유성이 부각된 사례를 제시하였으므로 A는 공유성임을 알 수 있다. 따라서 B는 학습성이다.
- 을은 무가 배정받은 속성, 즉, 변동성이 부각된 사례를 제시하였고, 병은 학습성이 부각된 사례를 제시하였다. 따라서 (가)는 학습성이 부각된 사례이다.
- 또한, 무는 병이 배정받은 속성인 축적성이 부각된 사례를 제시하였다. 따라서 (다)는 축적성이 부각된 사례이다.
- 3~5번을 정리하면 다음과 같다.

	제시한 사례	배정받은 속성
갑	공유성	공유성
을	변동성	학습성
병	학습성	축적성
정	전체성	전체성
무	축적성	변동성

[Explanation]

- A는 공유성이다. 문화가 시간이 지남에 따라 변화하는 것은 학습성(=B)에 대한 설명이다.
- B는 학습성이다. 사회 구성원이 문화를 후천적으로 습득하는 것은 학습성에 대한 설명이다.
- (가)에는 학습성이 부각된 사례가 들어가야 한다. '어릴 적 자전거 타는 방법을 부모에게 배워 능숙하게 자전거를 탈 수 있게 된 것'은 학습성이 부각된 사례이므로 (가)에 들어갈 수 있다.
- (나)에는 전체성이 부각된 사례가 들어가야 한다. '기존의 자전거에 변속기가 추가되고 충격 흡수 장치가 더해지는 것'은 축적성이 부각된 사례이므로 (나)에 들어갈 수 없다.
- (다)에는 축적성이 부각된 사례가 들어가야 한다. '자전거 이용자가 늘어나자 기업이 자전거를 이용하는 공유 경제 상품을 개발하고, 정부가 전용 도로를 건설하는 것'은 전체성이 부각된 사례이므로 (다)에 들어갈 수 없다.

053

1

갑이 제시한 사례에는 문화의 공유성의 사례가, 을이 제시한 사례에는 문화의 공유성과 총체성의 사례가 드러난다.

갑, 을 모두 잘 발표했다는 점으로 미루어 보아, 문화의 속성 A는 공유성이고, B는 총체성이다.

- ② 문화가 후천적으로 학습됨을 의미하는 것은 문화의 학습성이다.
- ③ 문화가 구성원들의 사고와 행동에 동질성을 갖게 한다는 것은 문화의 공유성이다.
- ④ (가)에는 문화의 공유성과 관련된 설명이 들어가야 한다. '각 부분이 유기적으로 결합된 하나의 전체'는 문화의 총체성과 관련된 설명이다.
- ⑤ (가)에는 문화의 공유성과 관련된 설명이 들어가야 한다. '시간이 흐르면서 그 형태나 내용이 변화됨'은 문화의 변동성과 관련된 설명이다.

054

1

[Analysis]

1. 을과 병은 해당 속성에 대한 사례 조사를 옮겨 하였다. 을의 발표에서 '과거와 현재의 국어사전을 비교했을 때 원래 단어에 새로운 의미가 추가 되어 더욱 풍부해진 것을 통해 C를 확인 할 수 있었다'고 하였으므로 C는 **축적성**이다. 또한, 특정 세대가 원래 단어에 새로운 의미를 부여하여 그들끼리 사용하는 것은 무가 발표한 B로도 설명이 가능하다고 하였으므로 B는 **공유성**이고, 무는 **공유성이 부각된 사례를 발표**하였다.
2. 병의 발표에서 '일본인의 감정 절제는 어린 시절 부터 이루어지는 지속적인 훈육의 결과'라는 점은 D를 통해 설명할 수 있다'고 하였으므로 D는 **학습성**이다.
3. 따라서 남은 A는 **변동성**이고 정은 **변동성이 부각된 사례를 발표**하였다.

[Explanation]

- ② 문화가 경험과 상징을 통해 후천적으로 학습됨을 의미하는 속성은 D(학습성)이다.
- ③ 갑이 선택한 문화의 속성은 전체성이다. 시간의 흐름에 따라 기존 문화 요소가 사라지거나 변화함을 의미하는 속성은 전체성이 아닌 변동성이다.
- ④ 정이 발표한 문화의 속성은 변동성이다. 문화가 세대를 전승하며 더욱 풍부해짐을 의미하는 속성은 변동성이 아닌 축적성이다.
- ⑤ 무가 발표한 문화의 속성은 공유성이다. 문화의 각 요소들이 상호 유기적으로 연결되어 있음을 의미하는 속성은 공유성이 아닌 전체성이다.

055

3

[Analysis]

1. 교사의 '부모 세대에서 만화방을 떠올린다고 했기 때문에 B가 부각된 것이 맞다.'라는 발화를 통해 B가 **공유성**임을 알 수 있다.
2. <1모듬>은 A를 배정받았고, 학습성이 부각된 사례를 제시했다.
3. <2모듬>은 B를 배정받았고, 공유성과 변동성이 부각된 사례를 제시했다.
4. <3모듬>은 C를 배정받았고, 변동성이 부각된 사례를 제시했다.
5. <4모듬>은 D를 배정받았고, 축적성이 부각된 사례를 제시했다.
6. 5가지를 모듬별로 서로 다르게 한 가지씩 배정하였다고 했으므로 <5모듬>은 E를 배정 받았음을 알 수 있다.
7. 교사의 '<2모듬>의 사례는 D로도 설명이 가능 하'다는 발화를 통해 D는 **변동성**임을 알 수 있다.
8. <3모듬>과 <4모듬>의 사례가 서로 바뀌어야 각 모듬에 배정된 속성이 부각되므로 C는 **축적성**이다.
9. <1모듬>은 <5모듬>에 배정된 속성이 부각된 사례를 발표하였으므로 E는 **학습성**이고, 나머지 A는 **전체성**이다.
10. 1~9를 정리하면 다음과 같다.

	배정 받은 모듬	속성
A	<1모듬>	전체성
B	<2모듬>	공유성
C	<3모듬>	축적성
D	<4모듬>	변동성
E	<5모듬>	학습성

[Explanation]

- ① 문화가 한 사회의 구성원의 공통된 생활 양식이라는 것을 의미하는 속성은 B(공유성)이다.
- ② 문화가 세대 간 전승되면 더욱 발전되고 풍부해지는 것을 의미하는 속성은 C(축적성)이다.
- ④ <2모듬>에 배정된 속성 B는 공유성, <5모듬>에 배정된 속성 E는 학습성이다.
- ⑤ 문화가 상징을 통해 후천적으로 학습된다는 것을 의미하는 속성은 E(학습성)이다. E는 <5모듬>에 배정되었다.

056

1

㉠은 문화 상대주의이다.

- ㉠. 문화 상대주의에 대한 설명이다.
- ㉡. 문화 상대주의에 대한 설명이다.
- ㉢. 자문화 중심주의에 대한 설명이다.

057

2

갑은 문화 상대주의, 을은 자문화 중심주의, 병은 문화 상대주의적 태도를 가지고 있다.

- ① 을의 태도는 선진 문물 수용에 소극적이라는 비판을 받는다.
- ③ 갑, 을의 태도는 특정 문화를 기준으로 타 문화를 평가한다는 비판을 받는다.
- ④ 을의 태도는 타 문화와의 마찰을 일으킬 수 있다는 비판을 받는다.
- ⑤ 갑의 태도는 자기 문화의 정체성을 상실할 수 있다는 비판을 받는다.

058

4

갑은 문화 상대주의, 을은 자문화 중심주의, 병은 문화 상대주의적 태도를 가지고 있다.

- ① 을의 태도는 선진 문물 수용에 적극적이지 않다는 비판을 받는다.
- ② 갑의 태도는 자국의 문화 정체성을 약화한다는 비판을 받는다.
- ③ 갑의 태도는 문화 제국주의로 나아갈 수 있다는 비판을 받는다.
- ⑤ 갑, 을의 태도는 모두 특정 문화를 기준으로 문화 간 우열을 가린다는 비판을 받는다.

059

5

(가)에는 문화 상대주의에 대한 내용이 들어가야 한다.

- ①, ② 자문화 중심주의와 문화 상대주의의 공통적인 특징에 대한 내용이다.
- ③ 문화 상대주의에 대한 내용이다.
- ④ 자문화 중심주의에 대한 내용이다.

060

4

(가)에는 문화 상대주의에 대한 내용이 들어가야 한다.

- ① ㉠은 문화의 보편성을 나타낸다.
- ② ㉡에서 '문화'는 넓은 의미의 문화이다.
- ③ ㉢과 ㉣ 모두 비물질문화에 해당한다.
- ④ ㉢과 ㉣ 같은 태도는 자문화 중심주의이다. 자문화 중심주의는 국수주의로 변질될 수 있다는 비판을 받는다.
- ⑤ '자기 문화를 낮추고 타 문화의 우수성을 동경'한다는 것은 문화 상대주의에 대한 설명이다. 따라서 (가)에 들어갈 수 없다.

061 4

㉠은 1950년대에 사회 전반적인 풍토, 즉, 주류문화였으나 1960년대 후반에 들어 하위 문화로 바뀌었다.

㉡은 1960년대 후반에는 주류문화(㉠)에 저항하는 반문화적 성격을 띠었으나 1970년대에 접어들며 주류문화로 바뀌었다.

- ㄱ. 1950년대 독일 사회에서 ㉠은 주류문화이다.
- ㄴ. 젊은 세대가 공유했다가 독일 사회의 지배적인 기억 문화가 되어갔다는 문장을 통해 ㉡은 독일 사회의 세대문화이었다 가 주류문화가 되었음을 알 수 있다.

062 5

A는 하위문화, B는 주류문화, C는 반문화이다.

- ① A와 B 모두 시대에 따라 상대적으로 규정된다.
- ② C는 B와 달리 문화 다양성 증가에 기여한다.
- ③ A, B, C 모두 한 사회에서 공존할 수 있다.
- ④ A, B, C 모두 해당 문화를 향유하는 구성원의 정체성 강화에 기여한다.

063 3

①, ②, ④, ⑤에 해당하는 내용 모두 제시된 글에서 찾을 수 없다.

064 1

A는 하위문화, B는 주류문화, C는 반문화이다.

- ② 하위문화와 반문화의 총합이 주류문화가 되지는 않는다.
- ③ A와 B 모두 해당 문화를 향유하는 구성원들의 유대감 형성에 기여한다.
- ④ 한 사회의 지배적인 문화에 저항하거나 대립하는 문화는 반문화이다.
- ⑤ ㉠에서 ㉡으로의 변화는 하위문화가 주류문화로 변한 사례이다.

065 5

- ① ㉠은 지배 세력에 반발하였다는 내용과 무관하다.
- ② ㉡은 주류 문화가 하위문화로 변한 사례가 아니다.
- ③ 문화 지체는 물질문화와 비물질문화 간의 차이가 생기는 현상이다. ㉡에는 물질문화가 나타나지 않는다.
- ④ ㉢은 지역문화가 주류문화에 대한 사례가 아니다.
- ⑤ A에만 국한되어 있던 손을 잘 씻는 문화가 갑국 전체로 보편화되었다는 사례이므로 ㉡은 지역문화였던 하위문화가 주류문화로 변한 사례이다.

066 2

①, ③, ④, ⑤에 해당하는 내용 모두 제시된 자료에서 찾을 수 없다.

067 2

- ① 두 번째 사례에서만 도출할 수 있다.
- ③ 두 사례 모두에서 도출할 수 없다.
- ④ 첫 번째 사례에서만 도출할 수 있다.
- ⑤ 두 사례 모두에서 도출할 수 없다.

068 2

①, ③, ④, ⑤에 해당하는 내용 모두 제시된 글에서 찾을 수 없다.

069 4

[Analysis]

- 1. (가)에는 직접 전파와 문화 융합이 드러나 있고, (나)에는 직접 전파와 문화 동화가 드러나 있다.
- 2. (가)와 (나) 모두 직접 전파로 인한 외재적 변동이 드러나 있으므로 **같은 옳은 설명**을 하고 있다.
- 3. 기존의 문화가 외래문화와 결합하여 새로운 문화가 나타나는 것은 문화 융합이다. 문화 융합은 (나)와 달리 (가)에 나타나 있다. 따라서 **옳은 틀린 설명**을 하고 있다.
- 4. 교사가 두 사람만 옳게 발표했다고 했으므로 **병은 옳은 설명을 해야 한다.**

[Explanation]

- ① (가)의 문화 변동 요인은 직접 전파이다.
- ② (나)에서는 (가)와 달리 자문화의 정체성이 상실되었다.
- ③ (가)에서는 (나)와 달리 문화 다양성이 증대되었다.
- ⑤ ㉠에는 (나)의 문화 변동 요인은 간접 전파입니다. 가 들어갈 수 없다.

070 5

[Analysis]

- 1. A국 영화인들은 영화 산어빙 발달한 B국 영화인에게 영화 제작 기법 및 특수 효과 기술을 배워 왔다. > **B국의 물질 문화(기술)가 B국에서 A국으로 직접 전파**되었다.
- 2. '그 후 A국에서 자국의 전통적 정서와 B국의 특수 효과 기술이 섞인 새로운 영화 장르가 탄생했다.' > **A국에서 자국의 문화와 B국의 문화가 합쳐져 문화 융합**이 일어났다.
- 3. '한편, B국 어업인들이 조업 활동 중 ~ B국에 C국 라면이 처음 전해졌다.' > **C국의 물질 문화(음식)가 C국에서 B국으로의 직접 전파**되었다.
- 4. '이후 B국 요리사가 C국 라면에 자국의 전통 소스를 가미해 국물이 없는 비빔 라면을 개발하였다.' > **B국에서 자국의 문화와 C국의 문화가 합쳐져 문화 융합**이 일어났다.
- 5. 'B국의 비빔 라면 조리 방식은 인터넷을 통해 C국 젊은이들에게까지 확산되었다.' > **B국의 물질 문화(음식 조리법)가 B국에서 C국으로의 간접 전파**되었다.
- 6. 결론적으로, **A국은 물질 문화의 직접 전파로 인한 문화 융합**이 일어났고, B국 역시 **물질 문화의 직접 전파로 인한 문화 융합**이 일어났으며 C국은 **물질 문화의 간접 전파**가 일어났고, **문화 변동으로 인한 결과는 알 수 없다.**

[Explanation]

- ① A국과 B국 모두 문화 융합이 나타났다.
- ② 문화 접변은 외부 요인에 의한 문화 변동, 즉, 직접 전파와 간접 전파, 자극 전파를 일컫는 용어이다. 따라서 A국과 B국 모두 문화 접변(직접 전파)이 나타났다.
- ③ 제시된 글에서 문화 공존이 나타난 것이 드러난 국가는 없다.
- ④ A국과 B국 모두 직접 전파가 나타났다. 간접 전파는 C국에서 나타났다.
- ⑤ A국으로 들어온 특수 효과 기술, B국으로 들어온 C국의 라면, C국으로 들어온 B국의 비빔라면 조리 방식 모두 물질문화이다.

071 1

[Analysis]

- 1. 1모둠은 문화 공존이 나타난다.
- 2. 2모둠은 자극 전파로 인한 문화 공존이 나타난다.
- 3. 3모둠은 문화 융합이 나타난다.
- 4. 4모둠은 간접 전파가 나타난다.

[Explanation]

- ② 4모듬이 작성한 내용에는 문화 융합이 나타나지 않는다.
- ③ 1모듬이 작성한 내용에는 발명이 나타나지 않으며, 2모듬이 작성한 내용에도 직접 전파가 나타나지 않는다.
- ④ 3모듬이 작성한 내용에는 문화 동화가 나타나지 않는다.
- ⑤ 1모듬과 작성한 내용에는 자극 전파가 나타나지 않는다.

072 5

- ① ㉠을 발명이라 보기 어려울뿐더러, 단순히 식물을 채집하는 행위를 발견이라고 보기도 어렵다. ㉠은 발견이 아닌 발명에 해당한다.
- ② ㉡은 직접 전파에 해당한다.
- ③ 타 문화를 천시하는 것은 자문화 중심주의적 태도이다. 따라서 ㉢은 유럽인들의 자문화 중심주의적 태도를 보여준다.
- ④ ㉣에서 강제성이 드러나지 않는다. 따라서 ㉣은 자발적 문화 접변에 해당한다.

073 5

- ① (가)에서는 강제적 문화 접변의 결과로 문화 동화가 나타났다.
- ② (나)에서는 발명에 의한 문화 변동이 나타나지 않았다. (나)에 드러난 문화 변동의 양상은 직접 전파뿐이다.
- ③ (가)와 (나)에서는 모두 자극 전파에 의한 문화 변동이 나타나지 않았다.
- ④ 문화의 정체성이 상실되는 문화 변동의 결과는 문화 동화이다. (나)와 달리 (가)에서는 문화 동화가 나타났다.

074 3

- ① 갑이 작성한 내용에는 문화 동화가 나타나지 않는다.
- ② 을이 작성한 내용에는 문화의 내재적 변동만 나타날 뿐, 문화 접변 자체가 나타나지 않는다.
- ③ C국 유명 요리사가 자국의 전통 디저트를 판매하는 카페를 A국에 차렸다는 내용을 통해 병이 작성한 내용에는 직접 전파가 나타남을 확인할 수 있다.
- ④ B국의 고급 초콜릿이 A국에서 다수가 좋아 하는 디저트가 되었다는 내용을 통해 갑이 작성한 내용에는 문화 공존이 나타남을 확인할 수 있고, C국 유명 요리사가 A국에 차린 디저트 카페가 SNS를 통해 A국 사람들 에게 공유되며 이 디저트가 A국의 새로운 음식 문화로 정착되었다는 내용을 통해 병이 작성한 내용에도 문화 공존이 나타남을 알 수 있다. 하지만, 을이 작성한 내용에는 문화의 외재적 변동, 즉, 문화 접변이 나타나지 않으므로 문화 공존 역시 나타나지 않는다.
- ⑤ 갑, 을, 병이 작성한 내용 모두 문화 융합이 나타나지 않는다.

075 2

제시된 글에서 도출할 수 있는 사회 불평등 현상을 바라보는 필자의 관점은 갈등론이다.

ㄴ, ㄹ. 기능론에 대한 설명이다.

076 4

[Analysis]

1. 'A와 달리 B는 희소 자원의 차등 분배가 개인의 성취동기에 긍정적으로 작용한다고 본다.' 라는 진술에 대한 '참'이라는 진위 판단이 '0점'을 부여받았으므로 **위의 진술은 거짓이다.**
2. 희소 자원의 차등 분배가 개인의 성취동기에 긍정적으로 작용한다고 보는 사회 불평등 현상을 바라보는 이론은 기능론이다. 따라서 **A는 기능론이고, B는 갈등론이다.**
3. (가)에 기능론에서 더 부각되는 진술이 들어가면 ㉠은 '0점', 갈등론에서 더 부각되는 진술이 들어가면 ㉠은 '1점'이다.

[Explanation]

- ㄱ. 기능론은 직업 유형 간 사회적 중요도의 차이가 있다고 본다.
- ㄴ. 개인의 귀속적 요인이 사회 불평등에 미치는 영향력을 중시하는 이론은 갈등론이다. 따라서 (가)에 위의 진술이 들어간다면 ㉠은 '1점'이다.
- ㄷ. 사회적 희소가치의 분배 기준은 사회 전체가 합의한 것이라고 보는 이론은 기능론이다. 따라서 ㉠이 '1점'이라면, (가)에는 위의 진술이 들어갈 수 없다.

077 3

- ①, ④, ⑤ 사회적 소수자에 대한 설명이 아니다.
- ② 사회적 소수자에 대한 우대 정책에 대한 설명은 두 사례 모두 드러나지 않는다.

078 5

- ① A는 B 모두 권력의 열세로 인해 차별받지 않았다.
- ② B는 A와 달리 여러 사회적 소수자 집단에 중첩되어 속해있다.
- ③ A와 B 모두 고정 관념으로 인해 차별의 대상이 되었다고 볼 수 있다.
- ④ A와 B 모두 식별 가능성으로 인해 차별의 대상이 되었다고 볼 수 있다.
- ⑤ A는 노인이라는 귀속적 특성으로, B는 주류 집단과는 다른 민족·인종·국적이라는 귀속적 특성으로 인해 차별받았다.

079 1

- ② ㉠에 비해 ㉡은 정치권력의 열세에 놓여 있다.
- ③ ㉠에 비해 ㉡은 경제적 자원 획득에서 불리한 위치에 있다.
- ④, ⑤ 제시된 자료에 드러나지 않는다.

080 3

- ㄱ. 갑은 적극적 우대 조치로 인해 역차별을 받는 집단에 속해있지 않다.
- ㄴ. 갑은 여성이라는 이유로 근로 조건에서 차별을 당하고, 외국인이라는 이유로 시험 접수를 거부 당했다. 이를 통해 갑은 여러 사회적 소수자 집단에 속해 다양한 차별을 받았음을 알 수 있다.
- ㄷ. ㉠은 사회적 소수자에게 A국 국민과 동등한 권리를 부여해야 된다고 인식하고 있다.

081 3

- ① ㉠은 갑의 사회화라고 보기 어렵다.
- ② ㉡은 갑이 이주를 해야 할지 말지에 대한 고민 이므로 역할 갈등이 아니다.
- ③ 갑은 A족이라는 생득적 요인에 따른 차별과 장애인이라는 후천적 요인에 따른 차별을 모두 경험하였다.
- ④ A족과 B족 모두 수적인 열세로 인한 차별을 받지 않았다.
- ⑤ A족은 사회적 소수자 우대 정책이 아닌 B족의 인종 차별 정책으로 인한 차별을 받았다.

082 2

글에 제시된 빈곤은 상대적 빈곤이다. 따라서 ㉠은 O, ㉡은 X이다.

- ㄱ. ㉠과 ㉡에 해당하는 채점 결과는 다르다.
- ㄴ. (가)에는 상대적 빈곤에 대한 옳은 설명이 들어가야 한다. '우리나라에서는 최저 생계비를 기준으로 빈곤선이 결정된다.'라는 절대적 빈곤에 대한 설명이므로 (가)에 들어갈 수 있다.
- ㄷ. (나)에는 상대적 빈곤에 대한 틀린 설명이 들어가야 한다. '개인이 주관적으로 빈곤하다고 인식하는 상태를 의미한다.'라는 주관적 빈곤에 대한 설명이므로 (나)에 들어갈 수 있다.

083

5

A는 절대적 빈곤, B는 상대적 빈곤이다.

- ① A는 상대적 박탈감이라는 사회 문제를 유발할 수 있다.
- ② 우리나라에서 가구 소득이 중위 소득에 미치지 못하는 가구는 모두 A 가구이다.
- ③ B는 A와 달리 사회 구성원의 소득 분포에 따라 상대적으로 규정된다.
- ④ A와 B 모두 경제 성장을 통해 해결할 수 있다.
- ⑤ 상대적 빈곤선이 절대적 빈곤선보다 높으면 상대적 빈곤에 해당하는 사람이 더 많다는 의미이므로 A에 해당하는 모든 가구는 B에 해당한다.

084

5

제시된 글은 진화론에 대한 설명이다.

ㄱ, ㄴ은 순환론에 대한 설명이다.

085

1

(가)는 순환론, (나)는 진화론이다.

- ② (가)는 사회 변동이 항상 발전을 의미하는 것은 아니라고 본다.
- ③ (나)는 (가)와 달리 서구 사회가 가장 진보한 사회임을 전제한다.
- ④ (가)는 (나)와 달리 사회가 주기적으로 동일한 과정을 반복하며 변동한다고 본다.
- ⑤ (가)는 단기적 사회 변동을 설명하기에 적합하다고 할 수 없다. (나)는 장기적 사회 변동을 설명하기에 적합하다.

086

3

(가)는 순환론, (나)는 진화론이다.

- ① (가)는 장기적인 사회 변동의 과정을 설명할 수 있다.
- ② (나)는 단선적인 사회 변동의 과정을 설명할 수 있다.
- ④ (가)는 (나)와 달리 과거에 비해 진보한 사회를 설명하기 어렵다.
- ⑤ (가)는 숙명론적 사고라는, (나)는 서구 중심적 사고라는 비판을 피하기 어렵다.

087

3

A는 순환론, B는 진화론이다.

- ① ㉠은 과거 질서로 회귀하려는復古적 운동이 아니라 사회 내에서 특정 부분에 대한 변화를 추구하는 개혁주의 운동이다.
- ② 사회 변동이 주기적으로 동일한 과정을 반복한다고 보는 것은 B(진화론)가 아닌 A(순환론)이다.
- ④ 갑은 ㉠과 ㉡ 모두 B(진화론)의 관점에서 해석하고 있다.
- ⑤ (가)에는 진화론에 대한 설명이 들어가야 한다. '모든 사회 변동이 항상 진보를 의미하지는 않는다'는 순환론에 대한 설명이므로 (가)에 들어갈 수 없다.

088

4

제시된 글에 드러난 필자의 관점은 순환론이다.

ㄱ, ㄴ은 진화론에 대한 설명이다.

089

2

제시된 글에 드러난 필자의 관점은 진화론이다.

ㄴ, ㄹ은 순환론에 대한 설명이다.

090

2

- ① ㉠은 일반 시민이 주도한 사회 운동이다.
- ③ ㉠과 ㉡ 모두 사회 변화에 저항하고 과거 질서로 회귀하려는 사회 운동이 아니다.
- ④ ㉠과 ㉡ 모두 특정 집단 구성원의 삶의 질 향상을 목표로 하는 사회 운동이 아니다.
- ⑤ ㉢은 모두 사회 체제의 전면적인 변혁을 추구하는 사회 운동이 아니다.

091

1

[Analysis]

1. 교과서에서 정의하는 사회 운동의 특징은 세 가지가 있다. 첫째, 체계적인 조직을 갖추고 있고, 둘째, 뚜렷한 목표와 이념, 구체적인 활동 계획을 가지고 있으며, 셋째, 지속적이고 조직적으로 활동을 한다. 이 세가지 특징이 모두 드러나야 사회 운동이라고 할 수 있다.
2. (가)에는 환경 단체의 다양한 캠페인 활동이 드러나 있다. 이는 조직을 갖추고 있으며 뚜렷한 목표와 이념을 가지고 조직적인 활동을 하고 있으므로 사회 운동이라고 볼 수 있다.
3. (나)에는 음주 운전 사고로 사망한 연예인을 추모하면서 음주 운전 처벌을 강화를 요구하는 활동이 드러나 있다. 그러나 이는 뚜렷한 목표가 있다고 볼 수는 있지만 조직을 갖추고 있지 않고, 활동을 한 건 맞으나 이것이 조직적인 활동이라고 보기도 어렵다. 따라서 사회 운동이라고 볼 수 없다.
4. (다)에는 대통령 후보가 선거 공약을 내세우는 행동이 드러나 있다. 그러나 이는 뚜렷한 목표가 있지만 조직을 갖추고 있지 않고, 선거 공약을 내세우기만 했을 뿐 행동을 했다고 보기 어렵다. 따라서 사회 운동이라고 볼 수 없다.
5. (라)에는 노동조합이 반대 서명을 받고 있는 모습이 드러나 있다. 이는 조직을 갖추고 있으며 뚜렷한 목표와 이념을 가지고 조직적인 활동을 하고 있으므로 사회 운동이라고 볼 수 있다.
6. 1에 따라 2~5를 정리하면 다음과 같다.

	(가)	(나)	(다)	(라)
체계적 조직	○	X	X	○
뚜렷한 목표	○	○	○	○
지속적이고 조직적 활동	○	X	X	○
사회 운동	○	X	X	○

[Explanation]

- ㄱ. 탄소 중립을 실현시키기 위함이라는 뚜렷한 목표와 다양한 캠페인을 통해 활동한다는 실행 방법이 제시되어 있으며, 꾸준히 하고 있다는 점에서 지속적으로 활동을 수행하였다. 따라서 사회 운동이라고 볼 수 있다.
- ㄴ. 목표는 있으나 추모를 위해 일시적으로 모인 사람들의 행동이라는 점에서 조직을 갖추고 있지 않기에 사회 운동이라 볼 수 없다.
- ㄷ. 기존 사회의 부조리를 해소하고 개혁을 추구하였다는 공약을 내세웠을 뿐 실행하지 않았기 때문에 사회 운동이라고 볼 수 없다.
- ㄹ. 특정 집단의 이익만을 추구하는 것도 사회 운동이라고 볼 수 있다.

092

2

- ① ㉠은 세대 간 통합을 추구하는 체계적인 사회 운동이 아니다.
- ③ ㉡은 ㉠과 달리 사회적 약자의 권리 보장을 목적으로 하는 사회 운동이다.
- ④ ㉢은 비대면 방식을 활용하는 사회 운동이 아니다.
- ⑤ ㉠과 ㉡은 모두 변화를 거부하고 과거 질서로 되돌아가려는 사회 운동이 아니다.

093

4

- ㄱ. ㉠은 주류 사회에 대한 반감과 도덕적 분노로 인한 집회이므로 반문화이다.
- ㄴ. ㉡은 남성들은 순응하였다는 내용과, 여성들 역시 초기에는 이를 의식하지 않다가 시간이 흐르자 이에 대한 문제 제기를 이루었다는 점에서 다수의 사회 구성원이 전반적으로 공유하는 문화임을 알 수 있다.
- ㄷ. ㉢은 차별에 대한 현재의 사회 문제를 해결하기 위한 사회 운동이므로 현재의 사회 질서를 유지하고자 하는 사회 운동이 아니다.
- ㄹ. ㉣은 여성 차별을 문제를 해결하기 위한 사회 운동이므로 불평등한 사회 구조를 개혁하기 위한 사회 운동이다.

094

5

- ① ㉠은 급격한 사회 변동에 저항하기 위해 펼치는 사회 운동이 아니다.
- ② ㉡은 식량 자원 확보를 위한 국가 간 경쟁과 무관하다.
- ③ ㉢은 ○○ 다국적 기업의 이윤 추구로 인해 저개발국의 영아 건강에 부정적 영향을 끼친 것이므로 ○○ 다국적 기업의 이윤 추구를 정당화하는 근거가 될 수 없다.
- ④ ㉣은 사회 체제의 전면적인 변혁을 추구하는 사회 운동이 아닌 한 기업의 윤리적 책임을 요구하는 사회 운동이다.

095

1

- A는 산업 사회, B는 정보 사회이다.
(가)에는 정보 사회보다 산업 사회에서 더 높게 나타나는 특징이 들어가야 한다.
- ② B는 A에 비해 의사 결정의 분권화 정도가 높다.
 - ③ B는 다품종 소량 생산, A는 소품종 대량 생산이 지배적이다.
 - ④ B는 지식과 정보, A는 자본과 노동이 부가 가치의 주요 원천이다.
 - ⑤ '정보의 생산자와 소비자 간 구분의 명확성 정도'는 산업 사회에서 더 두드러진다. 따라서 (가)에 들어갈 수 있다.

096

1

- A는 산업 사회, B는 정보 사회이다.
㉠이 '0점'일 경우, (가)에는 정보 사회에서 더 높게 나타나는 특성을, '1점'일 경우, (가)에는 산업 사회에서 더 높게 나타나는 특성이 들어가야 한다.
- ㄴ. '사회의 다원화 정도'는 정보 사회에서 더 높게 나타나는 특성이므로 (가)에 '사회의 다원화 정도'가 들어간다면, ㉠은 '0점'이다.
 - ㄷ. '가정과 일터의 결합 정도'는 정보 사회에서 더 높게 나타나는 특성이므로 ㉠이 '0점'이라면, (가)에는 '가정과 일터의 결합 정도'가 들어갈 수 있다.

097

4

①, ②, ③, ⑤에 해당하는 내용 모두 제시된 글에서 찾을 수 없다.

098

5

- (가)에는 정보화 시대에서의 긍정적 측면에 해당하는 내용이, (나)에는 정보화 시대에서의 부정적 측면에 해당하는 내용이 들어가야 한다.
- ①, ② 정보화 시대의 부정적 측면에 대한 내용이다.
 - ③, ④ 정보화 시대의 긍정적 측면에 대한 내용이다.

099

5

①, ②, ③, ④ 모두 필자가 강조하는 세계화의 문제점으로 보기 어렵다.

PART II

100

4

[Analysis]

1. 조부모 세대의 계층 구조가 피라미드형이므로 가장 많은 비중을 차지하는 C가 **하층**, A는 **중층**, B는 **상층**이다.
 2. 이를 토대로 각 세대의 계층 비율을 정리하면 다음과 같다.
- | | 조부모 | 부모 | 자녀 |
|------|-----|----|----|
| B 상층 | 10 | 20 | 30 |
| A 중층 | 20 | 50 | 20 |
| C 하층 | 70 | 30 | 50 |
3. 따라서 **부모 세대는 다이아몬드형, 자녀 세대는 모래시계형**이다.
 4. 각 세대의 인구는 동일하다.

[Explanation]

- ㄱ. 조부모 세대에서 하층 인구(70)는 상층 인구(10)의 7배이다.
- ㄴ. 상층 인구는 조부모(10), 부모(20), 자녀(30) 세대로 갈수록 증가한다.
- ㄷ. 부모 세대의 계층 구조는 조부모 세대의 계층 구조에 비해 사회 통합에 유리하다.

101

3

[Analysis]

1. 모래시계형 계층 구조에서는 A의 비율이 가장 낮으므로 A는 **중층**이다.
2. 을국은 A인 중층의 비율이 가장 낮고, 병국은 가장 높다. 따라서 **을국은 모래시계형 계층 구조를, 병국은 다이아몬드형 계층 구조를** 가진다.
3. 그러므로 **갑국은 피라미드형 계층 구조를** 가지게 되며, B는 **상층**, C는 **하층**이 된다.
4. 이를 토대로 국가별 계층 비율을 정리하면 다음과 같다.

	갑국	을국	병국
B 상층	20	30	20
A 중층	30	20	50
C 하층	50	50	30

5. 각 국가별 인구수가 같다고 볼 수 없다.

[Explanation]

- ㄱ. 폐쇄적 계층 구조 여부를 판단할 수 없다.
- ㄴ. 병국의 계층 구조는 다이아몬드형, 을국의 계층 구조는 모래시계형이다. 따라서 병국의 계층 구조는 을국의 계층 구조에 비해 사회 안정성이 높다.
- ㄷ. 근대 이후의 산업 사회에서 주로 나타나는 계층 구조는 다이아몬드형 계층 구조이다.

102

5

[Analysis]

1. C에서 A로의 이동은 하강 이동, C에서 B로의 이동은 상승 이동이므로, C는 **중층**이 되고, A는 **하층**, B는 **상층**이 된다.
2. 제시된 자료의 점 한 개당 1명이라고 할 때, 자료를 재구성하면 다음과 같다.

<갑국>		부모 세대			
		상층	중층	하층	합계
자녀 세대	상층	2	0	4	6
	중층	1	2	3	6
	하층	1	3	2	6
	합계	4	5	9	18

<을국>		부모 세대			
		상층	중층	하층	합계
자녀 세대	상층	2	3	1	6
	중층	1	1	2	4
	하층	1	6	3	10
	합계	4	10	6	20

3. 이때, **갑국의 부모 세대는 피라미드형, 을국의 부모 세대는 다이아몬드형, 을국의 자녀 세대는 모래시계형** 계층 구조를 보인다.

[Explanation]

- ① 완전 평등 계층 구조란, 모든 인구가 상층 또는 중층 또는 하층인, 즉, 모두 같은 계층인 구조를 의미한다. 갑국의 자녀 세대는 각 계층별 인구수만 동일할 뿐 모든 인구가 같은 계층에 속하지 않는다.
- ② 을국의 자녀 세대에서 중층인 사람의 수(4)는 갑국의 부모 세대에서 상층인 사람의 수(4)와 같다.
- ③ 갑국은 을국과 달리 부모 세대 중층에서 세대 간 상승 이동이 발생하지 않았다.
- ④ 갑국은 계층 이동이 발생하였으므로 개방적 계층 구조라고 볼 수 있으나, 을국 역시 계층 이동이 발생하였으므로 을국은 폐쇄적 계층 구조라고 볼 수 없다.

103

4

[Analysis]

1. C에서 A로의 이동은 상승 이동, C에서 B로의 이동은 하강 이동이므로 A는 **상층**, B는 **하층**, C는 **중층**이다.
2. 갑국~병국의 총인구가 같으므로 세 국가의 총인구를 100명이라 가정하고 제시된 자료를 표로 재구성하면 다음과 같다.

		(단위 : 명)		
		갑국	을국	병국
상층		10	20	10
중층		30	10	60
하층		60	70	30

3. 이때, **갑국은 피라미드형, 을국은 모래시계형, 병국은 다이아몬드형** 계층 구조가 나타난다.

[Explanation]

- ① 을국의 계층 구조는 모래시계형이다.
- ② 갑국의 상층 인구(10)는 을국의 상층 인구(20)보다 적다.
- ③ 중층 인구 대비 하층 인구의 비율은 갑국($60/30=2$)이 병국($30/60=0.5$)보다 낮다.
- ④ 피라미드형, 모래시계형, 다이아몬드형 계층 구조 중, 다이아몬드형 계층 구조가 사회 안정성이 가장 높다.
- ⑤ 세대 내 이동이나 세대 간 이동이 활발한지는 제시된 자료로는 알 수 없다.

104

3

갑이 속한 국가가 피라미드형 계층 구조이므로 가장 비율이 높은 B가 **하층**, 두 번째로 비율이 높은 A가 **중층**, 가장 비율이 적은 C가 **상층**이다. 따라서 **을이 속한 국가는 다이아몬드형, 병이 속한 국가는 모래시계형 계층 구조**이다.

- ① 갑은 상층에서 중층으로, 을은 중층에서 하층으로 세대 간 이동을 하였다. 갑과 을 모두 세대 간 하강 이동을 하였다.
- ② 을과 병 모두 부모의 계층과 20년 전 본인 계층이 일치하지 않는다. 따라서 계층 대물림이 이루어지지 않았다.
- ③ 갑은 상층에서 중층으로 세대 간 이동을, 중층에서 하층으로 세대 내 이동을 하였고, 을은 중층에서 하층으로 세대 간 이동을, 하층에서 상층으로 세대 내 이동을 하였다. 따라서 갑과 을은 모두 세대 간 이동과 세대 내 이동을 하였다.
- ④ 을이 속한 국가는 다이아몬드형, 갑이 속한 국가는 피라미드형 계층 구조이다. 다이아몬드형 계층 구조는 피라미드형 계층 구조보다 계층 양극화로 인한 문제가 발생할 가능성이 낮다.
- ⑤ 병이 속한 국가는 모래시계형, 을이 속한 국가는 다이아몬드형 계층 구조이다. 모래시계형 계층 구조보다 다이아몬드형 계층 구조가 사회 통합에 유리한 계층 구조이다.

[Analysis]

- 1970년 갑의 부모 계층은 상층이므로 B는 상층이다.
- 갑의 세대 간 이동과 세대 내 이동은 모두 하강 이동이고, 계층 상층, 중층, 하층 세 가지로만 구분하므로 갑은 1970년 상층, 2000년 중층, 2024년 하층임을 알 수 있다. 따라서 A는 중층, C는 하층이다.
- 이를 토대로 <자료 1>을 정리하면 다음과 같다.

(단위 : %)

	1970년	2000년	2024년
상층	10	20	20
중층	30	55	50
하층	60	25	30

- 따라서 □□국은 1970년에 피라미드형 계층 구조가, 2000년과 2024년에는 모두 다이아몬드형 계층 구조가 나타난다.
- <자료 2>에 나타난 갑~무의 사회 이동 결과를 정리하면 다음과 같다.

	1970년	2000년	2024년
갑	상층	중층	하층
을	중층	상층	상층
병	중층	하층	하층
정	상층	중층	중층
무	하층	하층	상층

[Explanation]

- 1970년 계층 구조는 피라미드형, 2000년 계층 구조는 다이아몬드형이다. 피라미드형 계층 구조는 다이아몬드형 계층 구조보다 사회 안정성이 낮다.
- 2024년도 다이아몬드형 계층 구조이다.
- 을은 세대 내 하강 이동을 하지 않았다.
- 정은 세대 간 하강 이동을 하였고, 세내 이동은 하지 않았다.
- 병은 중층에서 하층으로 세대 간 하강 이동을 하였고, 무는 하층에서 상층으로 세대 내 상승 이동을 하였다.

[Analysis]

- ㉠은 공공 부조의 성격을 띤다.
- 부부가구는 2인이라는 점을 잊지 말자. 리 선택지를 풀 때 자칫 함정에 빠져 틀릴 수 있다.
- 부부 가구의 수가 1인 가구의 수의 2배이다.
- 부부 가구 인구가 1인 가구 인구의 4배이다. (Analysis 2번 참고)
- 2~4번을 통해 상대적 빈곤 가구 수와 상대적 빈곤 인구를 구하면 다음과 같다.

형태	가구 수 (만 가구)	상대적 빈곤 가구 (만 가구)		
		시행 전	시행 후	
1인	100	50	25	20
부부	200	80	40	30

형태	인구 수 (만 명)	상대적 빈곤 인구 (만 명)		
		시행 전	시행 후	
1인	100	50	25	20
부부	400	160	80	60

[Explanation]

- 상호 부조의 원리를 바탕으로 하는 것은 사회 보험이다.
- 공공 부조는 은 사전 예방적 성격보다 사후 처방적 성격이 강하다.
- A안 시행 전후의 상대적 빈곤 가구 수 차이는 1인 가구(25만)가 부부 가구(40만)보다 작다.
- 상대적 빈곤에 해당하는 부부 가구 인구는 A안을 시행할 경우(80만)가 B안을 시행할 경우(60만)보다 20만 명 많다.

[Analysis]

- (가)는 공공 부조, (나)는 사회 보험이다.
- 제시된 연도의 남녀 인구는 1,000만명으로 모두 같다. 즉, 비율의 대소관계가 인구수와 일치한다.
- 제시된 그래프를 (가), (나)로 나누어 표로 재구성하면 다음과 같다.

	t	t+30
남성	15	30
여성	45	60
총 수급자 수	60	90

	t	t+30
남성	60	80
여성	40	80
총 수급자 수	100	160

[Explanation]

- 수급자에 대한 부정적 낙인이 발생할 수 있는 제도는 (가) 공공 부조이다. t년에 공공 부조의 남성 수급자 수(15)는 여성 수급자 수(45)의 1/3배이다.
- 수혜자 비용 부담 원칙이 적용되는 제도는 (나) 사회 보험이다. t년(100)에 비해 t+30년(160)에 사회 보험의 수급자 수는 60만 명 증가하였다.
- 상호 부조의 원리가 적용되는 제도는 (나) 사회 보험이고 강제 가입의 원칙이 적용되는 제도 역시 (나) 사회 보험이다. t년에 사회 보험의 수급자 중 남성 수급자 비율(100만 명 중 60만 명=60%)은 t+30년에 사회 보험의 수급자 중 여성 수급자 비율(160만 명 중 80만 명=50%)보다 높다.
- 사전 예방적 성격이 강한 제도는 (나) 사회 보험이고 사후 처방적 성격이 강한 제도는 (가) 공공 부조이다. t년에 갑국 인구 중 사회 보험의 수급자 비율(2,000만 명 중 100만 명=5%)은 t+30년에 갑국 인구 중 공공 부조의 수급자 비율(2,000만 명 중 90만 명=4.5%)보다 높다.

[Analysis]

1. A는 사회 보험, B는 공공 부조이다.
2. <표 1>에서 A의 수급자는 40%이고, A와 B를 동시에 수급하는 사람은 8%이므로 **A만 수급하는 사람은 40%에서 8%p를 뺀 32%**이다. B 역시 수급자는 15%이므로 **B만 수급하는 사람은 15%에서 8%p를 뺀 7%**이다. 이를 토대로 t년의 수급자 비율을 정리해보면 다음과 같다.

A만	A∩B	B만
32%	8%	7%

3. <표 2>는 t+30년의 t년 대비 증감률을 나타낸다. **A에만 해당하는 수급자는 2%p 증가했고, B에만 해당하는 수급자는 3%p 감소했고, A와 B의 중복 수급자는 8%p 증가했다.** 이를 토대로 t+30년의 수급자 비율을 정리해보면 다음과 같다.

A만	A∩B	B만
34%	16%	4%

4. 이때, t+30년의 **A 제도 수급자는 50%(34+16), B 제도 수급자는 20%(16+4)**인 것을 기억하자.
5. t년의 총인구를 100명이라 할 때, **t+30년의 총인구는 50% 증가하였으므로 150명**이다. 이를 정리하면 다음과 같다.

t년 (총인구 : 100명)		
A만	A∩B	B만
32%	8%	7%
32명	8명	7명

t+30년 (총인구 : 150명)		
A만	A∩B	B만
34%	16%	4%
51명	24명	6명

[Explanation]

- ① 부정적 낙인이 발생할 수 있는 제도는 공공 부조이다. t년에 전체 인구 중 공공 부조에만 해당하는 수급자 비율(7%)은 A와 B의 중복 수급자 비율(8%)보다 작다.
- ② 수혜자 비용 부담 원칙이 적용되는 제도는 사회 보험이다. t+30년에 사회 보험의 수급자 수(75)는 t년에 A나 B 어느 것도 받지 않는 비(非)수급자 수(53)보다 많다.
- ③ 강제 가입의 원칙이 적용되는 제도는 사회 보험이다. t+30년에 사회 보험에만 해당하는 수급자 수(51)는 A와 B의 중복 수급자 수(24)보다 많다.
- ④ t년에 사전 예방적 성격이 강한 제도(A)의 수급자 수(40)는 t+30년에 사후 처방적 성격이 강한 제도(B)의 수급자 수(30)의 4/3배이다.
- ⑤ t년 대비 t+30년에 A 수급자 수의 증가율(87.5%)은 B 수급자 수의 증가율(100%)보다 작다.

[Analysis]

1. (가)는 사회 보험, (나)는 공공 부조, (다)는 사회 서비스이다.
2. 먼저, <자료 2>에서 (나)의 수혜자 비율을 보자. A 지역의 수혜자 비율은 3%, B 지역의 수혜자 비율은 6%이고, 전체 수혜자 비율, 즉, 두 지역의 수혜자 비율 평균은 4%이다. 이때, A 지역과 전체 비율은 2%p 차이가 나고, B 지역과 전체 비율은 1%p 차이가 난다. 따라서 가중 평균의 원리에 의해 **A 지역의 인구가 B 지역 인구의 2배**라는 것을 알 수 있다.
3. 즉, A 지역의 인구가 B 지역 인구의 2배이므로 A 지역과 전체 비율의 차이를 a%p, B 지역과 전체 비율의 차이를 b%p라 할 때, a=2b가 되어야 한다.
4. 3번의 원리를 ㉠과 ㉡에 적용해 보자. 우선, ㉠의 경우, (가)의 B 지역 수혜자 비율이 8%이고, 전체 수혜자 비율이 10%이므로 ㉠은 전체 수혜자 비율보다 1%p 높아야 한다. 따라서 ㉠은 11이다.
5. ㉡의 경우, (다)의 A 지역 수혜자 비율은 10%이고, B 지역 수혜자 비율은 7%이므로 전체 수혜자 비율은 A 지역보다 1%p 낮고, B 지역보다 2%p 높아야 한다. 따라서 ㉡은 9이다.
6. 1~5를 바탕으로 A 지역의 인구수를 200명, B 지역의 인구수를 100명이라 가정하고, 갑국(가)~(다) 제도의 지역별 수혜자 비율과 수혜자 수를 재구성하면 다음과 같다.

	A 지역	B 지역	전체
사회 보험	11	8	10
공공 부조	3	6	4
사회 서비스	10	7	9

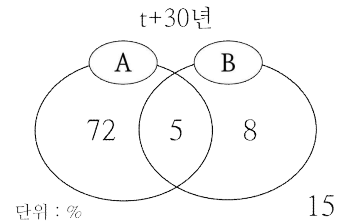
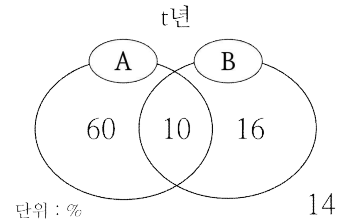
	A 지역	B 지역	전체
사회 보험	22	8	30
공공 부조	6	6	12
사회 서비스	20	7	27

[Explanation]

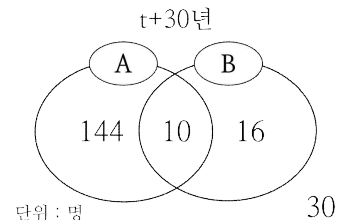
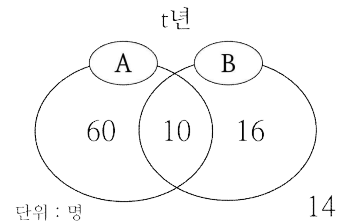
- ① ㉠은 11, ㉡은 9이다.
- ② 선별적 복지의 성격이 강한 제도는 공공 부조이다. 공공 부조의 수혜자 수는 A 지역(6)과 B 지역(6)이 서로 같다.
- ③ 사회 서비스의 수혜자 수는 A 지역(20)이 B 지역(7)의 3배보다 적다.
- ④ 급전적 지원을 원칙으로 하며 사전 예방적 성격이 강한 제도는 사회 보험이다. 사회 보험의 수혜자 수는 A 지역(22)이 B 지역(8)의 2배보다 많다.
- ⑤ 상호 부조의 원리가 적용되는 제도는 사회 보험이고, 소득 재분배 효과가 가장 큰 제도는 공공 부조이다. 갑국 전체에서 사회 보험의 수혜자 수(30)는 공공 부조의 수혜자 수(12)의 2배보다 많다.

[Anlysis]

1. A는 사회 보험, B는 공공 부조이다.
2. t년의 비(非)수급자 비율은 14%이다. 즉, A 제도와 B 제도 중 하나 이상의 혜택을 받는 수급자 수의 비율은 86%가 된다. 이때, **t년의 A 수급자 비율과 B 수급자 비율의 합은 96%**이므로 **A 제도와 B 제도의 혜택을 모두 받는 중복 수급자의 비율은 10%**이다.
3. t+30년의 비(非)수급자 비율은 15%이다. 즉, A 제도와 B 제도 중 하나 이상의 혜택을 받는 수급자 수의 비율은 85%가 된다. 이때, **t년 대비 t+30년 중복 수급자의 비율이 50% 감소하였으므로, A 수급자 비율인 77%와 B 수급자 비율인 ㉠%의 합이 90%**가 된다. 따라서 ㉠은 13이다.
4. 2~3을 벤다이어그램으로 나타내면 다음과 같다.



5. **중복 수급자 수는 t년과 t+30년이 동일**하다고 하였으므로 t년의 10%는 t+30년의 5%와 같다. 따라서 **t+30년의 총인구수는 t년의 2배**이다. 이를 바탕으로 t년의 총인구를 100명이라 가정하고 벤다이어그램으로 나타내면 다음과 같다.

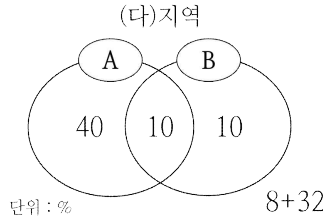
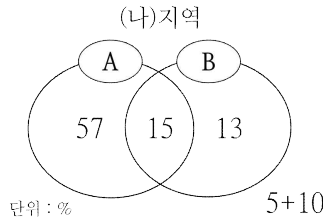
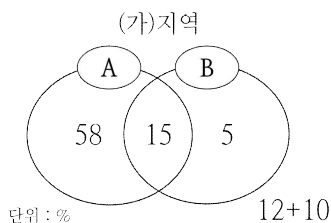


{Explanation}

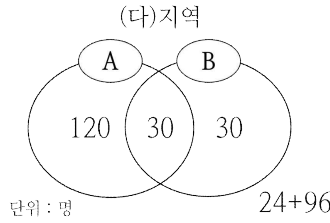
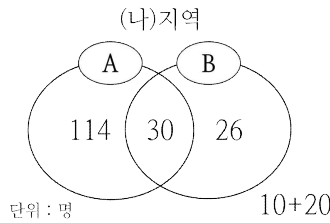
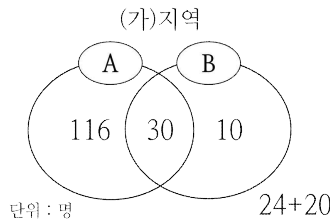
- ① ㉠(13)은 t년의 중복 수급자 비율(10)보다 크고 t+30년의 중복 수급자 비율(5)보다도 크다.
- ② 선별적 복지의 성격이 강한 제도는 공공 부조이다. 공공 부조에만 해당하는 수급자 비율은 t+30년(8)이 t년(16)에 비해 8%p 감소하였다. %와 %p의 구분에 유의해야한다. 공공 부조에만 해당하는 수급자 비율은 t+30년이 t년에 비해 50% 감소하였다.
- ③ 사회 보험과 공공 부조 모두 소득 재분배 효과가 있는 제도이다. 사회 보험과 공공 부조의 수급자 수는 t년(86)과 t+30년(170)이 동일하지 않다.
- ④ 정부 재정으로 비용을 전액 충당하는 것을 원칙으로 하는 제도는 공공 부조이다. 공공 부조에만 해당하는 수급자 수는 t+30년(16)과 t년(16)이 같다.
- ⑤ 상호 부조의 원리가 적용되는 제도는 사회 보험이다. t년에 사회 보험에만 해당하는 수급자 수(60)는 비(非)수급자 수(30)의 2배이다.

{Analysis}

1. A는 사회 보험, B는 공공 부조이다.
2. (가)지역의 비(非)수급자 비율의 합은 22%이다. 따라서 수급자 비율의 합은 78%이다. A 수급자와 B 수급자 비율의 합은 93%이다. 즉, A와 B를 모두 수급하는 중복 수급자가 93-78의 값인 15%만큼 존재한다는 의미이다. 따라서 ㉠은 '15'이다.
3. (나)지역의 A 수급자와 B 수급자 비율의 합은 100%이고, 중복 수급자 비율은 15%이므로 수급자 비율의 합은 100-15의 값인 85%이다. 따라서 비(非)수급자 비율의 합은 15%이고, ㉡은 '10'이다.
4. (다)지역의 비(非)수급자 비율의 합은 40%이다. 따라서 수급자 비율의 합은 60%이다. 이때, 중복 수급자의 비율이 10%이므로 A 수급자와 B 수급자 비율의 합은 60+10의 값인 70%이고, ㉢은 '20'이다.
5. 2~4를 정리하면 다음과 같다.



6. (가)~(다)지역의 중복 수급자 수는 동일하므로 각 지역의 중복 수급자 비율인 15, 15, 10의 최소 공배수인 30명으로 중복 수급자 수가 일치하도록 정리하자.
7. 이를 통해 (가)~(다)지역의 사회 보장 제도 수급자 수를 정리하면 다음과 같다.



{Explanation}

- ① 선별적 복지의 성격이 강한 제도는 공공 부조(B)이다. ㉠(15)은 (나)지역의 공공 부조에만 해당하는 수급자 비율(13)보다 크다.
- ② 부정적 낙인이 발생할 수 있는 제도는 공공 부조(B)이다. ㉡(10)은 (가)지역의 공공 부조에만 해당하는 수급자 비율(5)보다 크다.
- ③ 상호 부조의 원리가 적용되는 제도는 사회 보험(A)이다. ㉢(20)은 (다)지역의 사회 보험에만 해당하는 수급자 비율(40)의 1/2배이다.
- ④ (가)지역의 탈락자 수(24)보다 (나)지역의 비(非)탈락자 수(20)가 적다.
- ⑤ 급전적 지원을 원칙으로 하는 제도는 사회 보험(A)과 공공 부조(B)이다. 사회 보험과 공공 부조의 수급자 수는 (가)지역이 156명, (나)지역이 170명, (다)지역이 180명이다. 따라서 (다)지역이 가장 많다.

{Analysis}

1. 갑국 총인구 중 부양 인구 비율은 t년과 t+50년이 각각 40%, t+100년이 30%이다.

(단위: %)

	t	t+50	t+100
유소년			
부양	40	40	30
노인			

2. t+50년의 노인 부양비는 75로 t년의 3배이다. 따라서 t년의 노인 부양비는 25이다.

(단위: %)

	t	t+50	t+100
유소년			
부양	40	40	30
노인	10	30	

3. 또한, 비율의 합은 100이므로 t년과 t+50년의 유소년 인구 비율도 구할 수 있다.

(단위: %)

	t	t+50	t+100
유소년	50	30	
부양	40	40	30
노인	10	30	

4. t+100년의 노령화 지수는 250이다. 따라서 t+100년의 유소년 인구를 a라 할 때, 노인 인구는 2.5a이다.

(단위: %)

	t	t+50	t+100
유소년	50	30	a
부양	40	40	30
노인	10	30	2.5a

5. 이때, t+100년에서 a+30+2.5a=100이므로 a=20이다.

(단위: %)

	t	t+50	t+100
유소년	50	30	20
부양	40	40	30
노인	10	30	50

6. t+50년의 총인구는 t년의 2배이고, t+100년의 총인구는 t년의 1.5배이므로 t년의 총인구를 100명이라 할 때, t+50년은 200명, t+100년은 150명이다. 이를 이용하여 각 연도별 인구수를 구하면 다음과 같다.

(단위: 명)

	t	t+50	t+100
유소년	50	60	30
부양	40	80	45
노인	10	60	75
총인구	100	200	150

{Explanation}

- ① t년의 총부양비는 150이고 t+50년의 총부양비도 150이다. 따라서 t+50년의 총부양비는 t년과 같다.
- ② t년의 노령화 지수는 20이고 t+50년의 노령화 지수는 100이다. 따라서 t+50년의 노령화 지수는 t년의 5배이다.
- ③ t+50년의 부양 인구는 t년에 비해 100% 증가하였다.
- ④ 제시된 연도 중 유소년 인구는 t+100년이 가장 적다.
- ⑤ t년, t+50년, t+100년의 유소년 부양비는 각각 125, 75, 66.7이다. 따라서 t년이 가장 크고, t+100년이 가장 작다.

[Analysis]

- 아래쪽의 B/C에 대한 표부터 확인해보자. 갑국 t년에서 B/C=1/3이므로 B:C=1:3이다. 나머지를 모두 정리해보면 다음과 같다.

B : C	
갑국 t년	1:3
갑국 t+50년	2:3
을국 t년	1:6
을국 t+50년	2:3

- 다음으로, 위쪽의 B+C/A에 대한 표를 확인해보자. 갑국 t년에서 B+C/A=2/3이므로 B+C:A=2:3이다. 나머지를 모두 정리해보면 다음과 같다.

B+C : A	
갑국 t년	2:3
갑국 t+50년	1:1
을국 t년	7:13
을국 t+50년	1:1

- 1과 2를 이용하여 A:B:C의 비율 관계를 구해보자. B:C=1:3에서 B+C=4라고 가정하면, B+C:A=2:3=4:6이므로 A는 6이 된다. 나머지도 이를 적용하면 다음과 같이 A:B:C의 비율 관계를 구할 수 있다.

A : B : C	
갑국 t년	6:1:3
갑국 t+50년	5:2:3
을국 t년	13:1:6
을국 t+50년	5:2:3

- 3의 비율 관계를 정리하면 다음과 같다.

	갑국		을국	
	t	t+50	t	t+50
A	6	5	13	5
B	1	2	1	2
C	3	3	6	3

- 갑국 t년의 유소년 부양비는 50이다. 즉, 유소년:부양=1:2라는 의미인데, 이를 만족하는 것은 C=유소년, A=부양 밖에 없다. 따라서 A=부양, B=노인, C=유소년이다. 표를 다시 정리해보자.

	갑국		을국	
	t	t+50	t	t+50
유소년	3	3	6	3
부양	6	5	13	5
노인	1	2	1	2

- 갑국 t년의 전체 인구수를 100명이라 가정하고 표를 채우성하면 다음과 같다. 이때, t년의 갑국과 을국의 인구수가 같다는 것을 잊지 말자.

	갑국		을국	
	t	t+50	t	t+50
유소년	30	3a	30	3b
부양	60	5a	65	5b
노인	10	2a	5	2b
총인구	100	10a	100	10b

- t년 대비 t+50년의 갑국의 유소년 인구는 10% 감소하였고, 을국의 유소년 인구는 20% 감소하였다. 이를 이용하여 표를 완성해보면 다음과 같다.

	갑국		을국	
	t	t+50	t	t+50
유소년	30	27	30	24
부양	60	45	65	40
노인	10	18	5	16
총인구	100	90	100	80

(단위 : 명)

[Explanation]

- t년의 노년 부양비는 갑국이 1/6, 을국이 1/13이다. 따라서 갑국이 을국의 2배보다 많다.
- t+50년에 유소년 인구는 갑국(27)과 을국(24)이 다르다.
- t+50년에 갑국과 을국 모두 노인 인구가 차지하는 비율이 20%이므로 초고령 사회이다.
- t년에서 t+50년 사이에 갑국과 을국 모두 달리 저출산·고령화 현상이 나타났다.
- t년에 부양 인구는 을국(65)이 갑국(60)보다 많고, t+50년에 부양 인구는 갑국(45)이 을국(40)보다 많다.

[Analysis]

- 갑국과 을국의 각 연도별 15~64세 비율, 즉, 부양 인구의 비율을 기준으로 시작하자.

	갑국		을국	
	t	t+50	t	t+50
유소년				
부양	50	60	50	55
노인				

(단위 : %)

- 갑국 t년의 노령화 지수는 25이다. 이 말은 **갑국 t년의 유소년 인구 비율과 노인 인구 비율이 4:1**임을 의미한다. **갑국 t년의 유소년 인구와 노인 인구 비율의 합은 50%**이므로 이를 4:1로 나누면 **유소년 인구는 40%, 노인 인구는 10%**임을 알 수 있다.

	갑국		을국	
	t	t+50	t	t+50
유소년	40			
부양	50	60	50	55
노인	10			

(단위 : %)

- 갑국 t+50년의 노령화 지수는 100이다. 이 말은 **갑국 t+50년의 유소년 인구 비율과 노인 인구 비율이 1:1**임을 의미한다. **갑국 t+50년의 유소년 인구와 노인 인구 비율의 합은 40%**이므로 이를 1:1로 나누면 **유소년 인구와 노인 인구가 각각 20%**임을 알 수 있다.

	갑국		을국	
	t	t+50	t	t+50
유소년	40	20		
부양	50	60	50	55
노인	10	20		

(단위 : %)

- 을국 t년의 노령화 지수는 150이다. 이 말은 **을국 t년의 유소년 인구 비율과 노인 인구 비율이 2:3**임을 의미한다. **을국 t년의 유소년 인구와 노인 인구 비율의 합은 50%**이므로 이를 2:3로 나누면 **유소년 인구는 20%, 노인 인구는 30%**임을 알 수 있다.

	갑국		을국	
	t	t+50	t	t+50
유소년	40	20	20	
부양	50	60	50	55
노인	10	20	30	

(단위 : %)

- 을국 t+50년의 노령화 지수는 200이다. 이 말은 **을국 t+50년의 유소년 인구 비율과 노인 인구 비율이 1:2**임을 의미한다. **을국 t+50년의 유소년 인구와 노인 인구 비율의 합은 45%**이므로 이를 1:2로 나누면 **유소년 인구는 15%, 노인 인구는 30%**임을 알 수 있다.

	갑국		을국	
	t	t+50	t	t+50
유소년	40	20	20	15
부양	50	60	50	55
노인	10	20	30	30

(단위 : %)

- 갑국의 전체 인구는 t년 대비 t+50년에 10% 감소하였고, 을국의 전체 인구는 t년 대비 t+50년에 20% 감소하였다. 이때, 갑국과 을국의 t년 전체 인구는 동일하므로 갑국과 을국의 t년 전체 인구를 각각 100명이라 가정하면 **t+50년 갑국의 전체 인구는 90명, 을국의 전체 인구는 80명**이 된다. 이를 토대로 1~5에서 완성한 표를 인구수로 바꾸면 다음과 같다.

	갑국		을국	
	t	t+50	t	t+50
유소년	40	18	20	12
부양	50	54	50	44
노인	10	18	30	24
총인구	100	90	100	80

(단위 : 명)

[Explanation]

- t년과 t+50년 모두 갑국은 을국에 비해 저출산 현상이 약하게 나타난다.
- 갑국의 t년 노인 인구 비율은 10%이므로 초고령 사회가 아니다. 갑국 t년은 고령화 사회이고, 나머지는 모두 초고령 사회이다.
- t년 대비 t+50년의 노령화 지수 증가율은 갑국이 500%, 을국이 100%이므로 을국이 갑국보다 작다.
- t년에 을국의 유소년 인구(20)는 t+50년에 갑국의 유소년 인구(18)보다 많다.
- t년에 노인 인구는 갑국이 10명, 을국이 30명이므로 을국이 갑국의 3배이지만, t+50년에 노인 인구는 갑국이 18명, 을국이 24명이므로 을국이 갑국의 4/3배 (약 1.33배)이다.

[Analysis]

1. 가장 먼저, t년 갑국과 을국의 전체 인구가 같으므로 100명이라고 가정하면서 시작하자.

(단위 : 명)

구분	갑국		을국	
	t년	t+50년	t년	t+50년
유소년				
부양				
노년				
총인구	100		100	

2. t+50년의 인구는 갑국이 t년의 2배, 을국이 t년의 3배이다.

(단위 : 명)

구분	갑국		을국	
	t년	t+50년	t년	t+50년
유소년				
부양				
노년				
총인구	100	200	100	300

3. 을국의 t+50년을 제외하고 제시된 전체 인구 대비 노년 인구의 비율을 적용하면 다음과 같다. 여기서, t+50년 을국의 노년 인구는 $3 \times \text{㉠}$ 명으로 놓는다.

(단위 : 명)

구분	갑국		을국	
	t년	t+50년	t년	t+50년
유소년				
부양				
노년	10	70	10	$3 \times \text{㉠}$
총인구	100	200	100	300

4. 제시된 을국의 t년, t+50년 총부양비는 모두 100이다. 따라서 **을국은 t년과 t+50년 모두 유소년 인가와 노년 인구의 합이 부양 인가와 같다.** 즉, 전체 인구 중 부양 인구가 차지하는 비율이 두 시기 모두 50%이다.

(단위 : 명)

구분	갑국		을국	
	t년	t+50년	t년	t+50년
유소년			40	
부양			50	150
노년	10	70	10	$3 \times \text{㉠}$
총인구	100	200	100	300

5. 갑국의 t년 노령화 지수는 20이므로 유소년 인가와 노년 인구의 비가 5:1이고, 갑국의 t+50년 노령화 지수는 140이므로 유소년 인가와 노년 인구의 비가 5:7이다. 을국의 t+50년 노령화 지수는 100이므로 유소년 인가와 노년 인구의 비가 1:1로 서로 같다. 이때, **을국의 유소년 인가와 노년 인구의 비가 4:1이므로 을국의 노령화 지수는 25이다.** 따라서 ㉡은 25이다. 또한, $3 \times \text{㉠} = 75$ 이므로 ㉠은 25이다.

(단위 : 명)

구분	갑국		을국	
	t년	t+50년	t년	t+50년
유소년	50	50	40	75
부양			50	150
노년	10	70	10	75
총인구	100	200	100	300

[5번 다른 풀이] t+50년 을국의 유소년 인가와 노년 인구가 서로 같고 두 인구의 합은 150명이므로 두 인구는 각각 75명이다. 이때, 전체 인구 대비 노년 인구 비율은 $75/300$ 인 25%이므로 ㉠은 25이다.

6. 나머지 빈칸을 채워보자. 갑국의 t년 유소년 부양비는 125, 노년 부양비는 25이므로 총 부양비는 150이고, t+50년 유소년 부양비는 62.5, 노년 부양비는 87.5이므로 총 부양비는 150이다. 따라서 ㉡과 ㉢ 모두 150이다.

(단위 : 명)

구분	갑국		을국	
	t년	t+50년	t년	t+50년
유소년	50	50	40	75
부양	40	80	50	150
노년	10	70	10	75
총인구	100	200	100	300

[Explanation]

- ㉠. ㉡과 ㉢은 25로 서로 같고, ㉡과 ㉢은 150으로 서로 같다.
- ㉡. 을국의 t+50년 부양 인구(150)는 갑국의 t년 유소년 인구(50)의 3배이다.
- ㉢. t년 노년 부양비의 경우 갑국(25)이 을국(20)보다 크고, t+50년 유소년 부양비의 경우 을국(50)이 갑국(62.5)보다 작다.
- ㉣. 복지 지출의 필요성은 복지 정책의 적용 대상이 되는 인구에 비례한다. 갑국과 을국 모두 노년 인구가 증가하였으므로 노년 인구를 대상으로 한 복지 지출의 필요성이 커졌다.

[Analysis]

- 1. 전체 인구의 변화가 없다고 하였으므로 자료 해석 과정에 있어 총인구를 100명이라 가정하고 인구로 해석한다.
- 2. 갑국 t년의 유소년 인구는 부양 인구의 50%이고 노년 인구의 3배이다.

(단위 : 명)

구분	t년	A시기	t+30	B시기	t+50
유소년	30				
부양	60				
노년	10				
총인구	100		100		100

3. A 시기와 B 시기 동안 전체 인구의 변화는 없다.

(단위 : 명)

구분	t년	A시기	t+30	B시기	t+50
유소년	30				
부양	60				
노년	10				
총인구	100		100		100

4. 전체 인구 중 유소년 인구 비율은 A 시기와 B 시기 모두 감소하였다.

(단위 : 명)

구분	t년	A시기	t+30	B시기	t+50
유소년	30	▼	?	▼	?
부양	60				
노년	10				
총인구	100		100		100

5. 전체 인구 중 부양 인구의 비율은 A 시기에는 변화가 없고 B 시기에는 감소하였다.

(단위 : 명)

구분	t년	A시기	t+30	B시기	t+50
유소년	30	▼	?	▼	?
부양	60	=	60	▼	?
노년	10				
총인구	100		100		100

6. 유소년 부양비는 A 시기에는 감소하고 B 시기에는 증가하였다. 이는 B 시기에 유소년 인구가 감소한 정도보다 부양 인구가 감소한 정도가 더 크다는 것을 의미한다.

(단위 : 명)

구분	t년	A시기	t+30	B시기	t+50
유소년	30	▼	?	▼	?
부양	60	=	60	▼▼	?
노년	10				
총인구	100		100		100

7. 이에 따라, 노년 인구는 A 시기에는 유소년 인구가 감소한 만큼 증가하였고, B 시기에는 유소년 인가와 부양 인구가 줄어든 감소량의 합만큼 증가하였다.

(단위 : 명)

구분	t년	A시기	t+30	B시기	t+50
유소년	30	▼	?	▼	?
부양	60	=	60	▼▼	?
노년	10	▲	?	▲▲▲	?
총인구	100		100		100

[Explanation]

- ① A 시기에는 피부양 인구가 증가하지 않았다.
- ② B 시기에는 유소년 인구보다 부양 인구가 더 많이 감소한다. (Analysis 6번 참조)
- ③ 세대 간 갈등의 정도는 노년 부양비에 비례한다. 노년 부양비는 A 시기와 B 시기 모두 증가하고, B 시기에는 대폭 증가한다. 따라서 세대 간 갈등은 A 시기보다 B 시기에 더 심할 것이다.
- ④ t년의 총부양비는 약 66(40/60)이므로 100보다 작고, t+30년의 총부양비 역시 약 66(40/60)으로 t년과 동일하다. 이는 t+30년의 유소년 인가와 노년 인구를 정확히 파악할 수는 없지만, 총인구가 100명이고, 부양 인구가 60명임을 통해 유소년 인가와 노년 인구의 합이 40명임을 알 수 있기 때문이다.
- ⑤ 노년 인구는 t년 대비 t+30년과 t+30년 대비 t+50년 모두 계속 증가하고 있다. 따라서 t+50년의 노년 인구는 t년보다 많고 t+30년보다도 많을 것이다.

[Analysis]

1. 갑국 t년 부양 인구는 노년 인구의 7배
이므로 **노년 인구 비율을 a%라 할 때,
부양 인구 비율은 7a%**이다.

(단위 : %)

	t	t+30	t+50
유소년			
부양	7a		
노년	a		

2. 갑국 t년 노령화 지수는 50, 노년 인구 비율은
a%이므로 **유소년 인구 비율은 2a%**이다.

(단위 : %)

	t	t+30	t+50
유소년	2a		
부양	7a		
노년	a		

3. 이때, $2a+7a+a=100$ 이므로 $a=10$ 이다.

(단위 : %)

	t	t+30	t+50
유소년	20		
부양	70		
노년	10		

4. **A 기간과 B 기간 동안 전체 인구의 변화는
없으므로** 제시된 세 연도의 전체 인구를
100이라 가정하자.

5. A 기간인 t년 대비 t+30년에 노년 인구가
100% 증가하였으므로 t+30년 노년 인구는
20명이다.

(단위 : 명)

	t	t+30	t+50
유소년	20		
부양	70		
노년	10	20	
총인구	100	100	100

6. A 기간 동안 노령화 지수는 60% 증가
하였고 t년 노령화 지수는 50이므로
t+30년의 노령화 지수는 80이다. 따라서
유소년 인가와 노년 인구의 비가 5:4이고
노년 인구가 20명이므로 유소년 인구는
25명이다. 이에 따라 t+30년의 부양 인구는
55명이 된다.

(단위 : 명)

	t	t+30	t+50
유소년	20	25	
부양	70	55	
노년	10	20	
총인구	100	100	100

7. B 기간인 t+30년 대비 t+50년에 노년
인구가 50% 증가하였으므로 t+50년 노년
인구는 30명이다.

(단위 : 명)

	t	t+30	t+50
유소년	20	25	
부양	70	55	
노년	10	20	30
총인구	100	100	100

8. B 기간 동안 노령화 지수는 50% 증가
하였고 t+30년 노령화 지수는 80이므로
t+50년의 노령화 지수는 120이다. 따라서
유소년 인가와 노년 인구의 비가 5:6이고
노년 인구가 30명이므로 유소년 인구는
25명이다. 이에 따라 t+50년의 부양 인구는
45명이 된다.

(단위 : 명)

	t	t+30	t+50
유소년	20	25	25
부양	70	55	45
노년	10	20	30
총인구	100	100	100

[Explanation]

- ① A 기간에 유소년 인구는 20명에서 25명으로
증가하였고, 노년 인구는 10명에서 20명으로
증가하였다.
- ② B 기간에 부양 인구는 55명에서 45명으로
감소하였고, 노년 인구는 20명에서 30명으로
증가하였다.
- ③ A 기간과 B 기간에 증가한 노년 인구는
각각 10명으로 동일하다.
- ④ 양육에 대한 사회적 부담 정도는 유소년
부양비와 정(+)의 관계에 있다. 유소년
부양비는 t+30년에 25/55, t+50년에
25/45이다. 두 수의 분자가 같은 경우
분모가 작을수록 더 큰 수이므로 t+30년
보다 t+50년이 더 크다. 따라서 양육에 대한
사회적 부담 정도는 t+30년보다 t+50년이
더 크다.
- ⑤ 노동력 부족 정도는 부양 인가와 부(-)의
관계에 있다. 부양 인구는 t+30년에 55명,
t+50년에 45명이다. 따라서 부양 인구가
더 큰 t+30년보다 t+50년이 노동력 부족
정도가 더 크다. 세대 간 갈등 정도는 노년
부양비와 정(+)의 관계에 있다. t+30년 노년
부양비는 20/55, t+50년 노년 부양비는
30/45이다. t+50년 노년 부양비는 2/3
이지만 t+30년 노년 부양비는 1/2보다
작으므로 t+50년의 노년 부양비가 더 크다.
따라서 세대 간 갈등 정도는 t+30년보다
t+50년이 더 크다.

PART III

118

3

[Analysis]

- 20대 기혼 여성의 평균 임금과 20대 미혼 남성이 평균 임금은 같고, 이를 100달러라고 기준을 잡는다.
- 기혼 20대의 성별 격차 지수가 20이다. 기혼 남성을 x 달러, 기혼 여성을 100달러라고 했을 때, $\frac{x-100}{x} \times 100 = 20$ 이라는 식이 도출된다. 하지만, 문제를 풀이하는 데에 있어 x 의 값을 구할 필요는 없다.
- 미혼 20대의 성별 격차 지수는 10이다. 미혼 남성을 100달러, 미혼 여성을 y 달러라고 했을 때, $\frac{100-y}{100} \times 100 = 10$ 이라는 식이 도출된다. 따라서 y 의 값은 90임을 알 수 있다.
- 2번과 3번을 토대로 연령대별 평균 임금을 정리하면 다음과 같다.

	기혼		미혼	
	남성	여성	남성	여성
20대	120a	100	100	90
30대	142a	130	140	126
40대	165a	120	145	139.5
50대	170a	90	130	135
60대	110a	70	90	54

(단, a는 1보다 크다.)

[Explanation]

- ① ㉠은 '90'이다.
- ② 40대에서 기혼 남성과 기혼 여성 간의 성별 임금 격차 지수는 아무리 낮아도 27.3이 넘어간다. 반면, 미혼 남성과 미혼 여성 간의 성별 임금 격차 지수는 약 3.7이다. 따라서 40대에서 성별 임금 격차 지수는 기혼이 미혼보다 크다.
- ③ 50대 기혼 여성과 20대 미혼 여성의 평균 임금은 모두 90달러로 서로 같다.
- ④ 기혼 남성 40대와 50대의 평균 임금 차이는 5a달러, 미혼 남성 30대와 40대의 평균 임금 차이는 5달러이다. 이때, a는 1보다 큰 값을 가지므로 두 평균 임금의 차이는 다르다.
- ⑤ 미혼의 경우, 50대에서는 남성보다 여성의 평균 임금이 더 높다.

[Extra]

기혼 남성 평균 임금의 근사치를 구하면 다음과 같다.

	기혼		미혼	
	남성	여성	남성	여성
20대	125	100	100	90
30대	147.9	130	140	126
40대	171.8	120	145	139.5
50대	177.1	90	130	135
60대	114.6	70	90	54

119


1


- ㉠은 연구 대상자에게 연구의 정보를 알리지 않았으므로 연구 윤리에 위배된다.
- ㉡은 연구 대상자의 개인 정보를 삭제했더라도 자료를 연구 이외의 목적으로 사용했으므로 연구 윤리에 위배된다.

120

5

- ①, ②, ③, ④ 모두 (가)에 들어가기에 부적절하다.





KAIROS II

CHJ