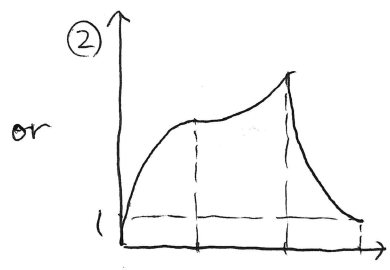
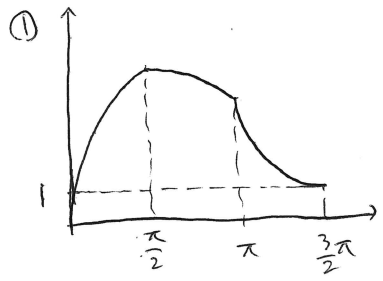



[기출문제] 해설

$$f(x) = \begin{cases} l \sin x + C_1 & (0 < x < \frac{\pi}{2}) \\ m \sin x + C_2 & (\frac{\pi}{2} < x < \pi) \\ n \sin x + C_3 & (\pi < x < \frac{3\pi}{2}) \end{cases}$$

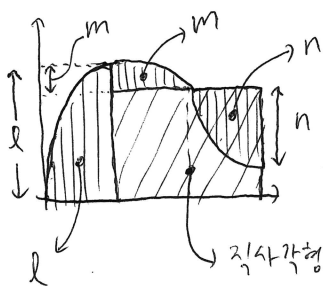
여기서  $f(0)=0, f(\frac{3\pi}{2})=1$  을 대입하면  $C_1=0, C_3=n+1$  이고  
 $x=\frac{\pi}{2}, x=\pi$  에서 연속임을 이용하면  $l=m+C_2, C_2=n+1$ .  
 $\therefore l=m+n+1$

$f(x)$ 의 그래프는  $(0, \frac{\pi}{2})$ 에서는  $\sin x$ 를  $l$ 배,  
 $(\frac{\pi}{2}, \pi)$ 에서는  $\sin x$ 를  $m$ 배,  
 $(\pi, \frac{3\pi}{2})$ 에서는  $\sin x$ 를  $n$ 배 한 다음 연속이 되게 이으면 된다.



정적분 값이 최대가 되어야 한다는 데서  
 기본적으로  $l, m, n$ 의 부호는  
 ①  $l > 0, m > 0, n > 0$  또는  
 ②  $l > 0, m < 0, n > 0$  으로 정해진다.

넓이는  $\int_0^{\pi} \sin x dx = 2$  임을 이용해 간단히 다음과 같이 구한다.

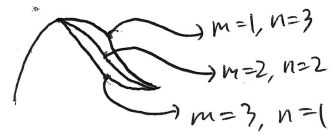


전체 넓이:  $l+m+\pi(n+1)-n = l+m+(\pi-1)n+\pi$   
 ②의 경우에도 구해보면 식은 똑같이  $l+m+(\pi-1)n+\pi$  가 나온다.

마지막에는 논리를 사용해  $l, m, n$ 을 결정한다. ( $l=m+n+1$  과  $|l|+|m|+|n| \le 10$  이용)

①에서  $l=m+n+1 \rightarrow l \ge 6$  이면  $m+n \ge 5, l+m+n > 10$  이므로 X

$l=5, m+n=4$  일 때



이므로  $l=5, m=1, n=3$  일 때  
 $4\pi+3$  으로 최대.

②에서  $l+(-m)=n+1 \rightarrow n \ge 5$  이면  $l+|m| \ge 6, l+|m|+n > 10$  이므로 X

$n=4, l+|m|=5$  일 때




이므로  $l=4, m=-1, n=4$  일 때  
 $5\pi-1$  으로 최대.

$4\pi+3 = 15.xx,$

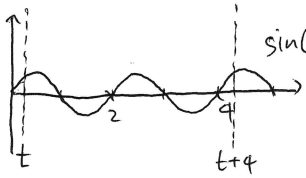
$5\pi-1 = 14.xx$  이므로 최대는  $l=5, m=1, n=3$  일 때.  $l+2m+3n = 5+2+9 = \boxed{16}$ .

[변형문제] 해설

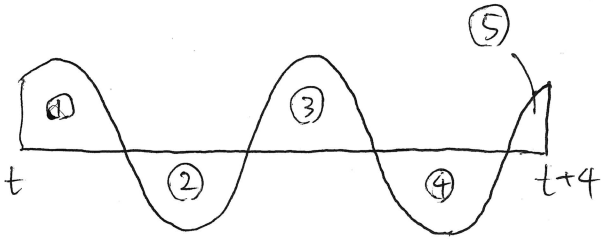
(다)에 따라  $f(x)$ 는 함숫값이 1, 2, 3, 4인 '구간'이 모두 존재해야 한다.

이때 (가)에 따라  $f(x)$ 가 불연속인 점이 3개뿐이므로  이런 식으로 함숫값이 1, 2, 3, 4인 구간이 한 번씩만 등장해야 한다.

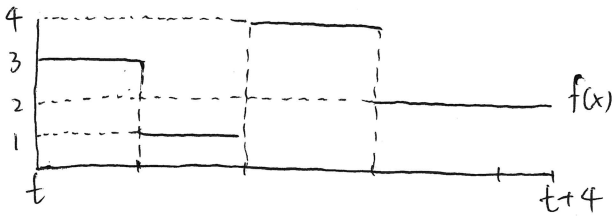
$f(x) \sin(\pi x)$ 의 정적분 값이 최대가 될 때를 생각해 보자.



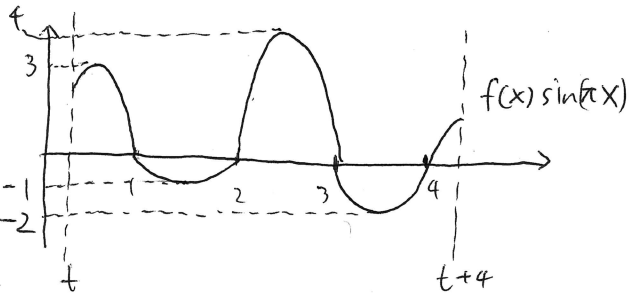
$\sin(\pi x)$ 는 왼쪽과 같이  $x$ 가 정수일 때를 경계로 양수인 부분(∩)과 음수인 부분(∪)이 있다. 따라서  $f(x)$ 를 곱했을 때 최대가 되려면 ∩ 부분에서는  $f(x)$ 가 크고, ∪ 부분에서는 작아야 한다.



왼쪽과 같이 각각의 구간에 ①~⑤의 번호를 붙인다면, ①, ③, ⑤에서는  $f(x)$ 가 크고 ②, ④에서는  $f(x)$ 가 작아야 한다. 그런데  $f(x)$ 가 1, 2, 3, 4인 구간이 한 번씩만 등장해야 하므로 ①, ③, ⑤에서는 각각 4, 3, 2 중 하나, ②, ④에서는 각각 1, 2 중 하나여야 한다.



$0 < t < \frac{1}{2}$ 일 때  $\sin(\pi x)$ 의 넓이는 ③ > ① > ⑤이므로, ③에서  $f(x) = 4$ , ①에서  $f(x) = 3$ , ⑤에서  $f(x) = 2$ 여야 한다.



$\int_0^1 \sin(\pi x) dx = \frac{2}{\pi}$ 임을 이용하면  $0 < t < \frac{1}{2}$ 일 때

$$g(t) = \int_t^{t+4} 3 \sin(\pi x) dx - \frac{2}{\pi} + \frac{8}{\pi} - \frac{4}{\pi} + \int_4^{t+4} 2 \sin(\pi x) dx$$

$$= \frac{1}{\pi} \cos \pi t + \frac{7}{\pi}$$

$$\therefore \int_0^{\frac{1}{2}} g(t) dt = \left[ \frac{1}{\pi^2} \sin(\pi t) + \frac{7}{\pi} t \right]_0^{\frac{1}{2}} = \frac{7}{2\pi} + \frac{1}{\pi^2}, 10a+b = \boxed{36}$$

\* 공통점

[2019 09 21]:

- ① 삼각함수의 각 구간을 '서로 다른 상수 배'
- ② 각 구간의 상수 사이 관계를 파악해 정적분의 최대값 기하적으로 추론
- ③ 삼각함수 넓이는 간단히 계산하기!

\* 추가점

[2018 11 30]:

- ① '정지한 함수' x '이동하는 함수'  
일정 구간에서의 적분값.
- ② 상수함수 x 삼각함수 꼴  
최대값 기하적으로 파악.

① 논리.